



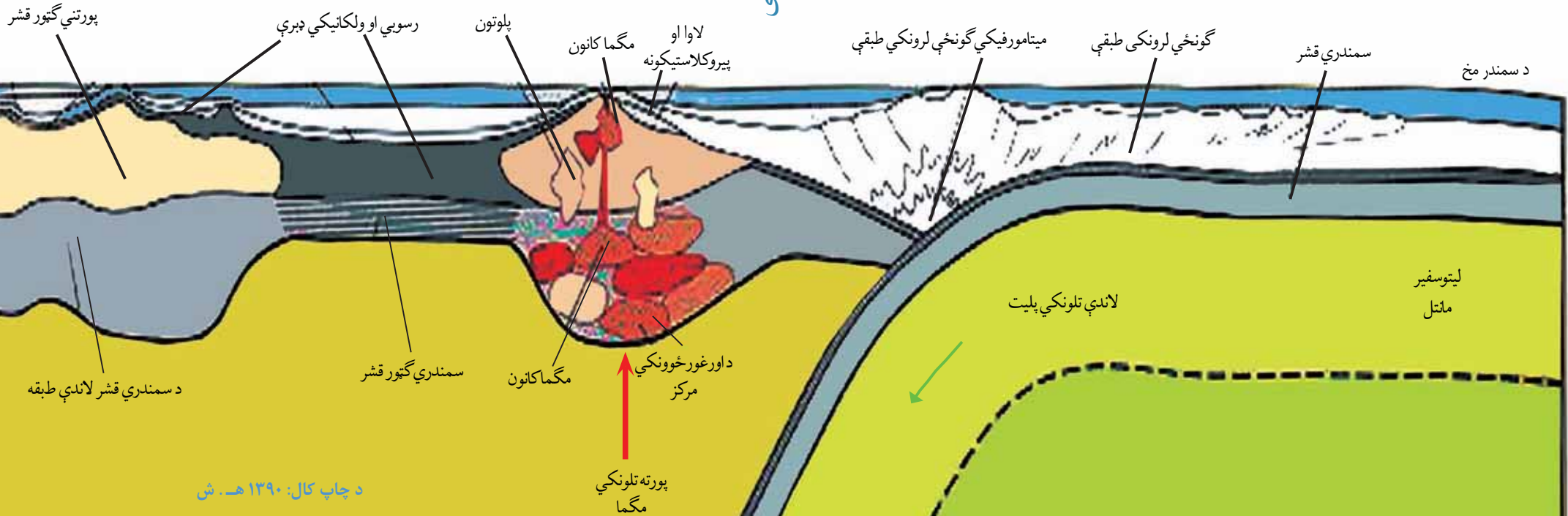
د پوهنې وزارت

د تعلیمي نصاب د پراختیا، د ښوونکو د روزنې او د سلینس د مرکز معینیت
د تعلیمي نصاب د پراختیا او درسي کتابونو د تالیف لوی ریاست

جیولوجی

لسم ټولگی

جیولوجی - لسم ټولگی





د پوهني وزارت

د تعلیمي نصاب د پراختیا ، د ښوونکو د روزني او د ساينس د مرکز معيشت د تعلیمي نصاب د پراختیا او درسي کتابونو د تالیف لوی ریاست

جیولوجی

لسم ټولگی

د چاپ کال: ۱۳۹۰ هـ ش.

ليکوال:

پوهندوی غلام فاروق خېلوآک

علمي اېډیټ:

پوهندوی غلام فاروق خېلوآک

د ژبې اېډیټ:

محمد سهراب ډیلار

دیني، سیاسي او کلتوري کمیټه:

- ډاکټر عطاء الله واحديار د پوهني وزارت ستر سلاکار او د نشراتو رئیس.

- حبيب الله راحل د تعليمي نصاب د پراختيا په ریاست کې د پوهني وزارت سلاکار.

- مؤلف مایل آقا متقي

د څارني کمیټه:

- ډکتور اسدالله محقق د تعليمي نصاب د پراختيا، د ښوونکو د روزني او د ساينس مرکز معین.

- ډکتور شېر علي ظریفی د تعليمي نصاب د پراختيا د پروژې مسؤول.

- د سر مؤلف مرستيال عبدالظاهر گلستاني د تعليمي نصاب د پراختيا او درسي کتابونو د تالیف

لوی رئیس.

کمپوز او ډیزاین:

عنايت الله غفاري او مير محمد سهيل انصاري





ملي سرود

دا وطن افغانستان دی
کور د سولې کور د توري
دا وطن د ټولو کور دی
د پښتون او هزاره وو
ورسره عرب، گوجر دي
براهوي دي، قزلباش دي
دا هېواد به تل ځلېږي
په سينه کې د اسيا به
نوم د حق مو دی رهبر

دا عزت د هر افغان دی
هر بچي يې قهرمان دی
د بلوڅو د ازبکو
د ترکمنو د تاجکو
پامير يان، نور ستانينان
هم ايماق، هم پشه يان
لکه لمر پر شنه اسمان
لکه زړه وي جاويدان
وايو الله اکبر وايو الله اکبر

بسم الله الرحمن الرحيم

د پوهني د وزير پيغام گرانو ښوونکو او زده کوونکو،

ښوونه او روزنه د هر هېواد د پراختيا او پرمختگ بنسټ جوړوي. تعليمي نصاب د ښوونې او روزنې مهم توکی دی چې د معاصر علمي پرمختگ او ټولني د اړتياو له مخې رامنځته کېږي. څرگنده چې علمي پرمختگ او ټولنيزې اړتياوې تل د بدلون په حال کې وي، له دې امله لازمه ده چې تعليمي نصاب هم علمي او رغنده انکشاف ومومي. البته نه بنيايي چې تعليمي نصاب د سياسي بدلونونو او د اشخاصو د نظريو او هيلو تابع شي. دا کتاب چې نن ستاسو په لاس کې دی، پر همدې ارزښتونو چمتو او ترتيب شوی دی. علمي گټورې موضوعگانې پکې زياتې شوې دي. د زده کړې په بهير کې د زده کوونکو فعال مسائل د تدریسي پلان برخه گرځيدلي ده. هيله من ښم دا کتاب له لارښوونو او تعليمي پلان سره سم د فعالې زده کړې د ميتودونو د کارولو له لارې تدریس شي او د زده کوونکو ميندې او پلرونه هم د خپلو لویانو او زامنو په باکفېته ښوونه او روزنه کې پرله پسې گله مرسته وکړي چې د پوهني د نظام هيلې ترسره شي او زده کوونکو او هېواد ته ښې برېاوې ور په برخه کړي. پر دې ټکي پوره باور لرم چې زموږ گران ښوونکي د تعليمي نصاب په رغنده پلي کولو کې خپل مسؤليت په رښتوني توگه سرته رسوي.

د پوهني وزارت تل زيار کاږي چې د پوهني تعليمي نصاب د اسلام د سپېڅلي دين له بنسټونو، د وطن دوستي د پاک حس په ساتلو او علمي معيارونو سره سم د ټولني د څرگندو اړتياو له مخې پراختيا ومومي. په دې ډگر کې د هېواد له ټولو علمي شخصيتونو، د ښوونې او روزنې له پوهانو او د زده کوونکو له ميندو او پلرونو څخه هيله لرم چې د خپلو نظريو او رغنده وړانديزونو له لارې زموږ له مؤلفانو سره د درسي کتابونو په لاسه تالیف کې مرسته وکړي.

له ټولو هغو پوهانو څخه چې د دې کتاب په چمتو کولو او ترتيب کې ښې مرسته کړې، له ملي او نړيوالو درنو مؤسسو، او نورو ملگرو هېوادونو څخه چې د نوي تعليمي نصاب په چمتو کولو او تداوين او د درسي کتابونو په چاپ او وپېش کې ښې مرسته کړې ده، مننه او درناوی کوم.

ومن الله التوفيق

فاروق وردگ

د افغانستان د اسلامي جمهوريت د پوهني وزير

فهرست

۵۹	دويمه برخه: بهرنی پروسي	۱	سريزه
۶۰	لومړی څپرکی	۲	لومړی برخه
	د سطحې (روان) او د ځمکې لاندې اوبو جیولوژیکي فعالیت	۱۳	لومړی څپرکی مفهوم او فزیکي ځانګړتیاوې
۶۰		۱۴	د لومړی څپرکی عمده ټکي
۶۱	د روانو اوبو تخریباتي عمل ؛	۱۵	د څپرکی
۶۲	د دانه لرونکو موادو لیریدول	۱۶	دویم څپرکی دمنرالونو تصنیف
۶۴	د ځمکې د لاندې اوبو جیولوژیکي	۱۹	د تصنیف بنسټ
۶۷	څپرکی عمده ټکي	۲۱	د جواهراتو او ګران بیه جوړې
۶۸	د څپرکی پوښتني	۲۱	څپرکی عمده ټکي
	دویم څپرکی	۲۲	د څپرکی پوښتني
۶۹	د یخچالونو جیولوژیکي فعالیت	۲۴	دویم څپرکی د افغانستان منرالي منابع
۷۲	څپرکی عمده ټکي	۲۵	د کانو تصنیف او عمومي معلومات
۷۳	د څپرکی پوښتني	۲۶	د فلزونو کانونه
۷۴	دویم څپرکی د بادونو جیولوژیکي فعالیت	۲۸	د تیلو او ګاز کانونه
۷۷	څپرکی عمده ټکي	۲۹	څپرکی عمده ټکي
۷۸	د څپرکی پوښتني	۳۰	د څپرکی پوښتني
۸۹	خلورمه برخه	۳۲	دویم برخه جوړې
۸۰	د ځمکې طبقه بندي	۳۵	لومړی څپرکی د اور مګماتي جوړې
۸۲	د ځمکې هسته	۳۷	منرالي ترکیب
۸۳	څپرکی عمده ټکي	۴۱	د مګماتي جوړو تصنیف
۸۴	د څپرکی پوښتني	۴۲	څپرکی عمده ټکي
۸۵	دویم څپرکی دوچولري کیدل	۴۳	د څپرکی پوښتني
۸۹	څپرکی عمده ټکي	۴۴	دویم څپرکی رسوئی جوړې
۹۰	د څپرکی پوښتني	۴۸	فزیکي او کیمیاوي فرسایش
۹۱	دویم څپرکی د سمندرونو او سمندرګیو د تلی پرمختیا	۵۱	د دویمو سکاره
۹۴	څپرکی عمده ټکي	۵۲	څپرکی عمده ټکي
۹۵	د څپرکی پوښتني	۵۲	د څپرکی پوښتني
۹۶	خلورم څپرکی پلیت څه شي دي	۵۷	دویم څپرکی میتامورفیکي جوړې
۹۷	غزني کمر بندونه او سمندري ژورې	۵۸	څپرکی عمده ټکي
۹۹	سمندري فاسیسونه		د څپرکی پوښتني

۱۳۹ خیرکي عمده ټکي
 ۱۴۰ د خیرکي پوښتني
 ۱۴۱ اتمه برخه سمندرونه
 ۱۴۲ لومړی خیرکي د سمندرونو تصنيف
 ۱۴۵ خیرکي عمده ټکي
 ۱۴۶ د خیرکي پوښتني
 ۱۴۷ دویم خیرکي لړنکي او شیانو گرافي
 ۱۴۷ څپي او جزرانو زونه
 ۱۴۹ د مالگي کچه
 ۱۵۰ سمندري رسوبات
 ۱۵۲ خیرکي عمده ټکي
 ۱۵۳ د خیرکي پوښتني

۱۰۰ خیرکي عمده ټکي
 ۱۰۱ د خیرکي پوښتني
 ۱۰۲ پنجمه برخه زلزله
 ۱۰۲ لومړی خیرکي
 ۱۰۲ بخش پنجم زلزله
 ۱۰۲ فصل اول تعريف هه ميکانيزم ----
 ۱۰۳ زلزلي
 ۱۰۶ د طبيعي چاپيريال پيښي
 ۱۰۷ سونامي ډوله سيلاندرونه
 ۱۰۸ خیرکي عمده ټکي
 ۱۰۹ د خیرکي پوښتني
 ۱۱۰ دویم خیرکي ساختماني جیولوجي
 ۱۱۰ گونځي او ډولونه ي
 ۱۱۱ چارډنه
 ۱۱۳ خیرکي عمده ټکي
 ۱۱۴ د خیرکي پوښتني
 ۱۱۵ شپږمه برخه ولکانولو جی
 ۱۱۶ لومړی خیرکي د فوران ماهيت او املونه يي
 ۱۱۷ ولکانونه
 ۱۲۰ دویم خیرکي طبيعي پيښي
 ۱۲۲ دلومړي او دویم خیرکي عمده ټکي
 ۱۲۳ د لومړي او دویم خیرکي پوښتني
 ۱۲۴ اومه برخه د ځمکي تاريخ
 ۱۲۶ لومړی خیرکي پالئولو جی
 ۱۳۲ خیرکي عمده ټکي
 ۱۳۳ د خیرکي پوښتني
 ۱۳۴ دویم خیرکي ستراتيگرافي
 ۱۳۴ د ستراتيگرافي تعريف او اهميت
 ۱۳۷ د پالئولو جی له نظره د طبقو ورتنه والي پړاونه
 ۱۳۷ د معلق عمر ټاکل

سریزه

د جیولوجی علم د ځمکې پیدایښت، ترکیب، جوړښت او د هغې له ذننیو او بهرنیو بدلونونو څخه بحث کوي. د جیولوجی د مطالعې او څیړنې ساحه ډیره پراخه ده او له دې امله اړینه بلل شوی تر څو دغه علم په بیلابیلو څانگو وویشل شي. د جیولوجی پوهانو د خپلو کالونو مطالعې او څیړنې په ترڅ کې پتلی ده چې دا علم په نور څانگو لکه منرالوجی، پتروگرافي، تاریخې جیولوجی، د سیمې جیولوجی، میومورفولوجی، کرسټالوگرافي، ساختماني جیولوجی، جیوتکنونیک، هایدروجیولوجی او نورو وویشي.

د جیولوجی د څانگو مطالعه د طبیعي ساینس د نور برخو له مطالعې سره تړلي ده، نو ځکه د جیولوجی پروسو په تشریح او توضیح کې فزیکي، بیولوجیکي او کیمیاوي مسائل روښانه نقش لري او له دې امله طبیعي ساینس د جیولوجیکي مطالعاتو او څیړنو بنسټ جوړوي.

جیولوجی له نورو مضمونونو لکه جغرافیه، میټرولوجی او استراټوژمی سره نږدې اړیکې لري او په ډیرو برخو کې د مطلوبو پایلو د لاسته راوړلو په موخه ګڼه مسائل تر څیړنې لاندې نیسي.

پر جیولوجیکي پروسو پوهېدل، د منرالونو او ډیرو پیزنل، د کانونو د نقشو جوړول او د زیرمو تیتیل د یوې ټولني لپاره اړین بلل کېږي، ځکه کانونه د هیوادونو اقتصادي اساس او بنسټ جوړوي او د خلکو د ژوندانه سطحه په اقتصادي لحاظ د کانونو او طبیعي زیرمو په شتون پورې تړلي ده. د فارس خلیج هیوادونه او د په ترون کې شامل هیوادونه د خپلو کانونو د محصولاتو له پیرلو څخه ډیره ګټه تر لاسه کوي. همدغه راز د امریکا متحده ایالتونه روسیه، جنوبي افریقا او نور ګڼ شمیر هیوادونه هم له خپلو طبیعي زیرمو څخه په لوړه کچه کار اخلي. د جنوبي افریقا لپاره د ترانسوال الماس د ګټې یوه لوړه سرچینه شمیرل کېږي. زموږ هیواد افغانستان د هغو هیوادونو له ډلې څخه دی چې ډیرې طبیعي زیرمې لري لږ تر لږه د فلزونو او غیر فلزونو ټول ډولونه په بیلابیله کچه زموږ په هیواد کې پیدا کېږي. داسې یو ځایي یا ولایت چې طبیعي زیرمې په کې نه لیدل کېږي ډیر کم تر سترګو کېږي. د بدخشان لعل او لاجورد، د پنجشیر زمره، د جګلک یاقرت، د پنج سره زره، د غوربند د فرنجل پولې میتالونه، د عینک مس، د حاجي ګګ اوسپنه او په لسګونو نور لوري او واړه کانونه زموږ د هیواد پورې په اړونده ساحه کې شتون لري چې له هغو څخه ځینې کانونه را ایستل شوي او ډیر شمیرلي لا همدغسې پټ پاتې دي.


زموږ د هیواد د کانونو او تکتونیکي ساختمانونو هر اړخیزه څیړنه ډیره په زړه پورې ده په تیره بیا چې دغه کانونه

د اقتصاد په پیاوړتیا کې اغیزمن ټاټیځې شې. د اقتصاد پیاوړتیا د خلکو د ژوند سطحه لوړوي او ټولیزه آسوده ګی رامنځته کوي. نو له همدې امله ټولو ته په تیره بیا ځوانانو ته لازمه ده چې د خپل هیواد پر جیولوجي، طبیعي زیرمو او سرچینو پوه شي او له هغو څخه ګټه پورته کړي. پدې مضمون کې چې د جیولوجي تر سرلیک لاندې به په لسم ټولګي کې تدریس شي جیولوجیکي بیلابیلې مسائل هر اړخیز تشریح او توضیح شوي او په بیلابیلو څپرکو کې ګڼ شمیر فعالیتونه د زده کوونکو د معلوماتو د زیاتوالي په موخه په نظر کې نیول شوي. هره برخه د جیولوجي یوه پیچلې او مغلقه پروسه بیانوي چې د برخې پورې اړوند څپرکي د برخې ټول جزئیات په تفصیل سره بیانوي.

لوهری، برخه

منرالونه

د تورمالین منرال پرې شوي او بنوډه شوي برخې او ټوټې
منرالونه، بڼکلي او قیمتي جواهرات دي.



د منرال مفهوم او فزیکي ځانګړتیاوې

کله چې د خپل هیواد په ښکلو درو کې ګرځئ، راګرځئ، او یا له غزینو سیمو څخه تېرېږئ، د شاوخوا طبیعت چې له ډبرو، لوړو تیرو او طبقو څخه جوړ دی ستاسو پام ځان ته را اړوي. کله هم ګڼ شمېر پوښتنې ستاسو په ذهن کې پېل کېږي چې دا ډبرې څنګه پېل شوي؟ له څه شي څخه جوړې شوي؟ او څرنګه یو پر بل ځای پر ځای شوي دي؟ کله چې د ګاڼو او ضمیمو دکانونو ته ځئ، او ډول، ډول زبور، ګاڼې او ضمی گورئ له ځانه پوښتنې چې دا ښکلي ضمی له کومه کېږي او څنګه جوړېږي؟ ایا زموږ په هیواد کې پېل کېږي؟ ایا دا ټول طبیعي دي؟ او دغه راز په سلګونو نوري پوښتنې. د دې څپرکي په لوستلو تاسو کولای شئ د دې پوښتنو ځوابونه تر لاسه کړئ او په دې به پوه شئ چې منرال څه شی دی؟ د منرالونو روڼوالي، بانی بانی کیدل او ظاهري بڼه څنګه ټاکل کېږي؟ او څرنګه فزیکي ځانګړتیاو څخه به ګټې اخیستې، د منرالونو بیژنلاندنه تر سره کېږي؟

منرال څه شی دی؟

لانډيني تصويرونه په څير وگورئ او لانډيني پوښتنې ځواب کړئ. دغه تصويرونه منرالونه او غير منرالونه راښيي.

(۱-۱) شکل منرالونه او غير منرالونه

۱. د منرالونو فزيکي ځانگړتياوې څه ډول دي؟ جامد، مايع او يا گاز ډوله.
۲. آیا نفت له منرالونو څخه شمېرل کېږي؟ ولې؟
۳. آیا منرالونه طبيعي حالت لري او که مصنوعي؟
۴. آیا هغه فلزي افغانی، چې تاسو سره په جيب کې دي منرال گڼل کېږي او که نه؟ ولې؟
۵. آیا منرالونه له عضوي توکو څخه جوړ شوي او يا له غير عضوي څخه؟
۶. آیا منرال له يوې خالصې مادې څخه جوړ شوي (عنصر يا مرکب) او يا دبېلابېلو موادو مخلوط دي؟

۷. آیا منرال مظه کرسنالي بڼه لري؟

د پورتنیو پوښتنو په اړوند فکر وکړئ د اړتيا پر مهال له ښوونکي څخه مرسته وخواړئ. زيار وراشي چې منرال تعريف کړئ بيا خپله ليکنه د لانډينو مطلبونو سره چې د منرال په اړه دي پرته کړئ.

هر منرال بايد لانډيني بڼه ځانگړتياوې ولري.

- بايد جامدوي نو اوبه او کنگل له منرالونو څخه نه شمېرل کېږي.
- بايد طبيعي وي نو د انسان په لاس جوړ شوي توکي منرال نه گڼل کېږي. مصنوعي الماس او فلزي پيسې هم له منرالونو څخه نه دي.
- بايد غير عضوي وي نو د ډبرو سکاره او نفت له منرالونو څخه نه شمېرل کېږي.
- بايد کيمياوي خالصه ماده وي نو له يوې خالصې مادې څخه د ډبرو مخلوط ته منرال نه ويل کېږي. خالصه ماده کېدای شي سروزر ، سلفر او الماس وي دغه راز منرالونه کېدای شي له کيمياوي مرکبو څخه هم جوړ شي لکه کوآرتز چې له دوو عنصرونو سيلکان او اکسيجن څخه او کلسيت چې له دريو کلسيم ، کاربن او اکسيجن څخه جوړ شوي دي. د کيميا د مضمون پخوانيو لوستونو ته راگرځو اود عنصر ، مرکب او مخلوط تعريفونه رايادوو ، يا ويالای شئ چې ولې سوره زر منرال او سوليم غير منرال دي.

• بايد کرسنال وي يعنې د منرال جوړونکي ائومونه او ايرونه په منظمه بڼه ځای پر ځای شوي وي؛ د بيلگي په ډول: هاليت تل مکعبې بڼه لري.



کرسال یخ



طلا




کوارتز



پایربایت



له هورا تخنه دک بائول

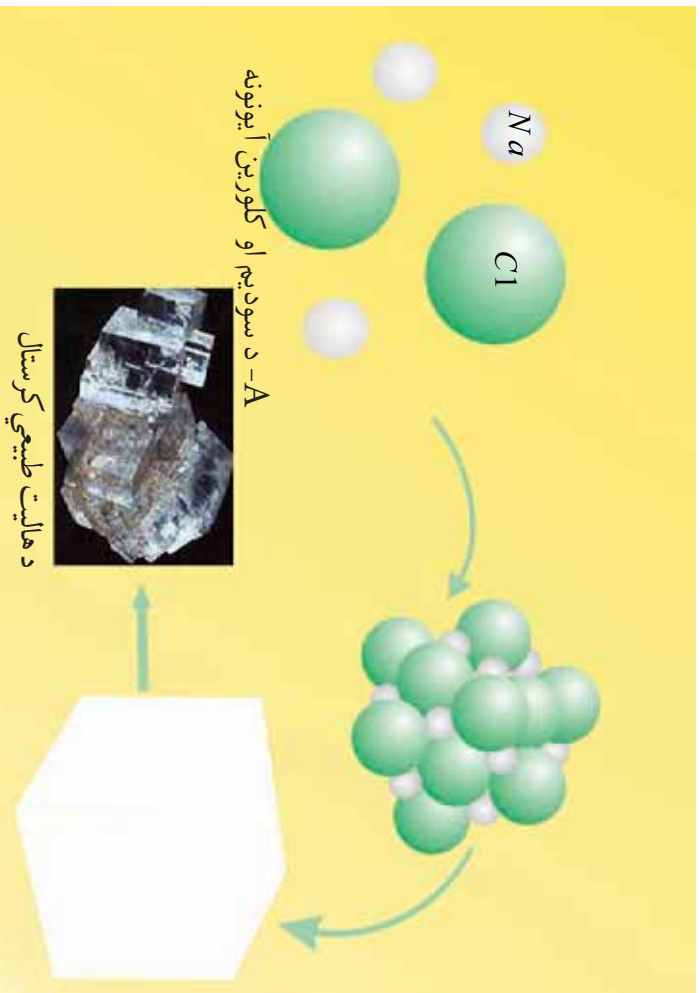


اوبه



پیشینه او پلاستیکی

(1-1) شکل بتی خواته غیر منرالونه او کیتی خواته منرالونه بنورد شوی دی



(۲-۱) شکل د هالیت د منرال طبیعی مکعبی کرسټالونه

یادونه: خیرشې، چې د سودیم (Na) او کلورین (Cl) آیونونه څه ډول سره یو ځای شوي او د منرال مکعبی بڼه یې جوړه کړې ده.

د منرالونو فزیکي ځانګړتیاوي

کولای شو هر منرال په اسانۍ وپېژنو که چېرې د نوموړي منرال فزیکي ځانګړتیاوي راته معلومي وي. دغه ځانګړتیاوي ډېرې ساده دي چې د منرالونو د پېژندنې په برخه کې زموږ سره مرسته کوي.




(۳-۱) الف شکل: د ملخیت منرال نمونه




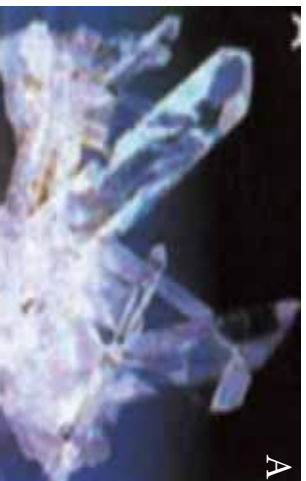
(۳-۱) ب شکل: د گالینیت منرال

رنگ: که د منرال کومه نمونه چې ستاسو په لاس کې وي او په خپلو سترگو کې ښه گورئ آیا کولای شئ د رنگ د ځانگړنې په مرسته، نوموړی منرال تشخیص کړئ؟ ځینې وختونه هو په دې مهال باید منرال د یو ډول رنگ لرونکی وي؛ د بیلگې په ډول: ملخیت Malachite د خپل شین رنگ، (3a-1) الف شکل او گالینیت (3b-1) ب شکل د خپل سړي خاورین رنگ په مرسته پېژندل کېږي.



(۴-۱) د هغو منرالو نو نمونې چې یو ډول رنگ لري

که څه هم ډیر داسې منرالونه شته چې د یو ډول رنگ لرونکي دي. (۴-۱) شکل کلسیت کوارتز او هالیت راښيي چې روڼ سپین رنگ لري. خو په دې حالت کې رنگ نه شي کولای د منرال د تشخیص او پېژندنې سره مرسته وکړي اړینه ده چې د منرال له نورو ځانګړتیاوو څخه کار واخیستل شي. له رنگ څخه نه شو کولای د منرالونو په بېلوالي کې ګڼه واخلو په دې حالت کې د منرال کرسټالي حالت د ارزښت لرونکي دي. کلسیت په رومیک او هالیت په مکعب شکل کرسټال کېږي. له ټولو څخه ستونز من حالت هغه دی چې منرال ډول ډول رنگونه ولري د بېلګې په ډول د کوارتز منرال په طبیعت کې په بیلابیلو رنگونو پیداکېږي: طبیعي روڼ، شیدو ډوله سپین، سور، بنفش او دودې تور (۵-۱ شکل) د منرال رنگ د نورو منرالونو د مخلوط په پایله کې بدلون مومي او په دې ډول منرال د مخلوط د رنگ تراغیز لاندې راځي او نوی رنگ خوره کوي.



(۴-۱) شکل: د هغو منرالونو نمونې چې د یو ډول رنگ لرونکي دي.
 a- سپین b- ګلابي c- شیدو ډوله سپین d- تور دودې
 (۵-۱) شکل: کوارتز د منرال لپاره څلور ډوله رنگونه راښيي.

د خط اثر

د خط اثر د منرال د پوډرو رنگ ته وايي. د منرال د خط اثر ځانگړنې د تشخيص لپاره اسانه لاره د نوموړي منرال کشف کول پر يوې سينيې کاشي تختې بنودل شوي دي .
د منرال د پيژندنې په موخه د خط اثر څخه دوهمه کارنه اخيستل کېږي؛ د بيلگې په ډول: سره زر د منرال او پيرايټ (FeS_2) دواړه طلايي رنگ لري خو د خط اثر يې يو له بل سره توپير لري.



(۶-۱) شکل: د خط اثر پر سينيې کاشي تختې

کلاکوالی (سختی)

د خپلې گوتې د نوک په مرسته، د سپین تیشیر یوه ټوټه وگورئ او وگورئ چې له دې دواړو کوم یز: تیشیر یا نوک یو تر بله کلاک دي او ولي؟

کلاکوالی د یو منرال د مقاومت قابلیت ته ویل کیږي چې د بل منرال په وړاندې یې د گرو لو بر مهال ښکاره کوي. په دې حالت کې کلاک منرال د نرم منرال، عمق ته دننه کیږي. کلاکوالی د منرالونو د دوولونو په پیژندلو او بیلوالی کې له ډیرو اغیزمنو ځانگړتیاوو څخه شمیرل کیږي، که چیرې یو جیولوجست د ماوروس جدول له ځان سره ولري کولای شي د هر منرال کلاکوالی معلوم کړي. (۱-۱) جدول

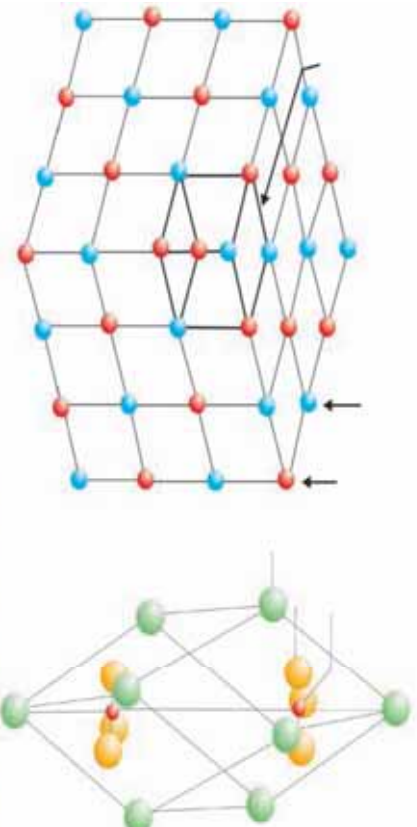
د ماوروس په جدول کې لس معمولي منرالونه ځای پر ځای شوي دي، ټالک له ډیرو نرمو منرالونو څخه چې کلاکوالی یې (۱) دي او الماس له ډیرو کلاکو منرالونو څخه چې کلاکوالی یې (۱۰) دی په دې جدول کې ایښودل شوي دي. کوارتز چې کلاکوالی یې (۷) دی کولای شي هغه منرالونه چې له (۱) څخه تر (۶) پورې کلاکوالی لري وگروي څخه شي کولای هغه منرالونه چې کلاکوالی یې له (۸) څخه تر لس وي خط کړي.

(۱-۱) جدول د ماوروس د کلاکوالی د ټاکلو جدول

معیاري کلاکوالی		د ماوروس د جدول پر بنسټ کلاکوالی	
۲،۵	دگوتي نوک	۱	ټالک
۳،۵		۲	گچ
۴،۵	مسی سکه	۳	کلسیت
۵،۵	د اوسپني ټوټه	۴	فلوریت
	د بښتني ټوټه	۵	اپائیت
۶،۵	پولادي چاقو	۶	ارتوکلاز
		۷	کوارتز
		۸	توپاز
		۹	کروند
		۱۰	الماس

که چیری تاسو د یوه منرال یوه ټوټه په لاس کې ولری او کلکوالی یې نه شی معلومولای، کوبینش وکړئ ترڅو د ماووس جدول څخه گټه واخلی او کلکوالی یې معلوم کړئ، کله چې مو معلومه کړه چې نوموړي منرال ارتوکلاز خط کولای شي خو پخپله د کوارتز په وسیله خط کیري نو د نوموړي منرال کلکوالی د ۶ او ۷ ترمنځ یعنی ۶,۵ دی.

پوښتنه: تاسو د دريو منرالونو کلسیت، گچ او کوارتز چې سپین رنگونه لري نمونې په لاس کې لری څنگه کولای شی چې د ماووس جدول څخه پرته د نوموړو منرالونو کلکوالی وټاکي پوښتنه: په یوه ساحه کې گرځي، راگرځي، او د یو منرال نمونه پیدا کړه په ذهن کې موگرځي چې بېلابېلې گچ وي د نوموړي منرال د معلومولو او تشخیص لپاره کومه آسانه لاره موجوده ده البته چې تاسو د ماووس جدول له ځان سره لری.



(۷-۱) شکل c د هالیت معکبي یا کرسټالي بڼه او (d) کلسیت رومبیک بڼه

ظاهري بڼه: ظاهري بڼه د منرالونو له بنسټيزو ځانګړتياوو څخه شميرل کېږي چې د منرال په پېژندنه او بيلوالي کې ترې ډيره ګڼه اخیستل کېږي ظاهري بڼه په طبيعت کې د منرال په کرسټالي او يا طبيعي شکل پورې تړاو لري. ظاهري بڼه د يو ډول منرالونو لپاره ثابتنه ځانګړنه ګڼل کېږي ځکه د منرال د جوړېدو پر شرايطو پورې تړلې ده.

(۱-۷) شکل: د هاليت کرسټالي يا مکعبې بڼه C او د کلسيت روميک بڼه D رانښيي يادونه: د کلسيت او هاليت منرالونو د جوړېدو څرنگوالی چې په کرسټالي شبکه کې د ائومونو او ايوونو يو ځای کېدل رانښيي د A او B په شکلونو کې ښودل شوي دي.

(۱-۸) شکل د هاليت مکعبې بڼه رانښيي او ټول کرسټالونه يې مکعبې دي د دې مکعبونو رنگ سپين دی خو د عکس له کيڼې خوا څخه د مرکز په لور نسواري رنگه معلومېږي



(۱-۸) شکل د هاليت مکعبې بڼه



(۱-۹) شکل د دريو منرالونو هر يو فلوريت (A) پلرايت (B) گالينيت (C)

(۱-۸) شکل : د هاليت مکعبې بڼه چې له کيڼې خوا څخه د مرکز په لور بڼې سپين رنگ په نسواري رنگ بدل شوي دي .

زياتره منرالونه يو ډول بڼې لري (۹-۱) شکل ښکاره کوي چې دري منرالونه د يو شان مکعبې کرسټالونو لرونکي دي. په دې حالت کې تاسو کولای شئ، د منرالونو د پيژندنې او بيلوالي په موخه د هغو له نورو ځانگړتياوو څخه کار واخلئ.

(۱-۹) شکل دري منرالونه چې مکعبې بڼه لري A فلوريت، B پلرايت او C گالينيت

پوښتنه: (۱-۵) شکل ته پاملرنه وکړئ په نوموړي شکل کې تاسو د کوارتز منرال گورځ ايا کولای شئ کوارتز چې بيلا بيل رنگونه لري د بڼې په مرسته وپيژنئ؟

د رقیق HCl په وړاندې غبرگون (عکس العمل)

ډیر منرالونه د رقیق HCl په وړاندې غبرگون (عکس العمل) نه ښيي نوکه چیرې تاسو د رقیق HCl یو څاڅکی د کاربناتونو ګروپ په منرالونو وختوئ سم دلاسه منرال خپل غبرگون ښيي او تاسو یې لیدلای شئ. د کاربناتونو د ګروپ بارز منرالونه عبارت دي له: کلسیت ($CaCO_3$) دولومیت $CaMg(CO_3)_2$... او نور.

جیولوجستان کله چې ساحې ته ځي په معمول ډول له HCl څخه ډک یو بوتل له ځان سره په طریاق کې لري.

نورې ځانګړتیاوې

یو منرال د نورو منرالونو سره په توپیر کېدای شي یوه جلا ځانګړتیا ولري. د بیلګې په ډول: هالیت NaCl د خپلې تروی مزی په لرلو سره پېژندل کېږي خو په ساحه کې موز د دې منرال کول مزه نه توصیه کوو. دغه راز مگنیت (Fe_3O_4) د خپلې مقناطیسي ځانګړتیا ورو پر بنسټ له نورو منرالونو څخه بیلیدای شي.

د څیرګي عمده ټکي

- منرالونه غیر عضوي جامد توکي دي چې په طبیعي ډول جوړېږي او د خالص کیمیاوي ترکیب اود داخلي منظمې کرسټالي شبکې لرونکي دي.
- د څو منرالونو مخلوط ته منرال نه ویل کېږي.
- منرال کېدای شي له یوه عنصر لکه سره زر جوړ شي خو ډیر منرالونه د مرکباتو په بڼه وي لکه کلسیت.
- کولای شو چې منرالونه د هغو د فزیکي ځانګړتیاو پر بنسټ له یو بل څخه بېل کوو.
- رنگ ، خط اثر ، کلکوالی او ظاهري بڼه د منرالونو له فزیکي ځانګړتیاوو څخه شمېرل کېږي.
- رنگ نه شي کولای د یوې اغیزناکې ځانګړنې په توګه عمل وکړي خو د ځینو مواردو پرته د بیلګې په ډول د ملخیت منرال.
- د بل منرال د ګرولو په وړاندې د منرال د مقاومت قابلیت ته کلکوالی ویل کېږي.

- هغه بڼه چې منرال په طبيعي ډول ځانته غوره کړي وي د منرال د ظاهري بڼې په نامه يادېږي.
- ظاهري بڼه د يو ډول منرالونو لپاره ثابته ځانگړنه ده.
- د منرال د پېژندلو لپاره د ظاهري بڼې ځانگړنه يوه نښه وسيله گڼل کېږي.

د څېړکي پوښتني

۱. کلکوالی، د خط اثر او ظاهري بڼه تعريف کړی؟
۲. ولي د رنگ له مشخصې څخه د منرالونو په پېژندنه کې دومره کار نه اخيستل کېږي؟
۳. ولي ظاهري بڼه د منرال د پېژندنې لپاره يوه ثابته مشخصه گڼل کېږي؟
۴. کله چې په يوه غرنۍ سيمه کې گرځي، راگرځي او يو روڼ منرال مو تر سترگو کېږي فکر کوی، چې الماس به وي، خرنگه د خپل فکر سم يا نا سموالی ثابتولای شی؟
۵. سره زر او پاپرايت دواړه طلايي ژبر رنگ لري څه ډول بې يوه تړله بيلولې شی؟
۶. ولي هغه منرالونه چې د کاشي له تختې څخه کلک دی د کاشي پر تختې اغېزه نه پېږېږي؟
۷. خرنگه د کاربناتونو د گروپ منرالونه له غير کاربناتونو څخه بيلولی شی؟
۸. له لاندنيو موادو څخه کوم يو بې منرال نه دی:
 - الف- گالينيت ب- ډبرو سکاره ج- کوارتز د- گچ
 - الف- ۳ ب- ۴ ج- ۵ د- ۶
۹. د اپايت کلکوالی درجه څو ده؟
۱۰. له لاندنيو منرالونو څخه کوم يو بې مکعبې بڼه لري.
 - الف- کوارتز ب- هاليت ج- پاپرايت د- فلورايت
۱۱. د ملامت منرال د کومې لاندني ځانگړنې په مرسته پېژندل کېږي:
 - الف- سختي ب- د خط اثر ج- رنگ د- ظاهري بڼه

دویم څپرکی

د منرالونو تصنیف

عمومي معلومات: په طبیعت کې له ۴،۰۰۰ څخه ډیر منرالونه کشف شوي دي دغه شمېر د نويو منرالونو په کشف سره هر کال په ډیرېدو دی، البته تاسو نه شی کولای چې د هر یو منرال ځانګړتیاوي مطالعه او زده کړئ، که چېرې غواړئ د هغو څیزونو په هکله چې په ځمکه کې شتون لري پوه شی. نا ممکنه بریښي. لومړۍ تاسو باید څه زده کړئ ترڅو د څیزونو او موادو د ګروپ په اړوند معلومات تر لاسه کړئ. د منرالونو صنف په نورورو ګروپونو ویشل شوي چې هر یو یې د اړوند ټولګي استازیتوب کوي، هر ګروپ د نوموړي ګروپ له استازي څخه په ګټه اخیستې ښه مطالعه کېدای شي او همدغه دلیل دی چې د منرالونو تصنیف اړین ګڼل شوی دی.

د دې څپرکي په مطالعي سره تاسو زده کونکي کولای شی چې منرالونه د هغو د جوړونکو اینیونونو مرسته تصنیف او د معمولي منرالونو ګروپونه مشخص کړئ، دغه راز د سیلیکاتونو ګروپ ښه وپېژنئ.

د تصنيف بنسټې

اوس جوته شوي چې منرالونه د هغو د انيونو پر بنسټ چې د منرالونو په تركيب كې شتون لري بڼه تصنيف كيداى شي.


پوښتنه: د كلست منرال چې د $CaCO_3$ كيمياوي فورمول لرونكي دى، څه ډول تصنيف كېږي؟
ليدل كېږي چې كلست د (Ca) كلسيم له كټيون او (CO_3) انيون څخه تركيب شوي دى ، له همدې امله كلست د كاربناتونو په گروپ كې شامليداى شي ځكه په خپله انيوني برخه كې (CO_3) يا كاربنات لري.

د گچ منرال چې فورمول يې $CaSO_4 \cdot 2H_2O$ دي په كوم گروپ كې شاملولاى شو؟ دغه راز په لسگونو نوري بيلگي په دې اړه شتون لري د بيلگي په ډول: پلرايت FeS_2 او هيماتايت Fe_2O_3 چې د انيوني برخې په پيژندلو سره يې گروپ او ټولگي معلوميداى شي.
د پورټينو معلو مانو پر بنسټ منرالونه په لاندنيو ډلو ويشل شوي دي.

۱. خالص عناصر لکه سره زړه، سلفر او الماس
۲. سلفايډونه لکه پلرايت FeS_2 او گالينيت b
۳. اکسايډونه او هايډروکسايډونه لکه هيماتايت (Fe_2O_3)
۴. کاربناتونه لکه كلست $(CaCO_3)$
۵. هالايدونه لکه هاليت $(NaCl)$
۶. سلفاتونه لکه گچ $(CaSO_4 \cdot 2H_2O)$
۷. فاسفاتونه لکه اپاتيت
۸. سيليكاتونه لکه فلدسپارونه

د سيليكاتونو گروپ

د سيليكاتونو گروپ د منرالونو له مهمو گروپونو څخه شمېرل کېږي چې لږ تر لږه له ۹۰ په سلو کې څخه ډېر منرالونه په کې شامل دي ډېري هم له سيليكاتي منرالونو څخه جوړې شوي دي چې د ځمکې په قشر کې په پراخه اندازه پيدا کېږي، نو له همدې امله اړينه بلل شوي چې سيليكاتونه په نورو کوچنيو ټولگيو او گروپونو ووېشل شي، له بله مرغه د هغو توپيرونو پر بنسټ چې د سيليكاتي منرالونو په منځ کې شتون لري دي ته اړتيا ليدل کېږي تر څو د هغو، جوړونکي کيمياوي توکي او کرسټالي جوړښت ډېر مطالعه شي چې دا کتاب د دې ظرفيت نه لري. سره له دې بيا هم په دې کتاب کې د سيليكاتونو اصلي گروپونه تشرېح شوي چې يوازې نومونه، فزيکي او کيمياوي ځانگړتياوي په کې شاملې دي. د سيليكاتونو گروپ د ډېرو جوړونکي منرالونه لري د بيلگې په ډول گرانيت چې له ډېرو مهمو ډېرو څخه شمېرل کېږي له فلديسپار او کوارتز څخه جوړ شوي او کچه يې د نورو سيليكاتونو په پرتله کمه ده



(۱-۲) شکل. د گرانيت ډېره چې که سيليكاتي منرالونو څخه جوړه شوې او په ترکيب کې يې فلديسپار کوارتز او هارن بلند شامل دي راښيي
ډېري د دې کتاب په دويمه برخه کې تشرېح شوي دي.

د معمولي منرالونو تشریح چي په (۲-۱) جدول کي راځي د منرالونو په پيژندلو کي مرسته کولای شي. **اوبیون:** شين زیتوني رنگ لري او په رخ لرونکي بڼه ليدل کيږي د کيمياوي ترکيب له مخي د اوسپني او مگنيزم له سيلکاتو څخه شمېرل کيږي.

پايروکسين: د اوبیون په څېر د اوسپني او مگنيزم له سيلکاتونو څخه گڼل کيږي خو کرسټالي بڼه يې د نوموړي منرال سره توپير لري پايروکسينونه په معمولي ډول په منشوري بڼه کرسټال کيږي او رنگ يې بيلا بيل ډولونه لري چي له شين رنگ څخه تر تور بجن رنگ پوري بدلون مومي د بيلگي په ډول: اوگيت.

اېروکوفه: دا گروپ خپله ځانگړي بڼه لري د دې گروپ ټول منرالونه د پاڼي په بڼه ليدل کيږي ناسو کولای شي د دې گروپ د منرالونو پاڼي د کتاب د پاڼو په څېر يو له بل سره جلا کړي، کيمياوي ترکيب يې له المونيم، کلسيم، سونيم، پوتاشيم او نورو عنصرونو څخه جوړ شوي دي. د ابرکوزونو رنگ په بيوتيت کي تور او په موسکويت کي ټي رنگه روڼ دي د دې گروپ بله بيلگه د تالک منرال دي چي د ماشومانو د پوډرو په جوړولو کي تری کار اخيستل کيږي.

فلدسپاروفه: د سيلکاتونو دا گروپ ډير پراخ او د منرالونو ډير ډولونه په کي شامل دي. په ټوليز ډول فلدسپارونه په پوتاشيمي فلدسپارونو لکه د ارتوکلاز منرال ($AlSi_3O$) او پلاجيوکلازونه لکه د اليت منرال ($NaAlSi_3O$) وپشل شوي دي.

د پلاجيوکلازونو گروپ له سوډيم او کلسيم څخه د پوتاشيم په شتون کي ترکيب شوي دي، د کوارتز گروپ د سيلکاتونو وروستي گروپ دی چي له سيلکان (Si) څخه پرته نور کټيونونه په کي نه ليدل کيږي. فورمول يې ډير ساده (SiO_2) دی چي په منشوري بڼه کرسټال کيږي، رنگ يې روڼ او بي رنگه او د کلکوالی درجه يې ۷ ده. کوارتز هغه منرال وي چي د ډيرو په ترکيب کي ډير تر سترگو کيږي.

جواهر او گران بيه ډبري:

جواهر او گران بيه ډبري هم منرالونه دي.

منرال بايد د کومو ځانگړتياوو لرونکي وي ترڅو له جواهرو او گران بيه ډبرو څخه وشميرل شي.

۱. منرال روڼ او يا لږ روڼ وي خو بېنکلی رنگ بايدلري.
۲. بايد بڼه کيمياوي او فزیکي مقاومت ولري يا په بل عبارت له اوبو، تيزابو او عطرونو سره تعامل ونه کړي ځکه ځينې تعاملونه د جواهرو ځانگړنو ته بدلون ورکوي او له مينځه يې وړي. فزیکي مقاومت په دې معنای چې له جواهراتو څخه په دوامداره توگه گټه واخيستل شي او بدلون په کې رانه شي. هغه کلک او سخت منرالونه چې د ماوروس جدول په وروستۍ برخه کې ځای پر ځای شوي له جواهراتو څخه شميرل کېږي نو الماس د ۱۰ درجې کلکوالی او ياقوت او سفيير د ۹ درجې کلکوالی په لرلو سره له رکم نظيرونو منرالونو څخه گڼل کېږي.
۳. بايد طبيعي وي.



(۳-۱) شکل قيمتي ډبري

۲-۱ دځینو مهمو منرالونو جدولی

د منرال نوم	رنگ	د خطاثر	کلوکوالی	تولگی
سوه زر	طلايي	نر طلايي		خالص عنصرونه
الماس	سوري لرونکي روڼ	نه لري	1	خالص عنصرونه
گالينيت	سپين زر رنگه، شين ډوله (حاکي)	تیاره خاورين	2	سلفایډونه
پلیریت	طلايي نر	تیاره نسواري	-	سلفایډونه
همیچايت	ډیر تیاره نسواري	تیاره نسواري	-	اکسایډونه
مگنیات	نور	نور	3	اکسایډونه
کلسیت	روڼ سپين	نه لري	3	کاربناتونه
ډولومیت	روڼ سپين	نه لري	3 - 4	//
ملچیت	شین	روښانه شين	3 - 4	//
گچ	روښانه سپين	نه لري	2	سلفاتونه
بارمیت	روښانه سپين، شوي، آبي	نه لري	3	//
هالیت	روښله سپين	نه لري	2	هالایډونه
فلوراپت	روښانه سپين، شين، سور	نه لري	4	//
اباپت	روښانه سپين	نه لري		فاسفاتونه
اولمین	زیتوني شين	نه لري	-	سیلیکاتونه
پایروکسین (اویکټ)	تیاره، تیاره شين	نه لري		//
امفیول (هارن بلند)	//	نه لري		//
موسکوکوت	روښانه شين، آبي رنگه نر	نه لري	2 - 2	//
میویت	تیاره شين، تیاره	نه لري	2 - 2	//
تالک	سپين خاورين	نه لري	1	//
فلسپار (اتوکلان)	خوښي ډوله سور، کلايي	نه لري		//
فلسپار (اپت)	//	نه لري		//
کوارتز	روڼ سپين، سور، بنفش ډولې	نه لري		//

د څپرکي عمده ټکي

- منرالونه د ايوونونو پر بنسټ ویشل کېږي.
- په ټوليزه توګه منرالونه په ۸ ډلو ویشل شوي دي.
- د سيلیکاتونو ګروپ د منرالونو دهمو ټولګيو څخه شمېرل کېږي چې ډېری منرالونه په کې ځای پر ځای شوي دي.

- ډېری طبيعي ډېري له سيلیکاتي منرالونو څخه جوړې شوي دي.
- کاربناتونه د منرالونو دویم مهم ګروپ دي چې د چوڼي ډېري تشکیلوي او په پراخه کچه موزنل کېږي.
- د ډېرو د بشپړې پېژندنې په موخه اړینه برېښي ترڅو منرالونه اود هغو ګروپونو په ښه توګه وپېژندل شي.

د څپرکي پوښتني

۱. منرالونه په کوم بنسټ ویشل کېږي؟
۲. د منرالونو کوم ګروپ ډیر پراخ شتون لري؟
۳. لاندني منرالونه په کوم ټولګي پورې تړاو لري؟
موسکوویت، ګالینیت، دولومایت، اپاتایت، کوارتز
۴. دوه ګونې منرالونه چې لاندې یې نومونه راځي دي له یو بله څنګه بیلولای شی؟
کلسیت او دولومایت، موسکوویت او بیوتیت
۵. په اقتصادي پراختیا کې د منرالونو اهمیت او ارزښت تشریح کړئ.
۶. د کاربناتونو د ګروپ منرالونه د کومو لاندینو څانګو تیاوو پر بنسټ پېژندل کېږي؟
الف- د تیزابو سره غبرګون ب- د رنګ څانګونه
ج- د کلکوالی څانګه تیا د- الف او ب
۷. د لاندینو منرالونو څخه کوم یو یې د اکسایدونو په ډلې پورې تړاو لري؟
الف- فلورایت ب- کوارتز ج- هیماتیت د- باریت
۸. د لاندینو منرالونو څخه کوم یو یې د هالایدونو په ګروپ پورې ارتباط لري؟
الف- دولومایت ب- فلورایت ج- هالیت د- ګچ

د افغانستان منرالې منابع

تل مو اورېدلې چې زموږ هېواد افغانستان ډېرې کاني زیرمې لري او کله کله مو زیار ایستلی تر څو پوه شي چې کوم گټور کاني څیزونه زموږ هېواد پورې د اړوندې خاورې په تل کې شتون لري؟

کله هم له ځانه پوښتنې چې د تېلو او غاز د ډیرو طبیعي زیرمو په لرلو سره، ولې موږ تیل او گاز له بهرنیو هېوادونو څخه واراوو.

څرگنده ده چې د طبیعي سرچینو شتون او له هغو څخه ګټه پورته کول، هېواد له اقتصادي ستونزو خلاصوي او خلکو ته سوکاله او آرامه ژوند وروڅښې ایا اړینه ګڼئ چې د هېواد د پرمختګ په لارو پوه شئ؟ ایا غواړئ معلومه کړئ چې زموږ هېواد د فلزاتو او قیمتي ډبرو له څو نامتو کانونو څخه پرته د غیر فلزاتو او فلزاتو نور کانونه هم لري؟

د دې څپرکي په لوستلو سره تاسو کولای شئ چې نه یوازې د پوښتنو پوښتنو څوابونه ترلاسه کړئ بلکې به هم پوه شئ چې د کوم فلز یا قیمتي ډبرې کان زموږ د هېواد په کومه سیمه او ولایت کې موقعیت لري او زیرمې یې څومره دي؟ آیا له هغو څخه ګټه اخیستل کېږي؟ کوم کان تر اوسه پورې مطالعه شوي او کوم یې نه دي مطالعه شوي؟

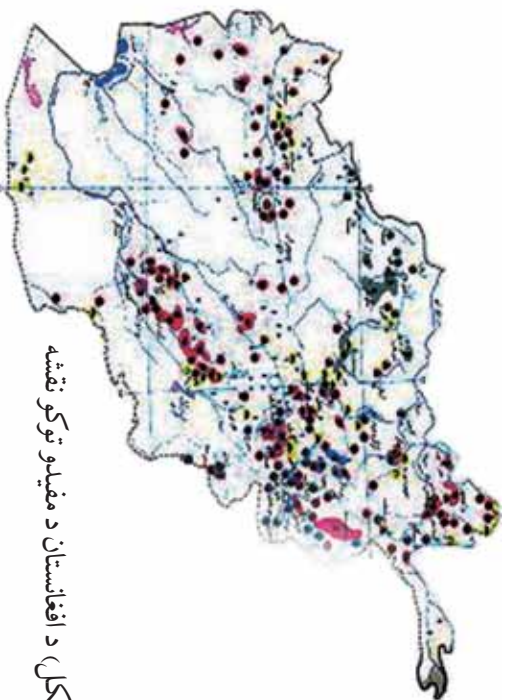
د کانونو تصنیف او عمومي معلومات

زموږ هيواد افغانستان دکتورو خيزونو زيرمي لري. فلزي او غير فلزي بيلا بيل گټور خيزونه، سوزندونکي گټور توکي، ساختماني خيزونه، قيمتي ډبري، تودي او کاني اوبه د دې هيواد د ځمکي په نل کې پيدا کېږي.

د تيلو او گازو کانونه د ترکستان تير بند د لړۍ په شمالي اړخ د هيواد په شمال کې واقع دي.

د ډبرو دسکر کانونه د هندوکش په شمالي اړخ د پاراپاميز په امتداد، د اوسپني کانونه په مرکز او شمال ختيځ کې د هندوکش او بابا دغرونو په لړۍ پورې تړاو لري.


د سربو، مسو او سرو زرو کانونه د هندوکش غره د لړۍ په شمال لويديځه سيمه کې ليدل کېږي چې وروسته يې د پراخيدو ليکه په دوو برخو وېشل شوي ده: يو بڼاخ يې د لويديځ لورته د پاراپاميز د غرونو لړۍ په امتداد او بل بڼاخ يې د جنوب لويديځ لورته د هلمند او ارزغاب د سيندونو ترمنځ پراختيا مومي. قيمتي ډبري لکه بريليوم، لاجورد، ارگنيت د هيواد په ختيځ يعني د بدخشان او نورستان په سيمو کې ليدل کېږي. د سلفرو او د خوړو مالګې کانونه دهيواد په شمال کې شتون لري.



(۱-۳ شکل) د افغانستان د مفيدو توکو نقشه

د فلزونو کانونه

زمرې: په هيواد افغانستان کې د گڼو رو فلزي-خيزونو لکه اوسپنه، منگانيز، کروم، مس، سرب، جست، المونيم، موليبدن، ولفرام، قلعي، بيسموت، ارسنيک، سرمه، سيماب د نازره او تيتو عناصرو لکه بريليوم، لتييم، سيزيوم، روبيديم، تانتاليم، نيونيم، کادميم، يورانيم، توريم او نجيبه فلزونو لکه سرو او سپينو زرو کانونه او کاني ظواهر شتون لري چې له هغو څخه يو شمير تر اوسه پورې کشف شوي نه دي او زيرمې يې هم تثبیت شوي نه دي او يو شمير نورې هم په داسې سيمو کې واقع شوي دي چې لاس رسې، ورته چير ستونزمن کار دی. په دې سيمو کې داسې کانونه هم ليدل کېږي چې لرې زيرمې لري او يا يې د اومو موادو کيفيت چير بڼه نه دی. د اوسپنې لورې کان چې په جنوب ختيځه آسيا کې يې سارې دی- دحاجي گگ د اوسپنې کان دی چې د باميان په ولايت کې موقعيت لري. داکان د ميليونو تنو په شاوخوا کې پيش بيني شوي زيرمه لري.



(۲-۳) شکل د حاجي گگ د کان د يوې ځنډې بڼه

د اوسپنې نور کانونه له تگاب، حاجي علم، جبل السراج، نقره خانه، پلنگ سر او نورو کاني ظاهرو څخه عبارت دي چې د هيواد په بيلايلو سيمو کې واقع شوي دي. د کروميټو کان د افغانستان د لوگر په ولايت کې د برکي راجان بناوگوتي ترڅنګ د کابل جنوب لور ته پروت دی چې احتمالي زيرمه يې شاوخوا ۵۰۰ زره ټنه اټکل شوي ده. د افغانستان د منگينزو کاني ظواهر د غوربند په فرنجل کې ترسترگو کېږي چې د منگانيزو کچه يې په کاني ډبرو کې له ۲۸ څخه تر ۳۸ سلنه پورې ده چې د کوبالت او نکل کچه په کې به ترتيب سره

او 1 ترخه تر 3 سلنه ده ، د افغانستان رنگه فلزونو کانونه د مسو ، سربو ، جستو او المونيمو ترخه عبارت دي.

د عينک د مسو کان د نړۍ په سطحه يو لوی کان دی چې د کابل په کاني ناحیه د لوگر په ولايت کې واقع شوی دی د نوموړي کان برسیره د در بند او جوهر کانونه هم په دې ناحیه کې شتون لري. د مسو اصلي زيرمي د عينک په کان کې قرار لري چې په دريو برخو مرکزي، جنوبي او ختيځه وېشل شوي دي. د کابل پر کاني ناحیه برسیره د مسو کانونه د هرات ولايت د زنجان په کاني ناحیه او د هلمند ولايت د ارزغاب په کاني ناحیه کې هم ليدل شوي دي.



(۳-۳) شکل دمسو بوکان

د جستو او سربو کاني ظواهر په افغانستان کې ډير ليدل شوي خو د دې فلزونو لوی صنعتي کانونه لا تر اوسه پورې تثبیت شوي نه دي. خو احتمالي زيرمي يې د ۴۳۰ زرو ټونو په شاوخوا کې اټکل شوي دي. د غوربند د فرنجل کانونه او کاني ظواهر د بيلابيلو فلزونو لرونکي دي چې له سربو او جستو سر برسیره يوه انازاه سره او سپين زر هم په کې شتون لري.

د المونيمو زيرمه د کندهار ولايت د باتوشيله په کان کې تثبیت شوي چې د بوکسيتو د طبقو پنډوالی په کې له ۲ څخه تر ۱۲ مترو بدلون مومي او لږ تر لږه ۵,۳ کيلومتره اوږدوالی لري؛ له دې ډولې څخه د سرو زرو کانونه په زرکشان، هلمند، دتخار په کول دوزا کې د ډير اهميت لرونکي دي. له دې کانونو څخه په ځينو کې د سرو زرو را ايستل هم پيل شوي دي.

خالص سپين زر د افغانستان په پولي ميتالي کانونو په ځانگړي ډول د قلعه اسد فرنجل په کانونو کې ليدل شوي دي چې په کاني جوړو کې د سپينو زرو کچه په پرتل کې له ۱۸۰ څخه تر ۲۰۰۰ گرامو پورې بدلون مومي.

بيريليم، لپتيم، تانتاليم او نيوبيم د افغانستان په ختيځه سيمه په نورستان ولايت او د جلال آباد ښار شمال او لوېديځ ته په پيچ دره، شيگل دره او دره نور کې ليدل شوي دي.

د تېلو او گاز کانونه

د افغانستان د تېلو او گازو جوړو کانونه د هېواد په شمال کې واقع شوي دي چې له دې ډلې څخه د جنگل کلان، بازارکمي، جمعه، جرقلق، پتيم تاق، خواجه گوگردگ، انگوت، زمرد ساي او نور.... کانونه تشييت شوي او ځينې خوږې را ايستل شوي هم دي.

د ډبرو سکارو کانونه

په افغانستان کې تر اوسه د ډبرو سکارو شاوخوا ۲۰ کانونه تشييت شوي چې له هغې ډلې څخه يې ۱۰ کانونه صنعتي ارزښت لري د هېواد په شمال کې د کرکړ، دوکښ، دره صوف او آ شيشته د ډبرو سکارو له کانونو څخه او په لوېديځ کې د هرات د سبرک د ډبرو سکارو له کان څخه د ډبرو سکارو را ايستل روان دی.

دفلزونو او د سون د موادو د کانونو برسیره غیر فلزونه هم پير د اهميت وړ دي د بلخشان لا جوړه، د پنجشير زمرد، د جگلاک عقيق، اکوامارين او ياقوت او نور په هېواد کې د ډبر شهرت لرونکي دي. د مرمر او ارگونيت، فلوريت، خالص سلفر، باريټ، تالک، گرافيت، ابرک او نورو گټورو څيزونو کانونه د دې هېواد د ځمکې په مخ او تل کې شتون لري.

د خپړکي عمده ټکي

- د فلزي او غیر فلزي خپړونو بیلایل ډولونه، د سون مواد، د ساختماني مواد، قیمتي ډبري، کاني گرمي اوبه د دې هیواد اړوندې خاورې پر مخ او تل کې پیدا کېږي.
- د تېلو او ګازو کانونه د تیر بند ترکستان د لړۍ شمال اړخ ته د هیواد په شمال کې موقعیت لري.
- د ډبرو سکارو کانونه د هندوکش په شمالي خنډه کې د پاراپامیر په امتداد موقعیت لري.
- زمونږ په هیواد افغانستان کې د فلزي ګټورو خپړونو لکه: اوسپنه، منګانیز، کرومیت، مس، سرب، جست، المونیم، مولهین ولفرام، قلعي، بیسموت، ارسینیک، سرمه او سیماب کانونه او کاني ظواهر شتون لري.
- د اوسپني لوي کان چي په جنوب ختيځه آسيا کې بېلګې دي. د حاجي ګګ د اوسپني کان دې چي د باميان په ولايت کې شتون لري.
- د افغانستان د کرومیتو کان د کابل ښار جنوب لورته دلوګر په ولايت (د کابل کاني ناحیه) کې موقعیت لري.
- خالص سسین زر د افغانستان په پولي ميتالي کانونو په ځانګړي ډول د قلعه اسد او فرنجل په کانونو کې لیدل شوي دي.
- د تېلو او ګازو له کانونو څخه د جنگل کلان، جمعه، جرقق، یتیم تاق، خواجه گوگرد، انګوت، زمر د ساي او بازار کمي کانونه تثبیت شوي او له ځینو څخه یې د تېلو او ګازو را ایستل جریان لري.
- په افغانستان کې تر اوسه د ډبرو سکارو لږ تر لږه ۲۰ کانونه تثبیت شوي چې له دې ډلې څخه یوازې ۱۰ کانونه صنعتي ارزښت لري د کرګر، دودکش، دره صوف، آپشسته او سبرګ کانونه د افغانستان له مشهورو کانونو څخه شمېرل کېږي.
- د قیمتي او زینتي ډبرو لکه لاجورد، زمره، عقیق، یاقوت کانونه د ډبر شهرت لرونکي دي.
- د مرمر او ارګونیت، فلوریت، خالص سلفر، باریت، تالک، ګرافیت، ابرک او نورو موادو کانونه هم په افغانستان کې شتون لري.

د څپرکي پوښتنې:

۱. د تيلو او گازو کانونه زموږ د هيواد په کومه برخه کې موقعيت لري؟
 ۲. د هيواد د ډبرو سکارو د مشهورو کانونو نومونه واخلئ.
 ۳. د سرو او سپينو زرو کانونه زموږ د هيواد په کومه برخه کې پيدا کېږي؟
 ۴. د حاجي گگ د اوسپني کان په اړه څه پوهېږئ توضيح يې کړئ.
 ۵. د مسو او کرميتو کانونه په کومه کاني ناحيه او کوم ولايت کې موقعيت لري؟
 ۶. د سرب او جست کانونه په کومو لاندنيو سيمو کې شتون لري؟
- الف- د غوربند په فرنجل کې ب- قلمه اسد کې
- ج- نواره کې د- هيخ يو
۷. هغه قبيعتي او زبنتي ډبرې چې زموږ په هيواد کې پيدا کېږي نومونه يې واخلئ؟
 ۸. د افغانستان په ختيځ کې د فلزونو کوم ډولونه پيدا کېږي؟ توضيح يې کړئ.
 ۹. آيا د افغانستان د تېلو او گازو له کانونو څخه را ايستل پيل شوي دي؟ توضيح ورکړئ چې له کومو کاني سيمو څخه د گاز را ايستل جريان لري؟
 ۱۰. د منگانيز کاني ظاهر په کومه يوه لاندني سيمه کې ليدل شوي؟
- الف- د غوربند په فرنجل کې ب- عينک کې
- ج- بدخشان کې د- نورستان کې

دويمه برخه ډبري

په کوم ځای کې چې اوسپړۍ بڼلې د ډبرو لړۍ او کوچنۍ ټوټې چې بېلابېل رنگونه لري وگورئ لکه د دې مخ عکسونه په ليدلو سره بېلابېلې پوښتنې مو په ذهن کې پيدا کيږي او له ځان څخه پوښتنه کوي چې:

- ۱- دا ډبري څه ډول جوړې شوي دي؟
 - ۲- د دې ډبرو ترکيب څه ډول دی؟
 - ۳- ولې يوه ډبره له بلې سره توپير لري؟
 - ۴- څرنگه کولای شو چې ډبري وپيژنو؟
- د دې څپرکي په مطالعې سره کولای شئ خپل ځوابونه تر لاسه کړئ.
- د ځمکې جامه قشر له ډبرو جوړ شوي دي، کومې ډبرې چې په بېلابېلو جيو لوحيکي شرايطو او مهالونو کې منځ ته راغلي او د فلزي او غير فلزي منرالونو ترکيب لري.
- ډبري دا ډول تعريفوي

ڊبري طبعي ڇيڙو نه ڏي ڇي، ڊيو يا ڇو منرالونو ڇخه جوڙي شوي ڏي. څرنگه ڇي پورهيو د ڄمڪي د قشر بيلا بيلي، برخي له بيلا بيلو ڊبرو ڇخه جوڙي شوي ڏي نو د ڊبرو پيڙنڊني پوهان، دغه ڊبري ڇي هر يوه ٻي د پيلاڀينٽ ڄانگري منڌا لري په دريو بنسٽيڙو ڊلو وڃي:

د اور ڊبري (مگمائيڪي) ڇي د ڄمڪي د قشر په مخ او يا تل ڪي د مگمائيڪي مڌاني د سريلو په پايله ڪي منڄ ته راڃي.

رسوبي ڊبري ڇي د پخوانيو تشڪيل شورو ڊبرو (د اور ڊبري، متحوله او رسوبي) د تخريب او فرسائش په پايله ڪي په يوه رسوبي حوزه ڪي منڄ ته راڃي.

متحوله ڊبري ڇي د فزيڪي، ڪيمياوي او جيو لوجيڪي بيلا بيلو عواملو په پايله ڪي دمگمائيڪي او رسوبي ڊبرو د بدلون او تحول ڇخه منڄ ته راڃي.

لوهری څپرکی

د اور (مگماتیکی) ډبري

د دې ډبرو اصلي تشکیلونکي توکي د ځمکې له تل څخه منشا اخلي او د ځمکې د تل په ځینو برخو کې ځای پر ځای کېږي. کله هم دغه مواد د ځمکې مخ ته راوځي او د مگماتیکی ډبرو بیلابیل ډولونه جوړوي. د دې ډبرو ډبري له بیلابیلو کرسټالي منرالونو څخه چې بیلابیل کیمیاوي ترکیب لري تشکیل شوي دي.

هغه ډبري چې د ځمکې پر مخ منځ ته راځي کرسټالي بڼه نه لري ځکه په آزاده فضا کې ډبر ژر سربړي.

د لاندینو ټکو په مطالعې سره کولای شئ د مگماتیکی ډبرو په اړه بشپړ معلومات تر لاسه کوئ.

- د مگماتیکی ډبرو دتشکیلیدو شرطونه.
- د مگماتیکی ډبرو جیوترمال حرارت او تګسچر.
- د منرالي ترکیب پر بنسټ د بوټون تعاملې لړۍ.
- پلوتونیکي (صمقي) او ولکانیکي (سطحي) ډبري.

د اور ډبري (مگماتیکی ډبري): کله چې د مگما تودوخه د بیلابیلو پړاوونو په ترڅ کې لږوالی مومي منرالي ذرې په کرسټالیدو پیل کوي.

ډبري مگماتیکی ډبري کرسټالي بڼه لري چې په سترگو لیدل کېږي او له دې امله دغو ډبرو ته کرسټالي ډبري وايي. د توف ځینې ډولونه او یا هغه څیزونه چې د اورشیندنونکي له خولې د باندې غورځول کېږي له سربینا کو موادو سره یو ځای کېدو وروسته او د ډبرو بیلابیل ډولونه جوړوي خو دا ډبري کرسټالي بڼه او فسیلونه نه لري چې له رسوبي ډبرو څخه یې د توپیر بڼه نښانه شمیرل کېږي.

مگما او جیوترمال حرارت: مگمایوه یوناني کلمه ده او هغې ځمیري ډوله کتلې ته وايي چې پلاستیکی

ځانگړنه او په هره بڼه د اوبښتو وړتيا ولري.

په ننني علمي اصطلاح کې مگما له هغو وييلې او روښانه طبيعي موادو څخه عبارت ده چې په عمده ډول له دوه ډوله گازي او غير گازي موادو څخه ترکيب شوي ده.

په مگما کې شامل گازي مواد عبارت دي له: هايډروجن ، اوبه ، کاربن ډاي اکسايډ ، ميثان ، نايټروجن ، سلفر ، ارگون ، کلورين او نور.

په مگما کې شامل غير گازي مواد عبارت دي له: سوډيم اکسايډ ، د سليکان اکسايډ ، د المونيم اکسايډ ، د اوسپني اکسايډ ، مگنيزيم اکسايډ ، د کلسيم اکسايډ ، او په لږه کچه د تيتان اکسايډ او د منگان اکسايډ. د مگما حرارت تر کومه چې په فعالو اور شيندونکو په ځانگړي توگه په قلوي ډوله مگما کې اندازه شوي د سانتي گرید تر ۱۲۰۰ درجو پورې دي له پورتنني حرارت څخه په ټيټو درجو کې مگما ساکن حالت ځان ته نيسي.

هر څومره چې د ځمکې د تل په لور وړاندې تگ وشي په هماغه اندازه حرارت زياتيږي هغه عمودي واټن چې د ځمکې د تل په لور پکې د حرارت درجه د سانتي گرید يوه درجه لوړيږي د حراتي گراډينټ په نامه ياديږي، چې منځنۍ کچه يې په ۳۳ مترو کې د سانتي گرید يوه درجه او په سلو مترو کې درې درجې ټاکل شوي ده.

د مگما تيکي ډبرو تکسيچر

د يوې ډبرې تکسيچر د هغې د بڼې له څرنگوالي، غټوالي او يو له بل سره يې د منرالونو له اړيکو څخه عبارت دی. په عمومي ډول په ډبرو کې بيلابيل تکسيچرونه يو له بله جلا کوي.

الف- بشپړ کرسټالي تکسيچر : که چيرې مگما ورو ورو سره او په ډبرې کې شامل منرالونه کرسټال شي او کرسټالي دانې جوړې کړي او يا هم د ډبرې تشکيلونکي دانې له سرښناکو غير کرسټالي موادو پرته نيغ په نيغه په تماس کې وي په دې صورت کې ډبره ځان ته هلو کرسټالين تکسيچر غوره کوي.

ب- نيم کرسټالي تکسيچر : که چيرې د يوې ډبرې ځينې تشکيلونکي منرالونه، کرسټالي بڼه او ځينې نورې يې غير کرسټالي بڼه ځانته اختيار او کرسټالي دانې يې د غير کرسټالي سرښناکو موادو په واسطه ونښلي. په دې حالت کې ډبره د نيمه کرسټالي يا همي کرسټالين تکسيچر لرونکې وي.

ج- غیر کرسٽالي ٽڪسچر : که چیري د یوي ډبري ټولي جوړونکي برخي غیر بلوري یعنی بي شکله وي په داسي حالت کې ډبره غیر کرسٽلي ٽڪسچر اختیاري چې د بنسټه ډوله ٽڪسچر په نامه هم یادېږي.

د- پارفیریتیک ٽڪسچر : که چیري داسي پېښه شي چې په یوه ډبره کې لوی کرسٽالونه د خپلو بشپړو اندازو او شکلونو سره په یوه میله دانه غیر کرسٽالي کله او یا هم مکمل کرسٽالي خو د تیت حالت لرونکي کله کې واقع شي دا ډول ډبري پارفیریتیک ٽڪسچر لري چې د هغې په دننه کې ټول کرسٽالونه او یا لوی تیت کرسٽالونه د فیتو کریټونو په نامه یادېږي.

فعالیت

خرنگه چې پوهیږئ ویلي مواد دځمکې د قشر دننه ورو ورو خپله تودوخه له لاسه ورکوي او د بلورینو منرالونو د جوړیدو لامل گرځي خو ویلي مواد کله چې د ځمکې پرمخ راووځي خپله تودوخه ډبر ژر له لاسه ورکوي او غیر کرسٽالي مواد تشکيلوي.

په لاندې جدول کې د داخلي او سطحي ډبرو لپاره لوي دانه او میله دانه ٽڪسچرونه ولیکئ: د ډبرو نومونه دا دي: گرافیت، گبرو، دیورټ، بازالت، انلیزیت، تراخیت، ریولیت او پیریدوتیت.


				میله دانه غیر کرسٽالي ٽڪسچر	سطحي ډبري
				لوی دانه کرسٽالي ٽڪسچر	داخلي یا عمقي ډبري

منرالې ترکیب

ډبرې له طبیعي نامتجانسو جسمونو څخه عبارت دي چې پراخه ساحه یې نیولې ده، ډبرې کېدای شي له یوه منرال یا د منرالونو له مجموعې څخه جوړې شي.

د مگماتیکی ډبرو په تشکیلونکو برخو (منرالونو) کې عموماً دوه ډوله سره بیلوي چې یوه یې د ډبرې د اصلي برخې په نامه یادېږي او هغه منرالونه دي کوم چې موجودیت یې په ډبرو کې حتمي دي او د نه شتون په صورت کې یې ډبره په خپل اصلي نوم نه نومول کېږي د بیلګې په ډول د گرانیت په مگماتیکی ډبره کې یو له دغو منرالونو (کوارتز یا فلډسپار) چې د ډبرې اصلي برخه جوړوي شتون ونه لري نوموړې ډبره د گرانیت په نامه یادېدلای نه شي. د ډبرو بله برخه فرعي منرالونه جوړوي چې په ډبره کې یې نه شتون د ډبرې په نومونه کې کوم رول نه لري.

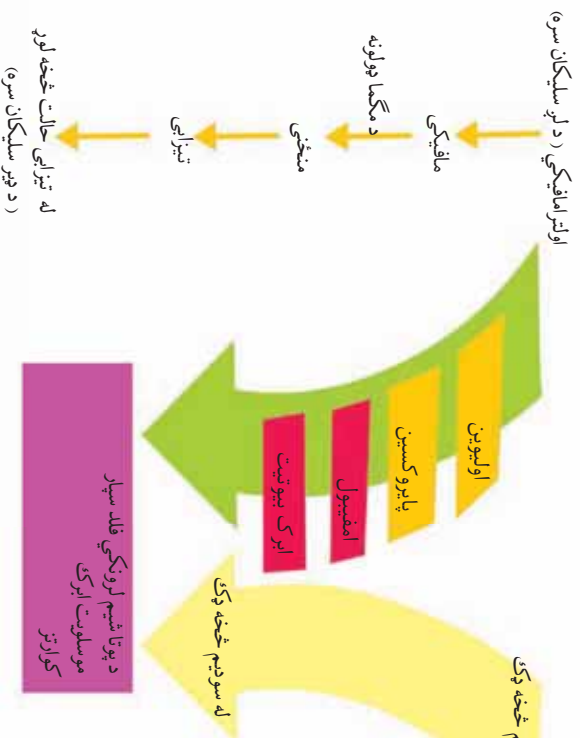
د مگماتیکی ډبرو اصلي منرالونه عبارت له: کوارتز، فلډسپار، ارتوکلاز، پلاجیوکلاز، فلډسپاټید ابرک، امفیبول، پلیروکسین او فرعي منرالونه یې اپاتیت، ایلیمانیت او مگنتیت دي. یادونې وړ ده چې په ډبرو کې د دې منرالونو شتون د ډبرو د رنگ د بدلون لامل گرځي او موږ دا ډبرې په بیلابیلو رنگونو لیدلای شو. د دې ډبرو څو بیلګې په لاندینيو شکلونو کې وګورئ.



(۱-۱) شکل د بنسټیزو ډبرو د ډولونو څو بیلګې

د بورین تعامل لړۍ ($e - acti Se ie$)

بورین (e) یو کانادایي جیوفزیک پوه ؤ او د مگما د کرسټال کېدو په اړوند یې څېړنې تر سره کړي دي. د نوموړي په عقیده مگما بزالتی ترکیب لري. د مگما د ورو ورو سپردو په پایله کې بیلابیل منرالونه او وروسته یا بیلابیلې مگماتیکی ډبرې منځ ته راځي. بورین او همکارانو یې په خپلو ازموینو کې ولیدل چې لومړني منرالونه چې د مگما له سپردو وروسته حاصلېږي اولیون او له کلسیم څخه غني پلاجیوکلاز دي چې له دې دوو منرالونو څخه (د یوې اندازې پلوروکسین سره) د ځمکې پر مخ بازالت او د ځمکې دننه ګابرو منځ ته راځي. د تودوخې د ټیټدو په ترڅ کې د پلې وېلي شوي مادې د ترکیب او کرسټل کېدل مومې یعنی لږ تر لږه د اوسپنې، مگنیزیم او کلسیم مهمه برخه له لاسه ورکوي او پر ځای یې وېلي شوي ماده له هغو عنصرونو څخه چې تر اوسه د مادې په جوړښت کې دننه شوي نه دي (لکه سوډیم او پوتاشیم) غني کېږي دغه راز یوه اندازه سیلیکان هم په وېلي ماده کې ورګډېږي او په پای کې نور منرالونه په ټیټه تودوخه کې منځ ته راځي او د فشار او حرارت د ټیټدو پراسطه ادامه پیدا کوي چې د منرالونو د تشکیلو دا بهیر د بورین د تعاملی لړۍ په نامه یادېږي او په لاندې ډول ښودل کېږي.



(۲-۱) شکل د بورین تعاملی لړۍ

د مگماتيکي ډبرو تصنيف او د ځمکي په قشر کي د هغو موقعيت

کله چې مگمات ځمکي دننه سره او کلکه شي د مگماتيکي عمقي ډبرو (*lutite*) د جوړيدو لامل گرځي او هغه وخت چې د ځمکي پر مخ سره شي سطحي ډبري چې د ولکانيت (*leatite*) جوړو په نامه يادېږي جوړوي.

مگماتيکي ډبري د خپل مگماتيکي فعاليت له مخي يا په بل عبارت د ځمکي په قشر کي د موقعيت له مخي په دريو ډول وېشل کېږي.

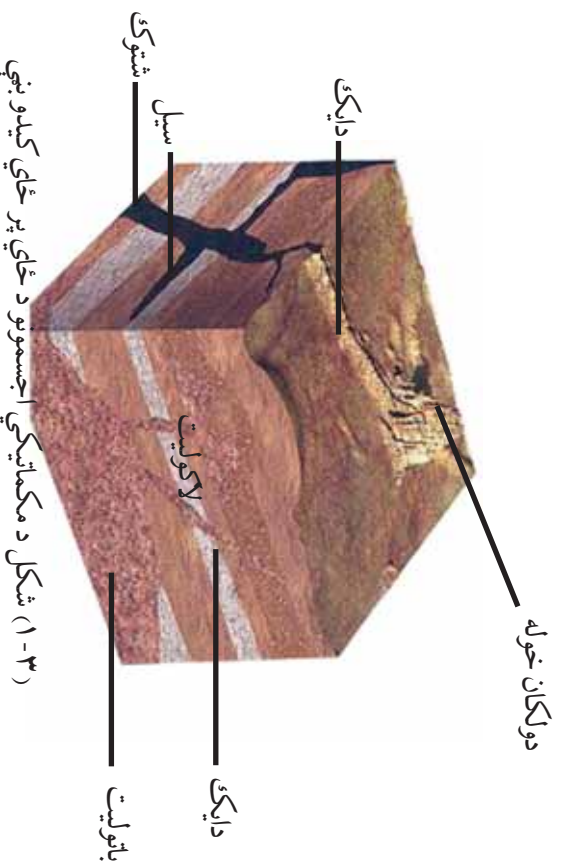
الف- د پلوتونيت ډبري (*lutite*)

ب- رگ ډوله مگماتيکي ډبري (*leatite*)

ج- ولکانيکي ډبري (*leatite*)

پلوتونيت ډبري

مگماتيکي عمقي ډبرو د لويو کتلو په توگه، لويې ساحې نيولي دي. د دې اجسامو تشکيلوونکي مگما په تدريجي ډول سپړېږي، پاتې گازونه په اوږده مهال کي ډير ورو خپله تودهوڅه له لاسه ورکوي او په دې ډول د موادو پوره کرسټال کيدل صورت مومي او لويې او منځني ډبري د کرسټالي جوړښت سره تشکيلېږي د بيلگي په ډول: گرانوډيوريت، سينايت، گرانوډيوريت، او پيريلوتيت چې د عمقي ډبرو له ډلې څخه دي او براخ شتون لري په بيلابيلې بڼې چې د باټوليت، لاکوليت شټوک او نورو... په نامه يادېږي منځ ته راوړي د لاندينيو بڼو په ډول:



(۳-۱) شکل د مگماتيکي اجسامو د ځاي پر ځاي کيدو بڼې

رگ ډوله مگماتيکي ډبري : (*a a ie c*) او د پلوتون سپرېدل د ځمکې په قشر کې د درزونو د پيدا کېدو تکتونیکي حرکتونه (*ect ic*) او د پلوتون شويو موادو په واسطه ډکېدلای شي. دغه راز کله چې د لامل گرځي دغه درزونه د مگماتيکي ويلي شويو موادو په واسطه ډکېدلای شي. دغه راز کله چې د غرونو لړۍ منځته راځي په وروستيو پړاوونو کې يې پلوتوني ډبرې درزونه پيدا کوي مگما د پورته تگ پر مهال په دغو درزونو کې ځای پر ځای کېږي او د رگ ډوله مگماتيکي ډبرو د رامنځته کېدو لامل

گرځي.
گرايت

گرايتونه د عمقي ډبرو د ټولو ډولونو يوه برخه شمېرل کېږي چې په ځانگړي توگه د بانوليتونو. شټوکونو او نورو شکلونو په بڼه ليدل کېږي د دې ډبرې اساسي منرالونه کوارتز، فېلسپار، پلاجيوکلاز او ابرک دي او له ډبرو کلکو او کرسټالي ډبرو څخه شمېرل کېږي، ولسي خلک يې د خارا ډبرې په نامه يادوي. د افغانستان په ډبرو ولايتونو کې دا ډبره پيدا کېږي لکه د سالنگ او پغمان گرايتونه دغه راز گرايتونه د هندوکش په شمال ختيځه برخه کې ډير پراخ شتون لري. له دې ډبرو څخه له پرې کولو او بڼويه کولو وروسته زبتي ډبرې جوړوي او د هوايي ميدانونو په دهليزونو، ودانيو او جادو کې ورڅخه کار اخلي.

د اخلي قواوو تر اغېز لاندې د ځمکې په قشر کې د مواد د ځای بدليدل د تکتونیک څخه عبارت دي چې په يرناني ژبه کې د منځ ته راوړونکي په معنا دي.



(۴-۱) شکل د گرانیت دوه نموي

گرانو ډيوريت

د گرانیت په پرتله د کوآرتز کچه په کې لږه ده خو رنگه منرالونه په کې ډېر دي د منځنۍ دانې لرونکو ډېرو څخه شمېرل کېږي خو ډول ډول دانې لرونکي ډېره هم ده. د ځمکې په قشر کې پراخ شتون لري د هندوکش غره د بانولیتونو ډېره برخه جوړوي. د کوآرتز، پلاجیوکلاز او پوتاشیمي فلدسپار منرالونه په کې لیدل کېږي.

دا ډېره د ودانیو د ډېرو په توگه کارول کېږي دغه راز له ښویه کولو وروسته د دهلیزونو په روبه کارۍ، پیاده روتو اونورو بیلابیلو ساختماني چارو کې ورځنۍ کار اخلي.

ولکانیکي ډېري

دا ډېري د لاوا (a یا a) د سپېدو په پایله کې د ځمکې پر مخ منځته راځي او د ولکانیکي (سطحي ډېرو) په نامه یادېږي چې د C - 11 - I تودوخې لرونکي اود سیلیکاتي موادو برسيره په کې د اکسیجن (O_2) ، المونیم (Al) ، اوسپني (Fe) ، القلي او ځمکني القلي فلزونو بیلابیلې کچې شتون لري او د بیلابیلو نښې یې او پر فیرتیک تکسچرونو ډېرې چې له بزلت، توف، تراخیت، ریولیت او انډیزیت څخه عبارت دي منځته راوړي.

بڙالت

بڙالت تيز خاورين، نسواري، تور او يا شين رنگ لري که داني ټپي لوبې وي د ديا باز په نامه يادېږي تر کومه ځايه چې نوموړې ډبره د ځمکې پر مخ د لاوا د سپردو په پايله کې منځته راځي له دې امله د گازونو د فرار پر مهال واړه واړه سوري په کې جوړېږي، له دې ډبرو څخه د ودانيو په ودانولو، د سرکونو په قشر او نورو ودانيزو چارو کې کار اخلي.

تواخيت

تواخيت د مگماتيکي سطحي ډبرو له ډلې څخه شمېرل کېږي چې ايره ډوله رنگ لري خو کله کله په ژړو او سور رنگ هم پيدا کېږي.

ډير مهال د زانډين او منځني پلاجيو کلاز داني په کې ليدل کېږي د ډبرې په اساسي کتله کې د زانډين، پلاجيو کلاز او نور رنگه منرالونو ميکروليټونه هم ترسترگو کېږي.

فعاليت

د خپل کور او يا ښوونځي ډيوالونه، فرشونه، پورې، تهډاب او نورې برخې د جوړېدو پر مهال په څير سره وگورئ، فکر وکړئ چې کوم ډول ډبرې په کې کارول شوي. آيا مگماتيکي ډبرې يې په ترکيب کې شته او که نه؟ که مگماتيکي ډبرې په کې وي هغه ياد داشت کړئ او دليلونه يې خپلو ټولگيو الو ته بيان کړئ او ووايي چې څه ډول مواد ډبرې ويترنډلې؟

د څپرکي عمده ټکي

- د ځمکي جامدقشر په ټوليزه توگه له دري ډوله ډبرو څخه جوړ شوي دي چې په ترکيب کې يې فلزي او غير فلزي بيلايل منرالونه شامل دي.
- ډبري طبيعي مواد دي چې له يو يا څو منرالونو څخه تشکيلېږي.
- ډبري په دريو ډولونو ويشل شوي: مگماتيکي (د اور ډبري)، متحوله او رسوبي.
- مگماتيکي داخلي ډبري له گرانيت، ديوريت، سيانيت، پيرېډوريت او مگماتيکي سطحي ډبري له تراخيت، برالت، ريوليت او نديزيت څخه عبارت دي.
- د مگماتيکي ډبرو د بني مطالعي په موخه له تکسچر څخه چې د دې ډبرو يو اساسي او مهم جز شميرل کېږي کار اخلي د دې ډبرو مهم تکسچرونه عبارت دي له کرسټالي، غير کرسټالي او پارفيرتيک.
- مگما د ځمکي د تل روښانه او وپلي مواد دي چې له دوه ډوله: گاڼي او غير گاڼي موادو څخه جوړېږي.
- د مگماتيکي ډبرو تشکيلونکي اجزا، منرالونه دي چې په ټوليزه توگه له دوو ډولو منرالونو څخه عبارت دي يو يې اصلي منرالونه دي چې د ډبري اساسي برخه جوړوي او د نه شتون په صورت کې د ډبري په نومونه کې بدلون راځي او بل يې فرعي منرالونه دي.
- له مگماتيکي ډبرو لکه گرانيت، ديوريت، يزالت څخه په ساختماني چارو، پياډه روڼو او د ودانيو په روبه کاري، مجسمه سازي او نورو ځایونو کې کار اخلي.


د څپرکي پوښتني

۱. مگما تعريف كړئ او ووايئ چې شو ډوله ډبري په كې وجود لري؟
 ۲. تڪسچر تعريف او نومونه يې واخلي.
 ۳. د مگما د گاږي او غير گاږي موادو نومونه واخلي او د هر يوه كيمياوي فورمول وليكئ.
 ۴. د مگمائيكي ډبرو فرعي منرالونه عبارت دي له:
 - الف- زيركان، مگنيت، اپايت ب- كوارتز، تورمالين
 - ج- فلديسپار د- پلاجيوكلاز
 ۵. بورن چې يو جيموفزيك پوه دی په كوم يو لاندني هيواد پورې اړه لري.
 - الف- جرمني ب- كانادا ج- امريكا د- هېڅ يو
 ۶. مگمائيكي ډبرې د موقعيت له مخې په څو ډلو ويشل كېږي؟
 - الف- په څلور ډلو ب- په دوو گروپونو
 - ج- په دريو گروپونو د- په پنځو ډلو
 ۷. پلوتونياټ ډبرې په كومو لاندنيو شكلونو پيدا كېږي؟
 - الف- باتوليت، شټوك او نور ب- يوازي د گيني په شكل
 - ج- دواړه خواږنه سم دي د- هېڅ يو
 ۸. گرانټونه د ټولو عمقي ډبرو شمېرل كېږي.
 ۹. په گرانو ډيوريت كې د گرانيت په پرتله لږه كچه ده
 ۱۰. سطحي يا ولکائيک ډبري عبارت دي له
 ۱۱. تراخيت رنگ لري خو كله په او رنگ هم پيدا كېږي.
 ۱۲. له گرانيت څخه له پرې كولو او بڼوپه كولو وروسته ډبري جوړوي او د ور څخه كار اخلي؟

دویم څپرکی رسوې ډبرې

په هغو ځایونو کې چې اوسپړۍ او یا به مو د سمندرونو په څنډو، شگلونو سیمو او سیندونو کې په ډبره کچه خټه، شگه، جعل، لوبې او وړې ډبرې او نور لیدلې وي. دا توکي ډبر مهال د سیندونو د اوبو د بهیر په مرسته لري او نږدې واټنونو ته لېږدول کېږي چې په پای کې په سمندرونو، سمندرګیو او نورو ځایونو کې رسوب کوي. بنایي په ذهن کې مو بیلابیلې پوښتنې پیداشي چې څه ډول دا مواد اویو ته ګډېږي؟ چیرته څي او د کومو شیانو د جوړېدو لامل ګرځي؟ شگه او جعل څه ډول د رسوبي ډبرو کلکې طبقې جوړوي.

هوا ډبر لاملونه لکه یخچالونه، بادونه د لمر تودوخه، کنگل نیونه، د نباتاتو رښې او نور د موادو د تخریب او لېږدوني لامل ګرځي چې له کلکېدو وروسته رسوبي ډبرې جوړوي.



(۱-۲) شکل د رسوبي ډبرو څرنگوالی

په رسوبي ډبرو کې د تېلو، ګازو، ډبرو سکارو، د اوسپنې، المونیم او ساختماني موادو منابع او کانونه په پراخه پیمانه پیدا کېږي باید وویل شي چې رسوبي ډبرې د ځمکې د تېر تاریخ پورې اړوند شواهد هم لري.

فزيکي او کيمياوي فرسائش

فرسائش له فزيکي (کگل نيونه) کيمياوي او ان بيولوژيکي (د نباتاتو رينټي او ژوي) پروسو څخه عبارت ده. جري لاملونو لکه اورښت، د تودوخې د درجي بدلون د لمر تودوخه، د يخ نيونې عمل، تحمض، انحلايلت، هايډروليز او نور د فزيکي او کيمياوي فرسائش لپاره وړ شرايط منځته راوړي شي. چې د هغو په پايله کې د ځمکې پر مخ د رسوباتو بيلا بيل ډولونه منځته راځي او په پای کې رسوبي ډبرې ورڅخه جوړېږي.



(۲-۲) شکل د جبرو فریش رښتني

د رسوبي ډبرو ډولونه

په ټوليزه توگه رسوبي ډبرې د ځمکې د قشر د ډبرو (مگماتيکي، متحوله او رسوبي ډبرې) د تخریب او فرسایش محصول دي.

رسوبي ډبرې د جوړېدو د څرنگوالي پر بنسټ په دوو: کلاستيکي او غیر کلاستيکي ډلو ویشل کېږي.

۱- کلاستيکي رسوبي ډبرې

هغه ډبرې دي چې د پخوانیو ډبرو له ورو او کوچنیو ټوټو څخه چې په میخانیکي طریقه منځته راځي جوړېږي خو محدودې بیلگې به یې مطالعه کوو.

کانګلو میرات

کلاستيکي ټوټې دي چې په یوازې ډول جوړې شوي او بیا د طبیعي سمندو په مرسته یو له بل سره یو ځای شوي او سرپښ شوي دي. ليرې واټن ته د دې ټوټولیر دیدل د دې لامل شوي چې د هغو تېری ځنډې له منځه لاړې شي او په نښویه دانو ټوټو بدلې شي.

دغه ټوټې، دانې له بیلابیلو منرالونو څخه جوړې شوي دي.

هغه سمندني مواد چې دا ټوټې، دانې یو له بله نښلوي، کېدای شي سیلیکاتي، آهکي، دولومیني او پاروسي ترکیب ولري.

که چېرې د دې ډبرو جوړونکي ټوټې، دانې، تېرې ځنډې ولري په هغه صورت کې ورته د بریکسیا ډبره وايي.

د شګو ډبره

کله چې د شګو دانې د سمندو او د پورټینو طبقو د فشار له امله یو تر بله ونښلي، د شګو ډبرې ترې جوړېږي. د شګو ډبرې دانې او سمند په ټوليزه توګه د کوارتز له منرال څخه جوړې دي

خو د فلانسپار منرالونه، د ابرک ذرې او نور منرالونه په دې ډبرو کې لیدل کېږي دا ډبرې ایره ډوله، نسواري او سپین رنگونه لري.
د شگو ډبرې په ساختماني چارو، پیاده رونو او ډپلونو په جوړولو کې کارول کېږي، د یادونې وړ ده چې د اومتیلو، طبیعي گازو او دځمکې لاندې اوبو زیرمې ډبر مهال په دې ډبرو کې موندل کېږي.



(۳-۲) شکل د راسبه کلاستيکي ډبرو ډولونه

شیل

په ډیره کچه پیدا کېدونکي رسوبي ډبرې دي چې په اساس کې د رس خټې او د کوارترز، فلانسپار او ابرک له وړو دانو څخه ترکیب شوي او د لږ فشار په پای کې متراکمې شوي او په یوې نرمې پاڼه پاڼه کېدونکې خوکلاکې ډبرې چې د شیل په نامه یادېږي بدلې شوې. دې دا ډبرې په اسانۍ پاڼه پاڼه کېږي. د شیلونو بیلابیل ډولونه د بیلابیلو منرالونو د شتون له مخې د رسي، اهنکې، شگې او سکارو شیلونو په نامه یادېږي. شیلونه په سور، ایره ډوله تور او نسواري رنگونو پیدا کېږي او د فشار په ځیروالي سره په رسي شیبست او په پای کې په کلکه خومتورقه ډبره چې د سیلت په نامه یادېږي بدلېږي.

غیر کلاسیکی رسوبی ذری

د ذرو په دې ډول کې کیمیاوي او عضوي رسوبي ذری شاملې دي چې په لاندې ډول یې لنډیز وړاندې کېږي.

کیمیاوي رسوبی ذری

کیمیاوي رسوبي ذری د هغو موادو ترکیب دي کوم چې په اوبو کې د محلول په بڼه شتون لري او کله چې وړ شرایط ورته برابر شي د تودوخې د درجې او فشار په بدلون سره تشکيلیږي. دا ذری په څلورو ډلو: کاربوناتې ذری، سیلیکاتي، تبخیري او سکارو ډوله ذرو ویشل کېږي.

کاربوناتې ذری

دا ذری چې عمده برخه یې کلسیم کاربونات جوړوي او لږ تر لږه ۲ په سلوکې په رسوبي ذرو کې شتون لري په ځانګړو شرایطو کې د کیمیاوي تعاملونو په پایله کې منځ ته راځي.

آهکي ذری

آهکي رسوبات د کلسیم لرونکو سیلیکاتونو له تجربې او په اوبو کې له حل شویو کاربوناتو موادو له رسوب لکه کلسیت څخه منځ ته راځي. دا رسوبات د پیرو طبقو په ډول څو متره پیر والي لري او په طبیعت کې د آهکي غرونو په څېر لیدل کېږي.

د آهکي ذرو ډیره برخه د کلسیت له منرال څخه جوړه شوې ده، دا ذری کېدای شي کیمیاوي یا عضوي منشا ولري.

سیلیکاتي ذری

سیلیکاتي ذری د آهکي ذرو په څېر بڼایي کیمیاوي یا عضوي منشا ولري. د سیلیکاتونو د فرسایش پر مهال، په هغو کې موجود سیلیکان د اوبو په مرسته د محلول د برخې په توګه سمندرګو ته لېږدول کېږي او له سیلیکان څخه د چاپیریال د مشبوع کېدو په ترڅ کې یو ډول ترسبات منځته ته راوړي چې د سیلیکاتي ذرو په نامه یادېږي.

دغه راز د سيلگان يوه برخه د سمندري ژويو له خوا جذبېږي او د سمندري موجوداتو لکه دياتومونه، الحبي او نور پوښ يا غشا جوړوي.

تبخيري ډبري

دا ډبري د مالگي او گچ له ډبرو څخه عبارت دي. چي په بشپړه توگه کيمياوي منشا لري. کله چي د مالگي ډبره (د خورو مالگه) او گچ د ائنباع حد ته ورسېږي، لاندي کيني او د تبخير ډبري جوړوي دا ډبري په عمومي ډول په توده او وچه آب او هوا کي منځته راځي او د مالگي او گچو لريي زيرمي يي په پخوانيو رسوبي ډبرو کي منځته راوړي دي.

د رسوبي ډبرو طبقه بندي

رسوبي ډبري له هغو طبقو څخه چي يو پر بل باندي واقع شوي، جوړي شوي دي د دې طبقو پيروالي د رسوب مهال ښيي. د طبقي مخ په حقيقت کي د رسوب د دورې پای او نړيو رسوباتو د جوړيدو د پيل ښکارندويي کوي. په لومړي پړاو کي دا طبقي په افقي بڼه يو پر بل واقع کېږي خو د وخت په تېرېدو سره د ځمکي د اخلي قواو د مداخلې په ترڅ کي افقي حالت له لاسه ورکوي او په پای کي په گونځو طبقو بدلېږي.

د فسيلونو درلودل

د رسوبي ډبرو يوه اساسي ځانگړتيا په هغو کي د فسيلونو شتون دی، فسيلونه په عمده ډول په آهکي ډبرو کي پيدا کېږي خو په شگو، شيل او کانگلو ميرات ډبرو کي هم فسيلونه ليدل کېږي فسيلونه د رسوبي ډبرو د عمر په اټکل کي وړ وسيله شمېرل کېږي.

د ډبرو سکاره

يو ډول رسوبي ډبره ده چي د ځمکي د مخ د نباتاتو له پاتې شونو څخه منځته راځي دا نباتات تجزيه او د بيلايلو لاملونو په ترڅ کي په ځمکي کي ښخېږي چي د اکسيجن په نه شتون کي د وخت په تېرېدو سره په ډبرو سکارو بدلېږي. د اکسيجن نه شتون او د تالابونو ولاړي او تودې

اوبه د ډبرو سکارو د جوړېدو لپاره ور شرایط بلل کېږي، چې د میلیونونو کلونو په تېرېدو سره د پورټیټو طبقو د وزن او فشار د زیاتوالي په ترڅ کې له دې نباتاتو څخه د کاربن ډای آکساید گاز او نور گازونه راوځي او په پای کې په کاربن بدل او د ډبرو سکارو د پیت ډول جوړوي چې د فشار او تودوخې په وړو وړو زیاتوالي سره دغه توکي نور هم کلکېږي چې په ترتیب سره لگنايت، معمولي سکاره او انتراسیت منځته راځي.



(۴-۲) شکل د ډبرو سکارو ډولونه

فارسي سکاره

دا ډول سکاره کاربن لري او د لمدو بل کچه يې ډیره ده چې ډېر مهال په باتلاقي او لمدو سيمو او په نيمه آواره ځمکه کې پيدا کېږي، دا ډول سکاره په سختې، سوځي، ډېر بوی او دود تولیدوي، دې ډول سکارو لږ تر لږه د ځمکې مخ پوښلی دی.

لگنايت

دا ډول سکاره د پیت سکارو پر مخ تللي ډول دي چې خپل ډیره اندازه لمدبل يې له لاسه ورکړی او د کاربن کچه يې لږ تر لږه ده، د دې سکارو د خط اثر قهوه يي رنگ لري او د پانېو او څاڅکو نښی نښاني په کې ليدل کېږي.

معمولي سکاره

په دې ډول سکارو کې د کاربن کچه په شاوخوا کې ده، له دې سکارو څخه کولای شو کوکس چې د سون پوه ارزښتناکه ماده ده او ډېره تودوخه تولیدوي لاسته راوړو.

انتراسیت

دغه سکاره په شاوخوا کې کاربن لري او هغه مهال چې د کاربن کچه یې څخه ډېره شي، په گرافیت بدلېږي چې د ډېرې تودوخې لرونکې او بې دوده ماده ده.

فعالیت

د خپلو ټولگيو والو په مرسته خو ډوله گردې، ښوښه او خټلې لرونکې ډېرې راتلې کړې. بیا یوه اندازه سمند له شگې او اوبو سره یو ځای کړې. د سمندو مخلوط په دوو برابرو برخو ووېشي. په یوه برخه یې گردې او سمې ډېرې او په بله برخه کې یې خټلې لرونکې ډېرې یو ځای کړې، له څو ساعتونو وروسته دا ډېرې یو له بل سره نښلې او په پای کې دوه ډوله ډېرې چې کاکلومیرات او بریکسیا دي لاسته راځي.

د څپرکي عمده ټکي

- په رسوبي ډبرو کې د تېلو، سکارو، گاز، اوسپني، المونيم او ساختماني موادو زېرمې جوړېږي.

• جوي لاملونه؛ لکه اورښت، د تودوخې د درجې بدلون، د لمر وړانگې او تودوخه، د ښخ نيونې، عمل تحمض انحلايت او نور د ځمکې د قشر د بيلايلو ډبرو د تخریب او فرسایش لامل گرځي چې د وخت په تېرېدو سره رسوبي بيلايلې ډبرې جوړوي.

- رسوبي کلاستيک ډبرې له کانگلو ميرات، شيل او د شگوله ډبرې څخه عبارت دي.
- د شگر له ډبرې څخه په ساختماني چارو، پياده روزنو او پلونو کې کار اخلي.
- کيمياوي رسوبي ډبرې په څلورو ډلو: کاربوناتې، سيلکاتي او تبخيري ډبرو او سکارو ویشل کېږي.

• په رسوباتو کې ښخ شوي نباتات د وخت په تېرېدو سره په ډبرو سکارو بدلېږي چې د پيټ، لگايټ، معمولي سکاره او انتراسيټ ډولونه په کې شامل دي.

د څپرکي پوښتني

۱. د رسوبي ډبرو پر تشکیل د فزیکي او کیمیاوي فرسایش او د جوي حالاتو د اغیزو لاملونه تشریح کړئ.
۲. د رسوبي ډبرو مهم ډولونه کوم دي؟ نومونه يې واخلئ؟
۳. کلاستيکي رسوبي ډبري تشریح کړئ.
۴. د شګو ډبري په ترکیب کې کوم لاندیني منرالونه شتون لري؟
- الف- کوارتز له تورمالین سره ب- کوارتز، فلداسپار او د ابرک ذرې
- ج- دواړه -خوابونه سم دي د- هیڅ یو
۵. په ټولیزه توګه رسوبي ډبري د کومو لاندینو ډبرو د تخریب او فرسایش محصول ګڼل کېږي؟
- الف- متحوله ډبري ب- رسوبي او اور ډبري
- ج- متحوله، مګماتیکي او رسوبي ډبري د- رسوبي
۶. شیلونه په عمومي ډول د کوم رنگ لرونکي دي:
- الف- په بیلابیلو رنگونو پیدا کېږي ب- په سپین رنگ پیدا کېږي.
- ج- ایره ډوله، تور او نسواري د- ټول خوابونه ناسم دي
۷. کیمیاوي رسوبي ډبري په څو ډلو وېشل شوي دي؟
- الف- درې ډوله ب- دوه ډوله
- ج- پنځه ډوله د- څلور ډوله
۸. په رسوبي ډبرو کې د فسیلونو له شتون څخه په کومه موخه کار اخلي؟
- الف- د ډبرو د عصر په ټاکلو او د تېلو د زیرمو په موندلو کې ب- د رسوبي ډبرو په پېژندنه کې
- ج- لومړی خواب سم دی د- هیڅ خواب سم نه دی.
- سمي او ناسمي پوښتني
- د سمو جملو په وړاندې د سم کلمه او د ناسمي جملې په وړاندې د ناسم کلمه ولیکئ.
۱. د ډبرو سکاره د نباتاتو له پاتې شونو څخه د آکسیجن په نه شتون کې منځته راځي ()
۲. د ډبرو سکاره د پیت سکاره دي چې د کاربن کچه یې ډیره لوړه ده. ()
۳. په معمولي سکارو کې د کاربن د سلني کچه د ۸۰ په شاوخوا کې ده. ()

درېم څپرکی

میتامورفيکي (متحول له) ډبري

دا ډبري د جیولوجیکي پروسو په پایله کې د فزیکي او کیمیاوي بیلابیلو لاملونو لاندې د ځمکې په تل کې مینځته راځي، د میتامورفيکي ډبرو په تشکیل کې د فشار او تودوخې لاملونه بنسټیز رول لوبوي. د فشار او تودوخې تر اغیزې لاندې او د کیمیاوي محلولونو په شتون سره پخوانۍ جوړې شوي ډبري (مگماتیکي او رسوبي) خپل لومړني حالت ته بدلون ورکوي او نوي ترکیب او بڼه ځانته غوره کوي.

هغه پروسه چې په پایله کې یې میتامورفيکي ډبري جوړېږي د میتامورفیزم په نامه یادوي چې د بدلون او تحول په معنا دی.

د میتامورفیزم لاملونه: د میتامورفیزم عمده لاملونه چې د میتامورفيکي پروسې د پر مخگ سبب گرځي له تودوخې (حرارت)، فشار او د کیمیاوي محلولونو غلظت څخه عبارت دي.


تودوخه: د ختیځو لوښو د جوړولو په موخه، د رس خټه چې یو منرال دی له اوبو سره یو ځای کوي او په دې توگه خمیره ډوله ماده ترې لاسته راوړي. دغې مادې ته په هره بڼه چې وخواړي بڼه ورکوي او په کورې کې یې ډډې تر څو پخه شي او کلک ډبري ډوله جسم ترینه جوړ شي. د دې عمل په پایله کې د رس منرالونه د خپلو اوبو یوه برخه له لاسه ورکوي او په بې اوبو منرال بدلېږي، میتامورفيکي ډبري هم دا ډول په طبیعي توگه جوړېږي کله چې دا ډبري ډبري تودې شي په هغې کې بدلونونه پیدا کېږي او په پای کې په مستحوله ډبري بدلېږي.

فشار: فشار هم دتودوخې په څېر د ځمکې د ژوروالي په ډبریلو سره ډبرېږي، ډبري د ځمکې په ژوره کې د پورتنیو طبقو تر فشار لاندې راځي او په دې ډول کلکي او متراکمي کېږي د منرالونو کرسټال کېدل هم د فشار له امله چې له ټولو لورو پر هغو واردېږي ترسره کېږي.

غلظت: د کیمیاوي محلولونو غلظت کم چې د ځمکې په ژوره کې شتون لري د تحول په بهیر کې اساسي رول لوبوي، ځکه دا محلولونه د بیلابیلو کیمیاوي عنصرونو څخه جوړشوي او کله چې د نورو عنصرونو سره یو ځای شي کولای شي چې نوي مرکبونه منځته راوړي.

میتامورفیزم په دوو ډلو ویشي:

الف: بې لیردوني میتامورفیزم ب- د لیردوني سره میتامورفیزم
کله چې د چرنې ډبره د بې لیردوني میتامورفیکي پروسې لاندې راشي په دې صورت کې بې حجم ثابت پاتې کېږي او په مرمردلیري خو کله چې د لیردوني سره میتامورفیکي پروسې لاندې واقع شي کاربوناتي مواد بې لیردول کېږي حجم یې بدلون مومي او د مرمردلیري په کوارسیټ بدلېږي.



(۱-۳) شکل دطبقو په منځ کې د ډبرو تحول.

د میتامورفیکي ډبرو ډولونه او تکسیچر

د میتامورفیکي ډبرو تکسیچرونه د نوموړو ډبرو د محاد کرسټال کیډلو شرایط منځکسوي. ډبرې، میتامورفیکي پروسې د جانبي فشار لاندې صورت مومي نو ځکه د دې ډبرو تکسیچرونه توجهیه شوي ښه لري، په توجهیه شوي (ډیکتيفي) تکسیچرونو کې ښښنه بې، طبقه ډوله، لاري او عدسیه ډوله تکسیچر پراختیا لري گنایس ډوله تکسیچر چې ډبرې په اساسي کتله کې د ټولو جوړونکو منرالونو د خطي توجهیه په پایله کې مینځته راځي د میتامورفیکي ډبرو لپاره ډیر ځانگړی دی.



(۲-۳) شکل د میتامورفیکي ډبرو ډولونه او تکسیچر

په هغه صورت کې چې د ډبرې د اساسي کتلې په پرتله لوی کرسټالونه په ډبره کې شتون ولري او يا هم خو يو رنگ منرالونه په مېتامورفيکي ډبره کې يو ځای شوي وي عينکي تکسچر منځته راځي.

مرمر، کوارسيت، گنايس، امفيوليت او نور له مېتامورفيکي ډبرو څخه شميرل کېږي. مرمر: دا ډبره د کاربوناتې موادو له بدلون او تحول څخه منځته راځي چې سپين رنگ لري، کله چې پردې (اجنبي) مواد د دې ډبرې په ترکيب کې ورگډ شي مرمر ته بيل بيل رنگونه ورکوي، مرمر په سپين، تور او نورو رنگونو پيدا کېږي.



(۳-۳) د مرمر نمونه

کوارسيت: مېتامورفيکي ډبره ده چې د کوارتز د کچې سلنه په کې ډبره ده. کوارسيت د شگړو ډبرې (Quartzite)، کوارتز، کانگلو ميراثونو او نورو له تحول او بدلون څخه د ځمکې په تل کې د تودوخې او فشار تر اغيزې لاندې جوړېږي، کلکه او متراکمه ډبره ده او بېلکې رنگونه لري چې د زینتي وسايلو په جوړونه کې ترې گټه اخلي. دغه راز له دې ډبرو څخه د وداینو او ساختمانونو په تزئيني، د سرکونو د فرش ډبرې په توگه، څښتي جوړونه او نورو کې کار اخيستل کېږي.

گنايس: گنايس د مينا مورفيکي ډبرو له ډلې څخه شمېرل کېږي چې د مگماتيکي فلديسپار لرونکو ډبرو او رسوبي ډبرو له تحول او بدلون څخه منځته راځي، هغه گنايس چې د مگماتيکي ډبرو له بدلون څخه منځته راغلي وي د ارتوگنايس او کوم چې د رسوبي ډبرو له تحول او بدلون څخه حاصل شوی وي د پاراگنايس په نومونو يادوي.



(۳-۴) شکل د گنايس نمونه

امفيوليت: امفيوليت مينا مورفيکي ډبره ده چې په اساسي ډول له امفيول منرال څخه جوړه شوې ده، هغه بل منرال چې د امفيوليت په جوړېدو کې رغنده رول لري د هارن بلند منرال دی. امفيوليت هغه مهال تشکيلېږي چې بزالتي ډبره له (C) - تودوخې او ډير لوړ فشار لاندې راشي او بدلون ومومي.

د څپرکي عمده ټکي

- مېتامورفيکي ډبرې د جېولوجيکي پروسو په پايله کې د بېلابېلو فزيکي او کيمياوي لاملونو لاندې د ځمکې په ژوره کې منځته راځي.
- د مېتامورفيزم عمده لاملونه چې د مېتامورفيکي ډبرې د پرمختګ سبب گرځي له تودوخې، فشار او د کيمياوي محلولونو له غلظت څخه عبارت دي.
- مېتامورفيزم په دوو ډلو: بې ليردوني او د ليردوني سره مېتامورفيزم وېشل کېږي.
- د مېتامورفيکي ډبرو تکسيچرونه د نوموړو ډبرو د مجدد کرسنال کېدلو شرایط منعکسوي.
- د مېتامورفيکي ډبرو تکسيچرونه توجیه شوي ډول لري.
- مرمړ، کوارسيټ، گاپس او امفوليت د مېتامورفيکي ډبرو له ډلې څخه شمېرل کېږي.

د څپرکي پوښتني

۱. میتامورفيکي ډبرې څه ډول منځته راځي؟
۲. د میتامورفيزم عمده لاملونه په گوته کړئ.
۳. میتامورفيزم په څو ډوله دی؟ نومونه يې واخلئ.
۴. په توجیه شوي ډول تکسچر کي کوم ډول تکسچرونه ډبره پر اختيا لري؟
۵. له لاندی نيو ډبرو څخه کومه يوه د میتامورفيکي ډبرو له ډلې څخه شمېرل کېږي؟
 - الف- مرمر
 - ب- کوارسیت
 - ج- امفیولیت
 - د- درې واړه
۶. فشار هم د په څېر د ځمکي د په ډبرېدلو سره ډبرېږي.
۷. کوارسیت څه ډول ډبره ده؟ تشریح يې کړئ؟
۸. د مرمر په اړوند خپل معلومات بیان کړئ؟
۹. آیا امفیولیت يوه میتامورفيکي ډبره ده؟ که ده خپل دلیلونه وليکئ؟
۱۰. د گنايس ځانگړتياوې بيان کړئ.

دریمه برخه

بهرنۍ پروسی (سطحي جیولوجیکي فعالیتونه)

بهرنۍ پروسی یا سطحي جیولوجیکي فعالیتونه په دې خاطر په دې نوم یادېږي چې په ازاده هوا کې تر سره کېږي، هغه عمده لاملونه چې په دې پروسه کې مهم رول لري له اتموسفیر، بیوسفیر او هایډروسفیر څخه عبارت دي.

که غواړئ چې د دې پروسو په اړوند ډیر پوره شی او هغه پوښتنې چې تاسو ته پيدا شوي حل شي نو د دې برخې پورې اړوند مطلبونه په څېر ولولئ. د دې برخې څپرکي چې بیلابیلې موضوعگانې په کې ځای پر ځای شوي له تاسو سره د ځوابونو په مینلو کې مرسته کوي. بنایي پوښتنه وکړئ چې څرنگه د هغو پروسو پورې اړوند مطلبونه کومي چې د ځمکې پر مخ د لویو بدلونونو لامل ګرځي د کتاب په څو پاڼو کې کولای شو ځای کړو.

هوا بهرنۍ پروسې د ځمکې په قشر او مخ کې لوی بدلونونه منځته راوړي او په دې خاطر پوهانو زیار ایستلی تر څو دا پروسه په ټاکلو جهتونو لکه: د ډبرو نرمیدل او تخریب، لیږدونه یا ترانسپوژیشن، د ځمکې د مخ په ټیټو برخو کې د تخریب شومو موادو تولیدیدل او د نویو طبقو او لایو جوړیدل مطالعه کوي. د دې جهتونو پراخه مطالعه مرسته کوي تر څو د موضوعگانو ژوره څېړنه وشي او د عملیو د پیدااینست منشا ولټول شي.

لوپری خپرکی

د سطحی روانو) او د ځمکې لاندې اوبو جیولوژیکی فعالیت

موزی، او تاسو ټولو سیندونه، نهرونه او ویاړې چې اوبه په کې روانې دي لیدلې دي، آیا کله مو فکر کړی چې دا سیندونه څه ډول جوړ شوي او څرنگه د موادو د تخریب، لېږدوونې او رسوب لامل ګرځي؟

سطحی یا روانې اوبه له اتموسفیري اوربنتونو، د واورې او کنگل له ویلي کیدو او د ځمکې سرته د ځمکې لاندې اوبو له راوتلو څخه منبځ ته راځي، کله چې اوربنتونه کیږي، د ځمکې پر منځ د اوبو واړه جریانونه روانیږي چې ډیر ژر دا واړه جریانونه یو ځای کیږي او چاوي او سیندونه جوړوي.

د جریان دوام او د روانو اوبو کچه د اوربنتونو، د ویلي شوي واورې، کنگل او د ځمکې لاندې اوبو پر کچې پورې ارتباط لري.

د اوبو د حرکت سرعت د اوبو پر کچې، د سیند د بستر د زاوي میلان او د درو او وادي گانو پر ځینو ځانګړتیاوو پورې تړلې دي.

د سیند له بستر او څنډو سره د اوبو د ټکر پر مهال د جریان سرعت کموالی مومي او نور جریانونه له بېلګه څخه پورته، له پورته څخه بېلګه اود عمومي جریان د لوري په نسبت مایل جریانونه منبځ ته راځي چې دا ډول حرکتونه د اوبو د تلاطم لامل ګرځي د سیند بستر او څنډې منبځي او تخریب شوي توکي له ځان سره لېږدوي.

د اوبو سرعت او کچه د واورې د ویلي کیدو (په پسرلي کې) اود یخچالو د ویلي کیدو د دورې پر مهال له ۲ څخه تر ۳ ځلې زیاتوالی مومي. د سطحی یا روانو اوبو جیولوژیکی فعالیت عبارت دی له:

۱. د سیندونو په بستر، درو او وادي گانو کې د ډبرو تخریب
۲. د دانه لرونکو موادو لېږدونه
۳. د دانه لرونکو مواد رسوب.

۱- د روانو اوبو تخریاتي عمل

سیندونه او چاوي په عمومي ډول دوه ډوله تخریاتي عمل لري چې یو یې عمقي او بل یې جاني دی، د اوبو په واسطه د سیند د بستر تخریب د عمقي او د سیند د څنډو تخریب د جاني تخریب په نامه یادېږي، عمقي تخریب په حقیقت کې د جاني تخریب پیل ګل کېږي، په هره اندازه چې عمقي تخریب ډېر وي کومه دره چې سیند په کې روان وي، تنګېږي او دیوالونه یې په عمودي ډول لورېږي.

د عمقي تخریب سرعت په بیلابیلو لاملونو لکه د هغو ډبرو د کلاکوالي درجه کومې چې تخریبي د سیند د بستر میلان اود اوبو پر کچې ارتباط لري، د سیند په بستر کې کیدای شي اواړې سیمې تشکیل شي کومې چې د عرضي تیراسونو په نامه یادېږي. د سیند د بستر د ډبرو تخریب ځینې وختونه د ډبرو د بیلابیلې سختۍ له امله سم نه تر سره کېږي او په بستر کې لورې او ژورې پیدا کوي چې د ایشارونو د جوړیدو لامل ګرځي. د غارتګي په سیمه کې د کابل سیند په اوږدو، د سالنګ سیند او د افغانستان د نورو سیندونو په مسیر کې ښکلي او لوی ایشارونه لیدل کېږي.

ایشارونه ډبر لوړوالي لري د بیلګې په ډول د کولمبو آبخار چې د افریقا د زامبزي سیند په مسیر واقع دی، ۴۲۷ متره لوړوالي لري د آبخارونو سور د سیند په سور او د اوبو په کچې پورې اړه لري؛ د بیلګې په ډول د آیګواسو آبخار چې په جنوبي امریکا کې د پاران سیند په اوږدو کې پروت دی، د نړۍ د ډبر سور لرونکي آبخار څخه شمېرل کېږي چې سور یې ۲۷۰۰ مترو ته رسېږي، د آبخار په ښکتنۍ برخه کې د اوبو شلېدې ضربې ډیګي ډوله قوتي جوړوي چې تل یې د سند له طولي مقطعي څخه ډیر ټیټ وي.

په دې ډیګي ډوله قوتونو کې د اوبو گردش د ډبرو د تخریب او مینځلو لامل ګرځي. څرنګه چې مو پورته وویل د درو په تشکیل کې د عمقي تخریب برسیره جاني تخریب هم اغیز پرېښايي ځکه چې اوبه د درو او وادي ګانو د دیوالونو او څنډو د مینځلو قابلیت لري او هغه ته سور ورکوي جاني تخریب په سیند کې د اوبو د کچې د ډبروالي پر مهال یعنی د اېخیزۍ په موسم کې ډیرېږي.

کله چې د سیند جاني تخریب ډیر او شدید وي دره د وی (V) توري شکل ځانته غوره کوي او په هغه صورت کې چې د تخریب لمنه پراخه شي د وخت په تیریدو سره پورتنی شکل د U توري



(۱-۱) شکل د روانو اوبو تخریب

په شکل بدلون مومي چې په دې حالت کې د جانبي تخریب د شدت له امله دره سورته وره کېږي او سور بې له عمق څخه څو برابره زیاتېږي.

۲- د دانه لرونکو موادو لېږدول

ساحلي ډیوالونه د روانو اوبو د تخریبي پروسې په پایله کې تخریبېږي، تخریب شوي ډبري د اوبو په واسطه د جریان د لوري سره سم لېږدول کېږي، میده دانه مواد د لامبو وهلو په شکل او لوی دانه لرونکي مواد د سیند په بستر کې د رغېدو په شکل حرکت کوي په هره اندازه چې د اوبو د حرکت سرعت ډېروي، په هم هغه اندازه تخریب شوي مواد د لامبو وهلو یا رغېدو په شکل د سیند په بستر کې لېږدول کېږي، د بیلګې په ډول: اوبه په 1 متر پر ثانیه سرعت سره کولای شي ډبر میده دانه ریګ او په ۱۲ متره پر ثانیه سرعت سره لویې ډبري چې حجم یې ۵۰۰ سانتي متر مکعبونه رسېږي ولېږدوي. دهغو موادو کچه چې د لامبو وهلو په حالت په سیندونو کې لېږدول کېږي په یوه کال کې میلیونو ټنه ته رسېږي، په روسیه کې د والګا سیند هر کال ۴۳ میلیونه ټنه، د سند غرنۍ سیند ۴۶ میلیونه ټنه اود آمو سیند ۵۷۰ میلیونه ټنه مواد لېږدوي.

د اوبو په واسطه لېږدېدونکي توکي په لومړي سر کې څنډې لرونکي بڼه لري خو کله چې ډبر واټن

ورهې ښوږه او صيقل کيږي. لږني او وړي ډبري د هغه اصطکاکی له امله چې د حرکت پر مهال يې په خپل مينځ او د سيند له بستر سره پيدا کوي خپل لوی حجم له لاسه ورکوي چې په دې ډول لږني ډبري په وړو (جغل) او (سنگچل) او په پای کې وړي ډبري (سنگچل) په شگر بدليږي. په عمومي ډول ويلاى شو چې وړي ډبري (جغل) که هر ډول کثافت ولري د ۱۰۰۰ کيلو مترو واټن وهلو وروسته د اوبو د جريان په اوږدو کې په شگر بدليږي له همدې امله د سيندونو د وادي گانو په خوله کې تل ليدل کيږي او د لوبو دانو لرونکي مواد، جغل او سنگچلونه نه تر سترگو کيږي.



(۲-۱) شکل د دانو لرونکو موادو ترسب


۳- د دانه لرونکو موادو رسوب

مخکې مو وویل چې دانه لرونکي مواد چې بیلابیلې اندازې لري د اوبو د بهیر په واسطه لیرودول کېږي، کله چې د اوبو د جریان سرعت کم او لږ شي دانه لرونکي مواد هم د خپل جسامت سره سم په رسوب کولو پیل کوي.

په لومړي سرکې لوی دانه لرونکي توکي او جغل رسوب کوي او د وړو دانو لرونکي توکي خپل حرکت ته دوام ورکوي په بل ځای کې بیا سنگچلونه او په پای کې میده دانه شگه لاندې کيږي او کله چې اوبه براس وکړي بیلابیل مواد (ډیرې وړې ذرې) رسوب کوي او په دې ډول د رسوبي ډبرو د طبقو بیلابیل ډولونه جوړوي.

د ځمکې لاندې اوبو جیولوجیکي فعالیت

د باران او واورې اوبه د طبقو د وړو سوریو له لارې د ځمکې دننه طبقو ته لاره مومي او د ځمکې په بیلابیلو ژورو کې ځای نیسي، دغه راز د سمندرونو او سمندرګیو یوه برخه اوبه هم د ځمکې دننه طبقو ته دننه کېږي چې د باران او واورې له اوبو سره یو ځای د ځمکې لاندې اوبه جوړوي. د ځمکې لاندې اوبو کچه د اوبو په نورو ډولونو لکه د مګما براس او د منرالونو په کرسټالي شبکې پورې تړلې اوبه تړاولري. خودا وروستی ذکر شوي اوبه هیچ ډول جیولوجیکي فعالیت نه تر سره کوي، یوازې جاذبوي اوبه د اهمیت وړدي دا ډول اوبه واړه سوري او د ځمکې لاندې تشي ډکوي او د جاذبوي قوې په مرسته حرکت کوي، د ځمکې لاندې اوبه بیلابیل ډولونه لري. د خاورې دننه اوبه، د ځمکې د مخ مومسمي اوبه، د طبقو اوبه، د طبقو د منځ اوبه، د درزونو اوبه او نور چې د ځمکې لاندې اوبو له مهمو ډولونو څخه شمېرل کېږي. د ځمکې لاندې اوبه د ځمکې د مخ د اوبو په څېر جیولوجیکي فعالیت لري او تخریبي عمل تر سره کوي. د ځمکې لاندې اوبه د خپل حرکت په اوږدو کې ډیرې مینځي او تخریب شوي توکي له ځان سره لیرې کوي چې بیا وروسته د غه منحل توکي د ځمکې لاندې تشو کې د ډبرو او منرالونو د جوړېدنې لامل ګرځي.




(۳-۱) شکل د ځمکې د لاندې اوبه لرونکې طبقې

تخریب، لیردول او رسوب

د ځمکې لاندې اوبه تر ټولو د مځه د هغو ډبرو د انحلال قابلیت لري، کوم چې د دې اوبو د بهیر په مخ کې پرتې دي. دا پروسه د ځمکې لاندې اوبو د تخریبي عمل په نامه یادوي. د ځمکې لاندې جاذبې اوبه د دې توان لري چې ډبرې ومینځي، یعنې په میخانیکي ډول یې تخریب او منحل شوي توکي له یوه ځایه بل ځای ته ولېږدوي او په دې ډول د ځمکې لاندې یا دځمکې پر مخ تشو کې د نیو ډبرو او منرالونو د جوړېدنې لامل شي.

کارستي پروسه او د ډورو په څېر ذرو منحل له جیولوجیکي پلیدو څخه دي چې د ځمکې لاندې اوبو له فعالیت سره تړاو لري برسیره پر دې د ځمکې لاندې اوبه په نورو عملیو لکه بنویدنه د خټو پورته اچول، فرسایش او دایمي کنګل نیونه کې ډیره بڼکاره ونډه لري.

د ځمکې لاندې اوسلچي اوبو په واسطه د ځانگړو ډبرو د تخریب او انحلال په پای کې یو ډول
تشي منځته راځي چې د کارست په نامه یادېږي.



(۱-۴) شکل د اوبو په واسطه د ځمکې دلاندې د اهنکې ډبرو تخریب

د څپرکي عمده ټکي

- جاري يا سطحي اوبه په ټوليزه توگه له اتموسفيري اوربنتونو، د واورې او کنگل له ويلي کيدو او د ځمکې مخ ته د ځمکې لاندې اوبو له راوتلو څخه جوړېږي.
- د اوبو د حرکت سرعت د اوبو په کچې، د سيندونو بستر په ميلان اود درو اووادي گانو په ځينو ځانگړتياوو پورې ارتباط لري.
- د سطحي اوبو جيولوجيکي فعاليت: د ډبرو تخریب، د دانه لرونکو موادو له ليردوني او رسوب څخه عبارت دي.
- سيندونه او چاوي په معمولي توگه دوه ډوله تخریبي عمل لري چې يوې عمقي او بل يې جاني تي دی.
- سيند د بستر د ډبرو تخریب ځينې وختونه د ډبرو د بيلايلې سختۍ له امله سم نه ترسره کېږي او په بستر کې لوړې او ژورې پيلماکوي چې د آبشارونو د جوړېدو لامل گرځي.
- د سيند ساحلي ډيوالونه د جاري اوبو د تخریبي پروسې په پايله کې تخریبي او تخریب شوی مواد د اوبو په مرسته د اوبو د بهير په لوري ليردول کېږي.
- ميله دانه توکي د لامبو وهلو په بڼه او لوی دانه لرونکي توکي دسيند په بستر کې د رځرېدو په شکل حرکت کوي.
- کله چې د اوبو د بهير سرعت لږ شي دانه لرونکي توکي خپل جسامت سره سم رسوب کوي.
- د باران او واروي اوبه، دغه راز د سمندرونو او سمندرگيو يوه برخه اوبه د ځمکې طبقو ته دننه کېږي او د ځمکې لاندې اوبه جوړوي.
- د ځمکې لاندې اوبه د سطحي اوبو په څېر جيولوجيکي فعاليت لري او تخریبي عمل ترسره کوي.
- د ځمکې لاندې اوبه د خپل حرکت په اوږدو کې ډبرې مينځي او تخریب شوي توکي له ځان سره ليردوي، چې بيا وروسته د غه منحل توکي د ځمکې لاندې تشو کې د ډبرو او منرالونو د جوړېدنې لامل گرځي.

د څپرکي پوښتني

۱. د اوبو سرعت په کومو لاملو پورې تړاو لري؟
۲. د جاري يا سطحي اوبو، په جیولوژیکي فعاليت کې کومې پروسې شاملې دي؟
 ۳. د هغو آبشارونو نومونه واخلي کوم چې د کابل سيند په اوږدو پراته دي؟
 ۴. ونه او چاوی څو ډوله تخريبي عمل لري؟ هر يو يې په لنډه توگه تشریح کړئ.
 ۵. کله چې د سيند جانبي تخريب ډیر او شديد وي دره کوم ډول شکل غوره کوي.
 ۶. د والگا، سيند او آمو سيندونه هر کال څومره تخريب شوي توکي ليردوي؟
 ۷. کله چې د سيند د اوبو بهير کم او لږ شي په لومړي سر کې کوم توکي رسوب کوي؟
 - الف- لوی دانه لرونکي (جغل)
 - ب- سنگچلونه
 - ج- ميده دانه (شگي)
 - د- کاربناتونه
 ۸. د ځمکې لاندې اوبه له کومو لاندینيو اوبو څخه جوړې شوي دي؟
 - الف- د باران
 - ب- د ويلي شوي واورې.
 - ج- د سمندر او سمندرگيو
 - د- درې واړه خواښونه سم دي.
 ۹. د ځمکې لاندې اوبه بيلابيل ډولونه لري.
 -
 -
 -
 ۱۰. د اوبو په واسطه ليرديدونکي توکي په لومړي سر کې..... شکل لري خو کله چې ډیر واټن ووهي..... کېږي.


دویم څپرکی

د یخچالونو جیولوژیکی فعالیت

د یخچال د کلمې په اوردو سره ښایي بیلابېلې پوښتنې درته پیدا شي چې یخچال څه شی دی؟ څه ډول تشکیلېږي؟ څه ډول جیولوژیکی فعالیت لري؟ آیا زموږ په هیواد کې هم یخچالونه شته که نه؟ که ووايو چې د کنګلونو د راټولېدو لپاره وړ ځایونه د غرونو آوارې خوږې، په غرونو کې ژورې، د غلي شویو اورشیندونکو خولې شمېرل کېږي، نو ویلای شی چې زموږ د هیواد په کومو ځایونو کې به یخچالونه شتون ولري؟

دغه راز غواړئ پوه شی چې د نړۍ په کومو سیمو کې لوي یخچالونه تر سترگو کېږي او جیولوژیکی فعالیت یې څه اهمیت لري؟

په دې څپرکي کې زيار ایستل شوي چې د یخچالونو په اړه لنډه خو ګټور معلومات تاسو ته وړاندې شي تر څو وکولای شی له هغو څخه په ګټه اخیستې خپل معلومات ډیر کړئ او د اړتیا پر مهال



(۱-۲) شکل یخچالونه

يخچالونه اود هغو په واسطه تر سره شوي فعاليتونه وپيژنئ.

اتموسفيري او رينټونه په ځانگړي توگه واورې د يخچالونو د رامنځته كيدو لامل گرځي لكه چې ومومل د كنگلونو د راتوليدو لپاره د غرونو آوارې څوكې او د هغو تر څنگ ژورې وړ ځايونه گڼل كېږي خو ډېر مهال د غرونو په څنډو كې هم واړه يخچالونه جوړېدای شي.


يخچال د خپل موقعيت په ځاى كې د خپل وزن د قوې تراغيزى لاندې سوروركېږي چې كيداى شي پراخ او د درې پورتنۍ برخې ونيسي او بيا د جاذبې د قوې تر اغيزې لاندې د يوې لويې څو كيلو مترې كتلې په څېر بېلگنه خواته را بڼوبه او تخرېبي عمل تر سره كړي.

د غړيو يخچالونو جيوولوجيكي عمل له لاندنيو پروسو څخه عبارت دى: د ډېرو تخرېب، د دانه لرونكو موادو لير دول او د يخچالونو په واسطه د موادو راتوليدل.

د تخرېب پروسه: د يخچالونو د حركت پر مهال د درو پر مخ د تخرېب پروسه سرته رسېږي په داسې دول چې يخچالونه د درو د مخ اود غرونو د څنډو نرم مواد تخرېبوي او له ځان سره بې ليردوي چې په دې توگه د درو مخ بڼوبه كېږي. دغه راز د خپل حركت پر مهال د درو په تل كې ژورې منځته راوړي. له هغې درې څخه چې يخچال تېر شوي وي، ځانگړى شكل، آوار ديوالونه او د تښت په څېر پراخ تل لري.

لېږدول او د یخچالي موادو رسوب

خړنگه چې مو د یخچالونو په تخریبي عمل کې وویل یخچالونه د موادو د تخریب لامل ګرځي نو دا تخریب شوي توکي چې کچه یې هم لوړه ده د یخچالونو په واسطه لېږدول کېږي او بیا وروسته د ځمکې پر مخ رسوب کوي، یخچالي رسوبي توکي د مورین په نامه یادوي. ټول هغه دانه لرونکي توکي چې د یخچال په واسطه تخریب او لېږدول کېږي، رديف بندي نه لري د هغو په منځ کې د لویو دانو سربیره دورې ډوله ذرې هم لیدل کېږي. یخچالونه کولای شي لویې خټلې لرونکي او ګردې ډبرې او ان د ډبرو لویې کتلې له ځان سره ولېږدوي. د یخچال په واسطه ټول لېږدول شوي توکي د یخچال له ویلي کیدو وروسته د ځمکې پر مخ پاتې کېږي او د ساکن مورین په ډول رسوب کوي. غربي یخچالونه د افغانستان په شمال ختیځو سیمو کې موقعیت لري، لوی یخچالونه د هندوکش په شرقي برخه، د الینگار او پنجشیر سیندونو د پورتنی مجرا په برخه، د واخان غرونو په لړۍ، د واخان سیند د درې پر دواړو خټو، د بدخشان دسفید خرس غرونو په لړۍ کې موقعیت لري. د افغانستان د یخچالونو عملي ارزښت په دی کې دی چې د افغانستان د ختیځو سیمو ډبر سیندونه تغذیه کوي.



(۴-۱) شکل د یخچالي موادو لېږدول

د څپرکي عمده ټکي

- د اتمو سفیر اورښتونه په ځانګړي توګه واوره د یخچالونو د جوړیدو لامل ګرځي.
- د غرونو اوارې څوکي او پر هغو پورې اړوندي ژوري د یخچالونو د تشکیل لپاره وړ ځایونه ګڼل کېږي.
- د یخچال جیولوجیکي عمل د ډبرو د تخریب او د موادو له لیریدلو او رسوب پروسو څخه مشتمل دي.
- یخچالونه د درو د مخ او دغرونو د څنډو نرم مواد تخریبوي او له ځان سره یې لیردوي.
- هغه دره چې یخچال ور څخه تیر شوي وي ځانګړی شکل، اوار دیوالونه او د تشت په څېر پراخ تل لري.
- د یخچال په واسطه لیردول شوي مواد په پای کې د ځمکې پر مخ رسوب کوي او یخچالي رسوبات چې د مورین په نامه یادېږي جوړوي.
- غربي یخچالونه د افغانستان په شمال ختیځو سیمو کې موقیعت لري.
- د افغانستان د یخچالونو عملي اهمیت په دې کې دي چې د افغانستان د ختیځو سیمو ډیر سیندونه ور څخه تغذیه کېږي.

د څپرکي پوښتني

۱. یخچالونه څه ډول له خپله ځایه بې ځایه کېږي اود هغو بې ځایي د څه شي لامل ګرځي؟
۲. یخچالونه د درو د مخ او د غرونو د څنډو د ډبرو د تخریب سرسیره کوم نور فعالیتونه تر سره کوي؟
۳. د هغو موادو ترکیب چې د یخچال په واسطه لیردول کېږي څه ډول دي؟
۴. د افغانستان د یخچالونو عملي اهمیت په څه کې دي؟
۵. غرني یخچالونه د افغانستان په کومو سیمو کې شتون لري؟ سم ځواب په نښه کړئ.
الف- شمال ختیځ ب- شمال لویدیځ
ج- ختیځ د- جنوب ختیځ
۶. یخچالونه کولای شي او حتي له ځان سره ولیردوي.
۷. یخچالي ترسبات د په نامه یادوي.
۸. د درو پر مخ د یخچالونو د حرکت پر مهال کومې پروسي تر سره کېږي؟
الف- د درې تخریب ب- د موادو لیردول
ج- د موادو رسوب د- الف او ب

د ریم څپرکی

د باد جیولوجیکي فعالیت

مونږ او تاسو ټول دا طبیعي پدیده پیژنو حتی د هغې له بیلابیلو ډولونو سره بلدیو ځکه زموږ د هیواد په زیاترو سیمو کې بیلابیل بادونه لگېږي. د بادونو د سرعت په اړوند هم څه نا څه معلومات لرئ د سهار مهال نرۍ وږمه، د مني چټک او ترڅه بادونه د ژمي د موسم ساره بادونه، مولیلي دي خو له نیکه مرغه زموږ په هیواد کې هغه توفانونه چې لوېي وړانۍ رامنځته کوي شتون نلري.

که څه هم د ژوند په اوږدو کې هره ورځ د باد پدیده گورئ او حس کوي بې خوښایي د بادونو د جوړیدو، حرکت، فعالیت او تخریب په اړوند مو معلومات کم وي په دې درسي څپرکي کې زیار ایستل شوی ترڅو د بادونو په اړه په کې مونږ معلومات ځای شي ترڅو وکولای شی له هغو څخه گټه واخلي او هغه پوښتي مو چې د بادونو د جوړیدني او فعالیت په اړه په ذهن کې گرځي آواری شي.

د باد جیولوجیکي فعالیت پر ډبرو د هوا د جریان له اغیزې سره تړي تراو لري، بادونه د خپل فعالیت په پایله کې د ډبرو د میډه کیدو او ښویه کیدو لامل گرځي او دانه لرونکي مواد له یوه ځایه بل ځای ته لیږدوي. چې بیا وروسته دغه



(۱-۳) شکل د بادونو په وسط د ډبرو تخریب

ليږدول شوي مواد د ځمکې پر مخ او سمندر ونو کې د اوارو طبقو په څېر رسوب کوي، رسوبي مواد ځينې وختونه د غونډيو او لوړو په بڼه په ځانگړو سيمو کې ټولېږي، د باد جيو لوجيکي فعاليت د باد له قوې او ډلو سره تړاو لري، په ډېرو حالاتو کې د باد د ماليکولونو حرکت مستقيم الخط او د ځمکې د مخ سره موازي وي چې دا ډول باد د معمولي باد په نامه يادېږي او دانه لرونکي مواد ليرې واټن ته ليردوي.



(۲-۳) شکل ديوڼ

د بادونو تخريبي عمل

د باد له تخريبي عمل څخه مو موخه د هوا د جريان د فشار په پايله کې د ډېرو تخريب او ميله کيدل دي باد کولای شي ډېرې د هغو جامدو موادو په مرسته چې له ځان سره يې ليردوي تخريب کړي دا ډول تخريب د کورريژن په نامه يادوي.

د باد په واسطه د تخريب عمليه د غرنيزو سيمو لږ سوړه درو په گرمو او سوځونکو د بڼو او صحراگانو کې په شديده بڼه پراختيا لري. باد کولای شي د ځمکې پر مخ ژورې جوړې کړي چې بڼه بيلگه يې د افغانستان د ناور په دښت کې بڼه ليدل کېږي د اوړي په موسم کې ډېرې بوريو کې په دې سيمو کې واقع کېږي چې شگې او ډورې هواته پورته کوي. بادونه د ډورو او خاورو ذرې له تنگو درو، او ترانسپورتي لارو (ضير اسفالي) اوله ډېرو نورو ځايونو څخه پورته کوي او بل ځای ته يې ليردوي. د ليردونې واټن د باد په شدت او سرعت پورې تړاو لري. د باد دچټکوالي کمښت د موادو د ترسب لامل گرځي.

شگې د بادونو له ډېرو مهمو رسوباتو څخه گڼل کېږي چې دوخت په تيريدو سره د ځمکې په

آوارو او صحرايي سيمو کي يو پر بل باندې راتړليري اود شگو بيلايلي کتلي جوړوي په دښتو او صحراگانو کي د شگو د تجمعاتو په څير د باد په واسطه جوړ شوي شکلونه د ديون او برخان په نومونو يادوي .

د باد په وسيله د موادو ليردول

باد کولای شي تخريب شوي مواد شگه، د دورو ذرې او شنېلي په بيلايلو بڼو د ځمکي پر مخ د کښولو او يا په هوا کي د لامبو وهلو په بڼه وليردوي کله کله په هوا کي لامبو وهونکي مواد چي د بادونو په واسطه ليردول کيري ډير مهال په هوا کي پاتي کيري اود سلگونو او زرگونو کيلو مترو واټن په وهلو په بيلايلو سيمو کي کښي او بادي رسوبات منځته راوړي، د بيلگي په ډول: هغه شگي او ډورې چي د مارکو او اربو له دښتو څخه د باد پواسطه پورته شوي د ترکمنستان د قراقرم دښتي ته ليردول شوي دي.

د هغو دوړو کچه چي د باد په واسطه د افريقا د يورې صحرا څخه د کاناري ټاپوگانو ته ليردول شوي لږ تر لږه ۱۰ ميلونو ټنو ته رسيري.

د رسوب پروسه: بادونه د بيلايلو ترکيټونو لرونکي دانې له ځان سره ليردوي د خټولې، د چوني د ډبرو، خاورو، کوارتز، فلدسپار ذرې او. نور د باد په واسطه له يوه ځايه بل ځای ته ليردول کيري. ډورې او شگي چي د بادونو په واسطه ليردول کيري. د ځمکي پر مخ او يا سمندررونو کي له نورو هغو رسوباتو سره چي هلته تشکيليري مخلوط کيري. خو ډير مهال بادي ځانگړي رسوبات په وجه کي جوړيږي.

بادي رسوبات له نرمو ډبرو او طبقو څخه شميرل کيري ځکه چي د سميتيشن (*Ce e teti*) عمليه په کي ډير وړو تر سره کيري. هغو شگو چي د بادي ليردوني په واسطه رسوب کړي وي ډير مهال د خټو او خاورو لرونکي وي دغه راز د بڼوبه او ځنډو لرونکو دانو بيلايل ډولونه په کي ليدل کيري. بادي رسوبات په غير موازي ډول موقعيت نيسي او ډير مهال په مايل او موجي شکل ليدل کيري.

د دريم څپرکي عمده ټکي

- بادونه دخپل فعاليت په ترڅ کې د ډبرو د میده کېدو او ښوښه کېدو لامل گرځي، دانه لرونکي مواد له يوه ځايه بل ځای ته ليردوي چې بيا وروسته ليردول شوي مواد رسوب کوي.
- رسوبي مواد کله کله د غونډيو او لوړو په څېر راټولېږي.
- د باد جيمولوجيکي فعاليت د باد د قوي او ډول پورې تړاو لري.
- د باد په واسطه د تخريب له عمليې څخه مو موخه داده چې د هوا د جريان د فشار په پايله کې ډبري میده او تخريزېږي.
- بادونه د ډبرو او خاورو ذري له تنگو درو، ترانسپورتي خاموسرکونو (غیر اسفالتي) د چوڼي ډبرې، خاورې، کوارتر، فلدسپارونه او نورو ذري د باد په واسطه له يوه ځايه بل ځای ته ليردوي.
- باد کولای شي تخريب شوي توکي لکه شگي، د ډورو ذري او حتی شنيلې په بيلا بيلو ښو د ځمکې پر مخ کښولو او يا په هوا کې دلامبو وهلو په بڼه وليږدوي.
- بادي رسوبات نرمې ډبرې او طبقې دي ځکه د سمستيشن عمليه په کې ډيره وړو تر سره کېږي.

د څپرکي پوښتني

۱. بادونه د خپل فعاليت په ترڅ کې د کومو پروسو د رامنځته کېدو لامل ګرځي؟
۲. آیا بادونه کولای شي د ځمکې پر مخ ژوري جوړې کړي؟ د يو مثال په ډول يې واضح کړئ.
۳. هغه کوم مواد دي چې بادونه يې له ځان سره ليردوي او بيا د بادي رسوباتو د جوړېدو لامل ګرځي؟

۴. په شگلنو دښتو کې د باد په واسطه د شګو څخه جوړ شوي شکلونه په کومو نومونو يادېږي؟
۵. د باد په واسطه د تخريب شوو موادو ليردول څه ډول ترسره کېږي؟
۶. بادونه کوم ډول مواد ډير ليرې وړان ته ليردولای شي؟ بيلګې يې وښايئ.
۷. د هغو ډورو کچه چې د باد په واسطه د افريقا د ليرې صحرا څخه د ټاپوګانو ته ليردول شوي لږ تر لږه ټو ته رسېږي.
۸. بادونه د داني له ځان سره ليردوي د

۹. د باد رسوبات له:
الف- کلکو ډبرو څخه عبارت دي
ب- نرمو ډبرو څخه عبارت دي

ج- مترآکو ډبرو څخه عبارت دي
د- ټول ځوابونه سم دي
۱۰. د باد په واسطه دموادو د ليردوني وړان په کومو لاندینيو لاملونو پورې تړاو لري؟
الف- چټکوالي او شدت
ب- سيمه او محل
ج- د باد ډول
د- هېڅ يو

څلورمه برخه

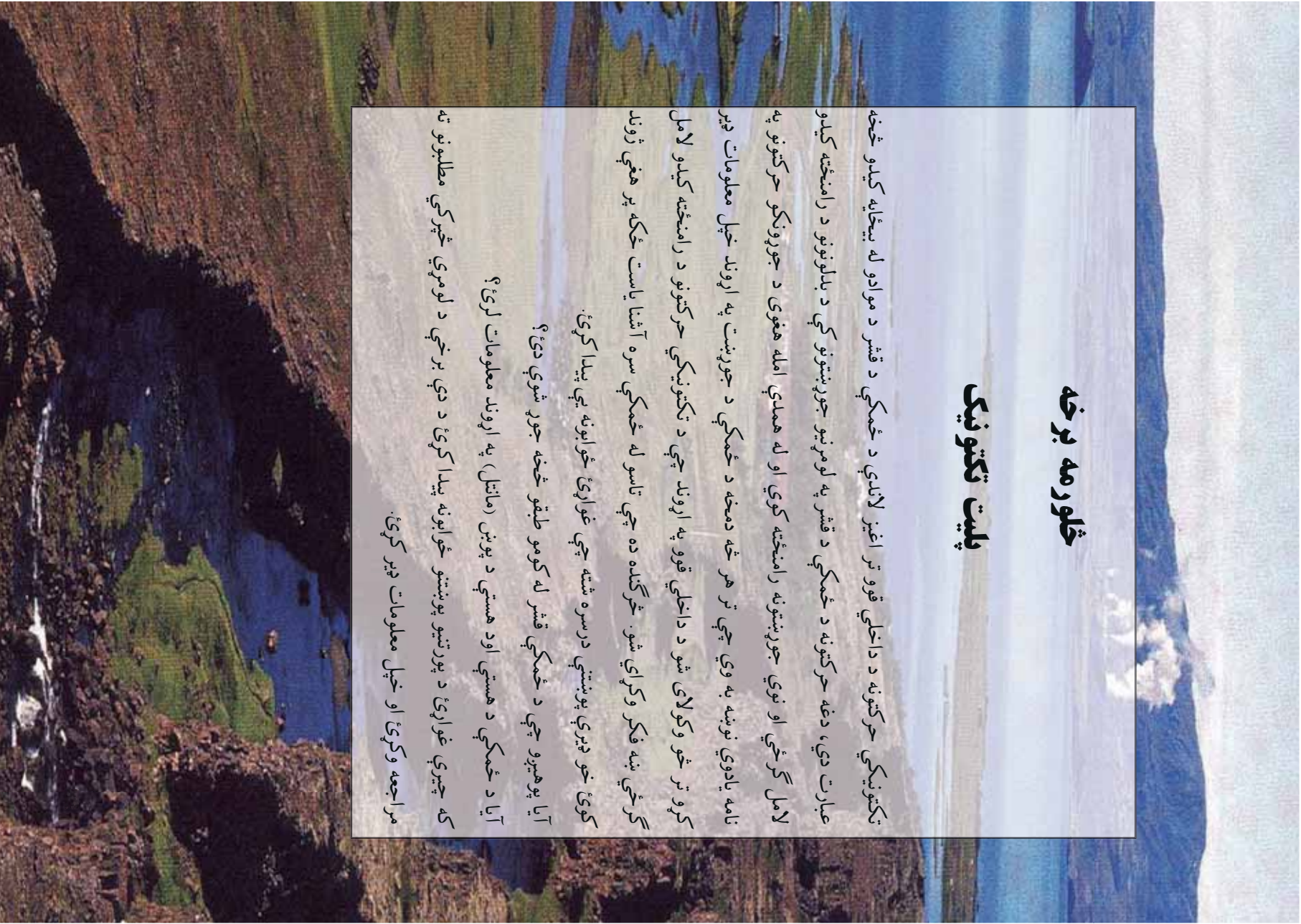
پليټ ټکټونیک

ټکټونیکي حرکتونه د داخلي قوو تر اغیز لاندې د ځمکې د قشر د موادو له بیخايه کیدو څخه عبارت دي، دغه حرکتونه د ځمکې د قشر په لومړنیو جوړښتونو کې د بلونونو د رامنځته کیدو لامل ګرځي او نوي جوړښتونه رامنځته کوي او له همدې امله هغوی د جوړونکو حرکتونو په نامه یادوي نوښه به وي چې تر هر څه دمخه د ځمکې د جوړښت په اړوند خپل معلومات ډیر کړو تر څو وکولای شو د داخلي قوو په اړوند چې د ټکټونیکي حرکتونو د رامنځته کیدو لامل ګرځي ښه فکر وکړای شو. څرګنده ده چې تاسو له ځمکې سره آشنا یاست ځکه پر هغې ژوند کوی، خو ډیرې پوښتنې درسه شته چې غواړئ ځوابونه یې پیدا کړئ.

آیا پوهیږو چې د ځمکې قشر له کومو طبقو څخه جوړ شوي دي؟

آیا د ځمکې د هستې اود هستې د پوښ (مانتل) په اړوند معلومات لری؟

که چیرې غواړئ د پورتنیو پوښتنو ځوابونه پیدا کړئ د دې برخې د لومړي څپرکي مطالبونو ته مراجعه وکړئ او خپل معلومات ډیر کړئ.



لوپري څپرکي

د ځمکې طبقه بندي

آيا پوهيږئ ځمکه له بيلابيلو طبقو څخه چې يو ډول ترکيب نه لري جوړه شوي ده؟
آيا د ځمکې د قشر په اړه چې له دريو بيلابيلو طبقو څخه جوړ شوي معلومات لرئ؟
د ځمکې قشر نامتجانس ترکيب لري، چې د ژوروالي پر بنسټ پر دريو طبقو ويشل شوي: رسوبي طبقه (پورتي)، گرانيتي طبقه (منځنۍ) او بزالتي طبقه (بنکتنۍ)

رسوبي طبقه

رسوبي طبقه له نرمو او تينو ډبرو څخه جوړه شوې د دې طبقې ډبرې په اوبو کې د موادو د کلکو دزو د رسوب په پايله کې او هم د هوايي شرايطو پر بنسټ جوړيږي. د رسوبي ډبرو طبقې په موازي توگه يو پر بل واقع کيږي د رسوبي ډبرو کثافت له 1 څخه تر 2 گرامه پر سانتي متر مکعب بدلون مومي. د رسوبي ډبرو پيروالي هم په فرق العاده ډول بدلونکي حالت لري چې له څو سانتي مترو څخه تر ۱۰ او ۱۵ کيلو مترو پورې رسپري په ځينو ځايونو کې حتی دا طبقه هيڅ نه ليدل کيږي.

گرانيتي طبقه

په تيرولو ستونزوکې مو د ډبرو په اړوند معلومات تر لاسه کړي او د هغو بيلابيل ډولونه مو وپيژندل. د ځمکې د قشر گرانيتي طبقه هم له ډبرو جوړه شوې چې مگماتيکي او متحوله ډبرې يې بنسټ

جوړوي. دگرانتي طبقې پيروالی ډير بلېدونکي دي اوله يو کيلو متر څخه تر ۲۰ او ۴۰ کيلو مترو پورې رسېږي په سمندري ژورو کې گرانتي طبقه بيخي له منځه ځي. د دې طبقې د عمده ډبرو کثافت له ۲,۵۶ څخه تر ۲,۷۰ گرامه پر سانتي متر مکعب ته رسېږي. د دې طبقې په لاندیني سرحد کې د تودوخې درجه د سانتي گراد ۱۰۰۰ درجو او فشار ۹۸۱ ميگا پاسکال يا ۱۰۰۰ اتموسفیرو ته پورته کېږي د گرانتي طبقې لاندیني سرحد د کنراد په نامه يادوي.

بزاني طبقه

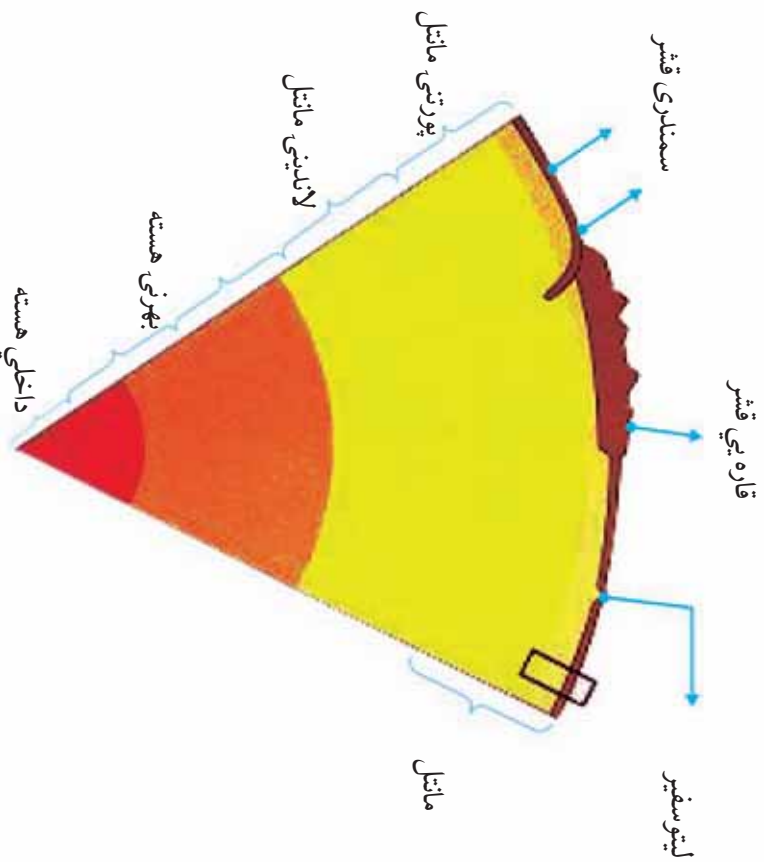
دا طبقه ډيره پراخه ده اود ځمکې د قشر په ټولو برخو کې شتون لري پيروالي يې له ۸ څخه تر ۳۰ کيلو مترو پورې رسېږي د دې طبقې فزيکي ځانگړتياوې د بزالت ډبرو ته ورته والې لري. د بزاني طبقې کثافت تر ۳,۳ گرامه پر سانتي مکعب پورې زياتېږي. د دې طبقې لاندیني سرحد د ځمکې د قشر د لاندیني سرحد^۱ په توگه منل شوی او د موهو يا M سرحد په نامه يادېږي. **د هستي پوښ (مانتل)**

د هستي پوښ يا مانتل طبقه له ۸ څخه تر ۸۰ کيلو مترو او حتي تر ۲۹۰۰ کيلو مترو ژوروالي پورې موقعيت او غير متجانس ځانگړتيا لري. په مانتل کې د موادو فزيکي ځانگړتياوې لکه کثافت، د تودوخې درجه او فشار، د ژوروالي په ډيريلو سره بدلون مومي، په غالب اټکل ماده د هستي په پوښ کې ډير مهال په جامد حالت ليدل کېږي اود پورتنۍ برخې د تودوخې درجه يې په ۱۰۰ کيلو مترو ژوروالي کې لږ تر لږه له ۱۴۰۰ څخه تر ۱۵۰۰ سانتي گراد درجو ته رسېږي چې بيا وروسته د ژوروالي په ډيريلو سره د تودوخې درجه کې هم ورو ورو زياتوالی مومي. د مانتل په ډيرو ژورو برخو کې د فشار کچه سلگونو زرو او يا ميليونونو اتموسفیرو ته رسېږي.

۱- د موهو سرحد د يوگوسلاوي (چه اوس د سرېستان په نامه يا دېږي) يوه موهو اويحيج چې په ۱۹۵۹ کال کې هغه يې ټاکلی دي، په نامه يې ياد شوي دي.

د ځمکې هسته

انسان نه شي کولای نېغ په نېغه د ځمکې هستې ته لاس رسې پېلما کړي، د ځمکې د هستې په اړوند ټول اطلاعات او معلومات د اټکلونو او فرضیو پر بنسټ استوار دي. د ځمکې د هستې ټولې فزیکي ځانګړتیاوې له چاپېر قشر څخه شدید توپیر لري. د ځمکې په هسته کې فشار میلیونون اتوموسفیرو ته رسېږي، په هسته کې د موادو کثافت د ګرامه پر سانتي متر مکعب په شاوخوا کې او د تودوخې درجه د سانتي ګراد له ۲۰۰۰ درجو څخه زیاتېږي.



(۱-۱) شکل د ځمکې طبقي

د څپرکي عمده ټکي

- د ځمکې قشر نا متجانس ترکیب لري او له دريو طبقو: رسوبي، گرانتي او بزالتی څخه جوړه شوي ده.
- د رسوبي طبقې ډبرې په موازي توگه يو پر بل واقع کېږي.
- درسوبي طبقې پيرووالي له څو سانتي مترو څخه تر ۱۰ او ۱۵ کيلو مترو پورې رسېږي.
- ماڼل د ځمکې له ۸ څخه تر ۸۰ او تر ۲۹۰۰ کيلو مترو ژوروالي کې موقعيت لري.
- د ماڼل طبقه د متجانس ترکیب لرونکې ده.
- د هستې پوښ ډبر مهال جامد حالت لري او په ۱۰۰ کيلو متره ژوروالي کې يې د پورتي ډبرې د تودوخې درجه د سانتي گراد له ۱۴۰۰ څخه تر ۱۵۰۰ درجو پورې رسېږي.
- د ځمکې د هستې په اړوند د انسان معلومات د اټکلونو او فرضيو پر بنسټ استوار دي.
- د هستې فزيکي ځانگړتياوې د چاپير قشر سره ډير توپير لري.
- د ځمکې د هستې کثافت د 1 گرامه پر سانتي متر مکعب په شاوخوا کې او تودوخه يې د سانتي گراد له ۲۰۰۰ درجو څخه زياته ده.

د څپرکي پوښتني

۱. د ځمکې قشر له څو طبقو څخه جوړ شوي نومونه يې واخلې؟
۲. د رسوبي او گرانتي طبقو پيروالي څومره دی؟ په ترتيب سره يې ووايئ.
۳. د ځمکې د هستې پوښ يا مانټل په کوم ژوروالي کې موقعيت لري او د تودوخې درجه يې څومره ده؟
۴. د ځمکې په هسته کې فشار څومره دی؟
۵. د ځمکې د قشر او هستې د کثافت په اړوند معلومات ورکړئ.
۶. ولې انسان نه شي کولای نيغ په نيغه د ځمکې هستې ته لاس رسې پيدا کړي؟
۷. ماده د هستې په پوښ کې کوم لاندیني حالت لري؟
 - الف- مايع ب- جامد ج- مايع او جامد د- گاږي
۸. د ځمکې د قشر لاندینی سرحد په کوم نوم يادوي؟
 - الف- موهو ب- کنراد ج- موهورو پيچيچ-د- هيچ يو
۹. د گرانتي طبقې په لاندیني سرحد کې د تودوخې کچه څومره ده؟
 - الف- C ب- 1 ج- C د- 1
۱۰. رسوبي طبقه له ډبرو څخه جوړه شوې ده.

دويم څپرکي

د وچو ليري کيدل

پوهنيزو چي وچي د حرکت په حال کي دي ځکه د ځمکي د قشر حرکتونه اود مگما فعاليت د ځمکي په تکامل او پر مخنگ کي يو عمده فکتور گڼل کيږي او د بيلايلو جوړښتونو لکه غرونو د سمندرونو د نوي قشر د جوړيدو او نورو د رامنځته کيدو لامل گرځي. ايا غواړي د وچو د حرکت په اړوند معلومات تر لاسه کړئ؟

آيا پوهيږي چي د حرکت پواسطه پليټونه، نوي وچي، سمندري، سمندري، سمندرونه، غرونه او سمندري لويي ژوري مينځته راځي.

که د دي څپرکي مطلبونو ته مراجعه وکړئ د پورتنني موضوع په هکله به ډير معلومات لاسته راوړئ.

د وچو حرکت

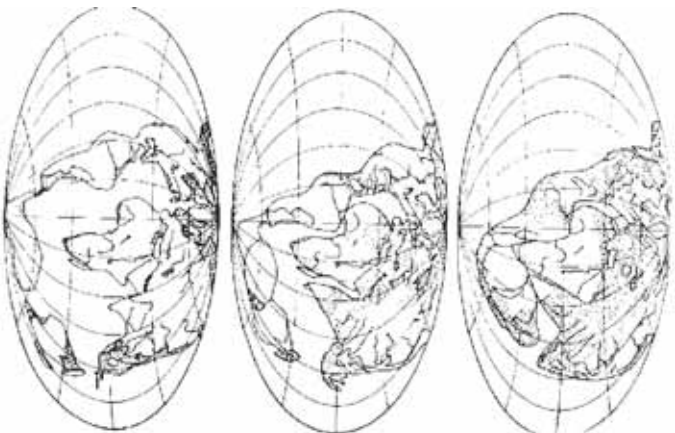
په ۱۹۱۵ کال کي يو آلماني پوه (وگنر) د هغو شواهدو په رڼاکي چي لاس ته يي راوړي وو وويل چي لږ تر لږه ۲۰۰ ميليونه کاله پخوا ټولي وچي سره يو ځاي او يوه واحده وچه يي چي د پنگيا (*a gaia*) په نامه ياديده جوړه کړي وه.

دا لويه وچه ورو ورو په دوو لويو وچو وویشل شوه او له ميليونونو کلونو وروسته هره يوه يي ټوټي ټوټي او ننني وچي ځيني جوړي شوي.

که څه هم وگنر د خپلو ويناوو لپاره ښه دليلونه وړاندې کړي وو خو دهغه مهال د پوهانو د شديد مخالفت سره مخامخ شو.

هغه دلايل چي وگنر د خپل ادعا د ثبوت لپاره وړاندې کړي وو د وچو په دواړو خواوو کي د فسيلونو يو ډول والي، د دواړو خواوو د ډبرو ورته والي او د دواړو خواو د ځينو سازگاري پکي شامل وو. د وگنر له مرگ څخه وروسته د جيولوجستانو يو لږ شمير د نوموړي نظريه تاييد کړه خو د څو کلونو په تيريدو سره د ۱۹۵۰ - ۱۹۶۸ کلونو ترمنځ پدې لاره په ځانگړي توگه د سمندرونو

د تل په استقامت ډیر پر مخکښک وښو د دې ټولو اطلاعاتو مجموعه د وګر د نظريې د تایید لامل وګرځیده.



(۱-۲) شکل دواکثر له نظره د دریو ویلا بیلو پړاوکی د وجو وضعیت.

دې نظريې په ۲۰۰۰ میلادي کال کې ډیر نور پر مخکښک هم وکړ په دې اړوند د پلټونو درې ډوله اساسي حرکتونه مطالعه کوو.

۱- لیري کیدونکي پلټونه

ډیری هغه ځایونه چې پلټونه په کې له یو بل څخه لیري کېږي په سمندرونو کې موقعیت لري پدې سیمو کې وېلي شوي مواد د پلټونو په مینځ کې د موجودي مجرا له لارې بهرته راوځي په هم هغه ځای کې کلکېږي او نوي قشر جوړوي. سمندرونه په هرو دوو کلونو کې څو سانتي متره پراختیا پیدا کوي او دغه راز پدې سیمو کې د وېلي شوو موادو بهرته راوتل د سمندرونو په مینځ کې د غزونو د لړۍ د رامینځته کیدو لامل ګرځي.

۲- نږدې کیدونکي پلټونه

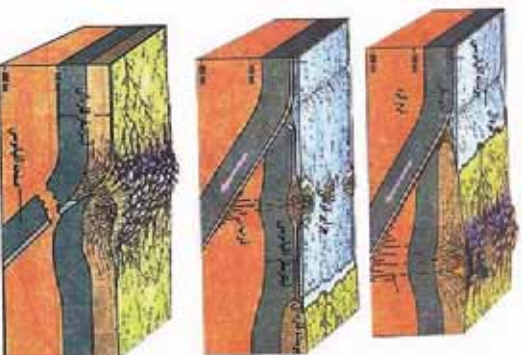
خرنگه چې نږدې کیدونکي پلټونه د بیلابیلو فزیکي او کیمیاوي ځانګړتیاوو لرونکي دي نو له همدې امله نوي جوړیدونکي پلټنې په دريو ښو تبارز کوي.

الف- د وچې پلټ سره د سمندري پلټ برخورد:

پلټې سیمو کې سمندري پلټ د وچې پلټ لاندې ننوزي چې د پلټ د څښوي د کروښلو له امله په سمندر کې د وچې په امتداد لویې ژوري مینځته راځي سمندري پلټ په ډیره کچه سمندري رسوبات ښکته لورته بیایي کله چې دا مواد د سلو کیلو مترو په شاوخوا کې ژوروالي ته ورسېږي ویلي کېږي او د وچې پلټ له مجراگانو راوځي او د اورشیندنکو څرونو د جوړېدو لامل ګرځي.

ب- د دوو سمندري پلټونو برخورد:

پلټې سیمه کې یو پلټ د بل پلټ لاندې ننوزي او د پلټونو د څښلو د کروښوالي له امله، لویې سمندري ژوري مینځته راځي، هغه پلټ چې د ښکته ټک په حال کې وي د پورتنۍ حالت په څیر ویلي کېږي او له هغه څخه مینځ ته راغلي ویلي شوي مواد د سمندر له تل څخه بهر راوځي د دې اورشیندنکو د فعالیت ادامه، د اورشیندنکو ټاپوگانو د رامنځته کیدو لامل ګرځي.



(۲-۲) شکل د دوو سمندري پلټونو لگیدل او حرکت

ج- د دوو و چو پليټونو لگيدل

پدې سيمو کې يو پليټ د بل پليټ لاندې نه ننوزي ځکه د دواړو کثافت لږ او سره برابر دي د دې برخو د په پايله کې د غرونو د رامنځته کېدو زمينه برابريږي.
د آلپ، هماليا، اورال او پامير غرونه د وچو د پليټونو د ټکر په پايله کې منځته راغلې دي.



شکل (۲-۳) د دوو چو پليټونو لگيدل.

۳- د پليټ جانبي حرکت

دا حرکت هغه مهال واقع کېږي چې دوه صفحې د يو او بل تر خوا تيرې شي پدې حالت کې نوي قشر منځته راځي او تخریب صورت نه نيوسي ځکه دوه گاونډي پليټونه د يو او بل تر څنګ شخړېږي او په پاې کې لوي شکستونه او درزونه منځته راځي. د سن انډراس شکستګي چې د آرام سمندر او شمالي امريکا ترمنځ جوړه شوې د دې حرکت په واسطه منځته راغلې ده.



شکل (۲-۴) د پليټونو جانبي حرکت

فعاليت

يو لوښتي له اوبو څخه ډک کړئ او د لوښتي لاندېنې منځنۍ برخې ته د يوې حرارتي منبېې يو اسطه حرارت ورکړئ، وروسته بيا د اورلگيت دوه د بلي د لوښي په منځنۍ برخه کې چې د حرارتي اثر ژى سره په تماس کې وه کېږدئ او د خپل کار پايله وگورئ.

د څپرکي عمده ټکي

- د پليټ تکتونیک نظريه لومړي ځل په ۱۹۱۵ کال کې د يوه آلماني پوه پواسطه چې وګر نومیده وړاندې شوه.
- لږ تر لږه ۲۰۰ ميليونه کاله پخوا ټولې وچې يو ځای اوبه لويه وچه يې جوړه کړې وه چې د پنگيا په نامه يادیده.
- پليټونه درې ډوله اساسي حرکتونه لري: هغه پليټونه چې يو له بل څخه ليرې کېږي، هغه پليټونه چې يو او بل ته نږدې کېږي او هغه پليټونه چې جانبي حرکت لري.
- د وګر دليلونه د خپل ادعا د ثبوت لپاره د وچو په دواړو خواوو کې د فسيلونو يوډول والي، په دواړو خواوو کې د ډبرو ورته والي اود دواړو څنډو سازګاري وو.
- ډيری هغه ځايونه چې پليټونه په کې يو له بل څخه ليرې کېږي په سمندرونو کې واقع شوي.
- څرګه چې نږدې کېدونکي پليټونه د بيلابيلو فزيکي او کيمياوي ځانګړتياوو لرونکي دي نو نوي رامنځته کېدونکي پديدې په دريو بڼو تبارز کوي: د وچې پليټ سره د سمندر د پليټ پرڅوړد، د دوو سمندري پليټونو پرڅوړد، د دوو وچو پليټونو پرڅوړد.
- د پليټونو جانبي حرکت هغه مهال واقع کېږي چې د وه صفحی د يو او بل تر خوا په جانبي صورت تيرې شي.
- د پليټونو په جانبي حرکت کې، دوه ګاونډي پليټونه د يو او بل تر څنګ بڼوبڼې او د چاوډونو او درزو (شکستګي) د رامنځته کېدو لامل ګرځي.

د څپرکي پوښتني

۱. هغه واحده وچه چې لږ تر لږه ۲۰۰ ميليونه کاله پخوا يې شتون درلود په کوم نوم يادېده؟
۲. د پليټونو ليري کيدل په لنډه توگه تشرېح کړئ؟
۳. د سن انډراس شکستگي د پليټ د کوم ډول حرکت څخه منځته راغلې.
۴. د پليټونو د حرکت د اساسي ډولونو نومونه واخلې.
۵. د وچي پليټ سره د سمندري پليټ د ټکر په پايله کې کوم لاندې حالت رامنځته کېږي؟
 - الف- سمندري پليټ د وچي پليټ لاندې ننوزي.
 - ب- د وچي پليټ د سمندري پليټ لاندې ننوزي.
 - ج- دواړه پليټونه جانيي حرکت غوره کوي.
 - د- درې واړه ځوابونه سم دي.
۶. هغه ځايونه چې ډير مهال پليټونه په کې يو له بل څخه ليري کېږي چيرته موقعيت لري:
 - الف- په سمندرونو کې
 - ب- په وچو کې
 - ج- په وچو او سمندرونو کې
 - د- درې واړه ځوابونه سم دي
۷. د دوو سمندري پليټونو د برخورد په پايله کې يو پليټ د بل پليټ منځته او د پليټونو د څنډو له امله، لويې منځته راځي.
۸. د پليټ د جانيي حرکت په ترڅ کې د يو او بل تيرېږي او پدې حالت کې منځته راځي او صورت نه نيسي.
۹. د وچو د پليټونو د ټکر په پايله کې د منځته راغلي دي.
۱۰. سمندرونه په هرو کې څو توسعه پيدا کوي.

دریم څپرکي


د سمندرونو او سمندرگيو د تل پراختيا

پوهنيزې چې سمندرونو او سمندرگيو د ځمکې د مخ ډبره برخه نيولې ده خو د هغو بدلونونو په اړوند چې د سمندرونو او سمندرگيو په تل کې منځته راځي لږ معلومات لري څرنگه چې تکتونيکي قواوې په وچو کې د بدلونونو او تغييرونو لامل گرځي په سمندرونو او سمندرگيو کې هم دغه قواوې فعالې دي. د وروستيو څېړنو او مطالعو په ترڅ کې معلومه شوي چې د سمندرونو او سمندرگيو تل د پراخيدو په حال کې دی. آیا غواړئ پوره شئ چې دا پراختيا څه ډول صورت نيسي؟ د سمندرو او سمندرگيو د تل پراختيا په کومو لاملونو پورې تړاو لري؟

پوهان له کومو لارو څخه گټه واخلي ترڅو د سمندرونو او سمندرگيو د تل څېړنه او مطالعه وکړي: د دې څېړکي د محتوياتو په مطالعې سره تاسو به دې توانيدای شئ چې د هغو مسالو په اړوند چې معلومات نلري معلومات تر لاسه کړئ.

د وگړو د نظريې په اړه مو په لومړي څپرکي کې بحث وکړ. وروسته له هغې چې په ۱۹۱۵ کال کې وگړو د وچو د ځای پر ځای کيدو نظريه مطرح کړه د ۱۹۲۹ څخه ۱۹۶۲ کلونو ترمنځ د دې نظريې په اړوند ډبر موافق او مخالف بحثونه تر سره شوه ترڅو هنس د سمندرونو د تل د حرکت په اړوند خبرې وکړي او وپي ويل چې د سمندرونو په منځني برخه کې، سمندري قشر مخ په زياتيدو دي او دغه عمل د هغو د پراختيا و په پای کې د وچو د ځای پر ځای کيدو لامل گرځي، د وچې قشر (يا د سمندري قشر) لاندې د سمندري قشر ننوتل چې د ژورې سيمې په اړوند کې تر سره کېږي د دې لامل گرځي چې دا قشر ماننل ته ورسېږي. د سمندري ژورې په شاتينې برخه کې، د سمندري رسوباتو او سمندري غرونو يوه صفحه د وچې قشر پر مخ گړول کېږي.

د سمندرونو او سمندرگیو د تل د پراختیا په اړوند، د وروستیو وختونو پوهانو لخوا ډیری څیړنې او مطالعې تر سره شوي. د سمندرونو او سمندرگیو د تل د پراختیا په اړوند ډیری بیلابیلې لارې چارې کارول شوي چې د مقناطیسي انومالونو د اندازه کولو، د سمندري اورشیندونکو لرغونتوب، د حرارتي جریان او د درزونو او گونځو د مطالعې لارې چارې (میتودونه) په کې شاملې دي چې دلته د مقناطیسي انومالو د اندازه کولو میتود د یو اغیزمن میتود په ډول په لنډه توګه تشریح کوو.



(۳-۱) شکل د سمندرونو او سمندرگیو د تل پراختیا

د مقناطیسي انومالونو د اندازه کولو میتود

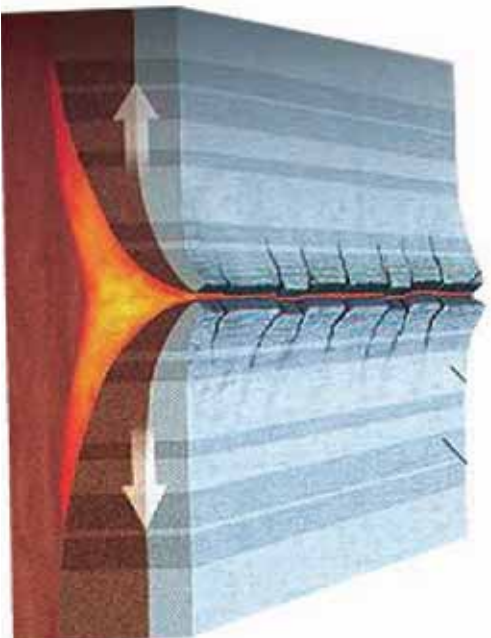
د سمندرونو او سمندرگیو د تل د پراختیا په اړوند یو اغیزمن میتود د مقناطیسي مثبتو او منفي انومالونو اندازه کول دي چې په متناوب ډول واقع شوي او د سمندرونو د تل په ډبرو کې هم لیدل کېږي، مقناطیسي انومالونه د ځمکې د مقناطیسي قطب د اضمحلال بنکارندويي کوي. د سمندرونو په تل کې نوموړي انومالونه د سمندري لږو سره د موازي کرښو په بڼه راڅرګندېږي.

که د دې کرښو وسعت د ځمکې د مقناطیسي قطب له اوږد مهاله بدلونونو سره چې د تېرو شورو څو سوو میلیونو کلونو په ترڅ کې د ځمکې په قشر کې واقع شوي پرتله کړو یو حیرانونکي

مطابقت به وگورو.

د سمندري لږيو ډبري ډبري خواني او په تازه گي سره جوړې شوي، هر څومره چې د سمندر د منځ لږيو څخه په دوو لورو حرکت کوو، پخواني ډبري را څرگندېږي دا حالت مونږ ته راښيي چې سمندري لږيو قشر د سمندري لږيو له سمې څخه راولاړ شوي او ورو ورو دوو لورو ته بې حرکت کړی دی.

د سمندرونو د پراختيا سربيره، د سمندرونو د تل تخريب هم د سمندرنو د اوبو په واسطه صورت نيسي. د سمندر د تل تخريب، د موادو میده کيل او ميخل، دغه راز د سمندرونو د څنډو تخريب د ملو جزر پر مهال تر سره کېږي.



(۲-۳) شکل په سمندر کې مقناطيسي انومالونه

د خپړکي عمده ټکي

- هنس هغه څوک ؤ چې د سمندرونو د تل د حرکت په اړوند يې خبرې وکړي او ويې ويل چې د سمندرونو په منځنۍ سيمه کې سمندري قشر د زياتيدو په حال کې دی.
- د سمندري قشر زياتوالی د دې قشر د پراختيا اوبه پای کې د وچو د ځای پر ځای کيدلو لامل گرځي
- د وچې (يا د بل اوقيانوس) قشر لاندې د سمندري قشر نوتل چې د سمندر په ژوره سيمه کې ترسره کېږي د دې لامل گرځي چې دا قشر د هستي پوښ يا ماثل ته ورسېږي.
- هغه لارې چارې (میتودونه) چې د سمندرونو د تل پراختيا د خپړنې او مطالعې په موخه کارول کېږي د مقناطيسي انومالو اندازه کول، د سمندري اورشېندونکو لرغونتوب، د حرارتي جريان او د چاودونو، درزونو او گونځو مطالعه کول دي.
- د سمندرونو او سمندريو د تل پراختيا د نظريې د ثبوت لپاره اغيزمن ميتود د مقناطيسي مثبتو او منفي انومالونو اندازه کول دي چې په متناوب ډول واقع شوي او د سمندرونو د تل په ډبرو کې ليدل کېږي.
- مقناطيسي انومالونه د ځمکې د مقناطيسي قطب د اضمحلال ښکارندويي کوي.
- د سمندرونو په تل کې مقناطيسي انومالونه د سمندري لړيو سره د موازي کرښو په بڼه راڅرگندېږي.
- د سمندري لړيو ډبرې ډبرې او په تازه گي. سره جوړې شوي هر څومره چې د سمندر د منځ لړيو څخه په دوو لورو حرکت کوو راڅرگندېږي.

د څپرکي پوښتني

۱. د سمندرونو د تل د حرکت په اړوند د هنس نظريه په لنډه توگه بيان کړئ.
۲. د سمندرونو د تل پراختيا په کومو میتودونو مطالعه او څيړل کېږي؟ نومونه يې واخلئ.
۳. د مقناطیسي انومالونو د اندازه کولو میتود کوم ځای کارول کېږي؟
۴. د سمندرونو د تل د مطالعې او څيړنې لپاره اغيزمن میتود کوم دی؟
۵. مقناطیسي انومالونه د سمندرونو په تل کې څه ډول راڅرگندېږي؟ سم ځواب په نښه کړئ؟
 - الف- د سمندري لږيو سره موازي ب- د سمندري لږيو سره مایل
 - ج- د سمندري لږيو باندې عمود د- هېڅ یو
۶. د سمندري لږيو ډبرې د لرغونتوب له مخې څه ډول دي؟
۷. د سمندرونو د تل د پراختيا برسیره، نوري کومې پروسې د سمندرونو په تل کې واقع کېږي؟
۸. د سمندري لږيو ډبرې ډبرې او په تازه گي سره جوړې شوي هر څومره چې د سمندر د منځ لږيو څخه په دوو لورو حرکت کوو راڅرگندېږي.

څلورم څپرکی

پلیت څه شی دی؟

څرنگه چې په مخکښو لوستونو کې ورته اشاره شوې، پلیت تکتونیک پوه نوي موضوع ده که څه هم وګنر په ۱۹۱۵ میلادي کال کې په دې اړوند څېړنې کړې خو دې پوهې د ۱۹۵۰ او ۱۹۷۰ کلونو ترمنځ پرمختګ کړی دی. تاسو او د ټولو لپاره پلیت تکتونیک پوه په زړه پورې موضوع ده ځکه ټولې لویې پلیدي چې د ځمکې پر مخ واقع کېږي لکه د غرونو جوړېدل، اورشیندونکي، د وچو حرکت، د سمندرونو او سمندرګو د تل پراختیاد پلیت تکتونیک په واسطه مطالعه کېږي.

نو حتماً پوښتنه کوئ چې پلیت څه شی دی؟ وچې د پلیت تکتونیک د نظريې سره سم څه حالت درلودای شي؟ غرنې کمربندونه او سمندري ژورې څه ډول منځته راغلې دي؟ سمندري فارمېستونه څه دي؟

دغه راز ډیری نوري پوښتنې شته چې غواړئ ځوابونه یې ترلاسه کړئ. که چیرې تاسو په دې څپرکي کې طرحه شوي مطلوبه په څیر سره ولولئ د خپلو ډیرو پوښتنو ځوابونه پیدا کولای شئ او د تکتونیکي پروسو په اړوند مو معلومات نور هم ښیرېږي. د ځمکې قشر له یو شمیر حرکت لرونکو صفحو څخه جوړ شوي دي چې په دایمي ډول د برخورد او لیرې کیدو په حال کې دي. د ځمکې لیتوسفیر له نهو لویو او دوولس ورو صفحو څخه تشکیل شوي دي. وچې د قاره یي صفحو او د سمندرونو د تل ډیرې برخه د سمندري صفحو څخه تشکیل شوي دي.

د تکتونیکي صفحو با پلیت تکتونیک مطالعه زموږ سره مرسته کوي ترڅو د وچو لیرې کېدل، د سمندرونو د تل پراختیا، اورشیندونکي فورانونه او د غرونو جوړېدل ښه توضیح کړو. هغه قواي چې د ځمکې د تکتونیکي صفحو د حرکت لامل ګرځي د لاندني ماټل د ورو حرکت تر اغیز لاندې شکل نیسي، د ماټل کلکه برخه د هغې تودوخې له

له امله چې د لاندې خوا څخه ورته متوجه ده پورته خواته حرکت کوي چې د بیا سپیدو څخه وروسته کټي او دا پروسه میلیونونه کلونه اوږدېږي. نو له دې امله د ځمکې د صفحو لیرې کېدل په میلیونونو کلونو کې تر سره شوي او اوس هم د ځمکې بهرنۍ بڼه بدلوي.

د دې صفحو هر پوه چې د وچې په نامه یادېږي هر کال ۵۰ ماپله (۸۰ کيلو متره) حرکت کوي. پليټ تکتونیک د ساختماني جیولوجي پوه څانگه ده چې د صفحه یي حرکتونو له پروسو سره تړاو لري او د صفحو د دغه حرکت او د وچو د تصادم او ټکر له امله وېلي تړاو ده مواد منځته راځي، دغه راز د صفحه یي حرکتونو پروسې د نړۍ په سطحه د لوړو گونجیو د رامنځته کېدو، د غرونو زلزلو او اورشیدونکو د جوړیدو لامل گرځي.

غربي کمربندونه او سمندري ژوري

جیولوجیکي پروسې له رامنځته کېدو وروسته ځینې نښې له ځان څخه پرېږدي نو د غرونو منځته راتلل چې په وچو او سمندرونو کې د ځمکې دننه فعالیتونو په پایله کې صورت نیسي له جیولوجیکي جریانونو څخه شمیرل کېږي. هغه لوړ جوړښتونه چې د شاوخوا سیمو په پرتله یي لوړوالی له ۶۰۰۰ مترو څخه ډیروی د غرونو په نامه یادېږي، غرونه په وچو او سمندرونو کې شتون لري.



(۱-۴) شکل په وچه او سمندر کې غربي کمربندونه

غربي ڪمربندونه د هغو لوړو غرونو لړۍ ده چې په نوي زمان کي منځته راغلي ده، دغه راز هغه پخوانۍ غرنۍ لړۍ چې د وخت په تيريدو سره يې لوړوالی له لاسه ورکړی وي او با هم د هغو ډير پخواني ډولونه چې بنياني اوار شوي وي د غربي ڪمربندونو څخه شميرل کېږي. په غربي ڪمربندونو کې دټولو دننه پروسو ډولونه ترسترگو کېږي. آلپ او هماليا د ځوانو غربي لړيو او د اپالاس غرونه له پخوانيو غرونو څخه شميرل کېږي.

غرونه د دوو پليټونو د حرکت او ټکر څخه منځته راځي د بېلگې په ډول د هماليا د غرونو لړۍ د هند د نيمې وچې اود آسيا د جنوبي برخې د پليټونو ټکر محصول گڼل کېږي په دې پروسه کې د هند پليټ د آسيا د جنوب د پليټ لاندې ننوتلې اود هماليا او تبت د غرنۍ لړۍ د رامنځته کېدو لامل گرځېدلې دي. دغه راز د پليټونو حرکت نړۍ د پيلاپيلو سيمو د غربي لړيو د رامنځته کېدو لامل گرځي.

د سمندرونو په تل کې لوړې او غونډۍ چې ډير مهال مخروطي بڼه لري د سمندرونو لاندې او رشيډونکو د فعاليت په ترڅ کې منځته راغلي دي د بېلگې په ډول هغه لوړه (برجستگي) چې د اطلس په سمندر کې د څو زرو کيلو متر اوږدوالي او د ۳۰۰۰ مترو شاوخوا په لوړوالي وجود لري. د سمندرونو د لويو ژورو منځته راتلل هم د ټکنو بڼې حرکتونو سره تړاو لري د آرام سمندر ډيره ژوره برخه چې د ماريانا د ژورې په نامه يادېږي ۱۱۰۵۳ متره ژوروالي لري چې د ټکنو بڼې فعاليتونو په ترڅ کې منځته راغلي ده.

ډيري سمندري لويې ژورې د سمندرونو په مرکز کې واقع شوي نه دي بلکې غربي ساحلونو ته نژدې د قاره يي مېلان او د سمندري کاسې په سرحد کې واقع شوي دي. د بېلگې په ډول د کوريل



(۲-۴) شکل په سمندرونو کې د ژورو منځ ته راتلل

سمندري ژوره (په ۱۰۵۷۲ متره ژوروالي سره) د کوربيل غزنيو ټاپوگانو ته مخامخ، د مارپانا ژوره (۱۱۰۵۳ متره ژوروالي سره) د مارپانا د ټاپوگانو سره د چپاي - پيرو ژوره (د ۸۰۶۴ متره ژوروالي سره) د جنوبي امريکا د انډغرونو ته مخامخ واقع شوي دي.

سمندري فاسيسونه

د سمندري او قاره يي رسوباتو په لوست کې مو اشاره وکړه چې په سمندرونو کې رسوبي ډبري د بيلا بيلو شرايطو لاندې جوړېږي چې د ځانگړتياوو او دتشکيل د شرايطو پر بنسټ په فاسيسونو وپشل شوي دي، د فاسيس اصطلاح په ۱۸۳۸ کال کې د سوېسي ځمکې پېژندونکي گريس لخوا وړاندې شوه.

فاسيس د متجانسو ډبرو (رسوباتو) ټولگه ده چې د ځانگړو فزيکي او کيمياوي شرايطو لاندې جوړه اود کاملو ځانگړو بېوسينوزونو لرونکي وي. بېوسينوز د ځانگړو ارگانيزمونو ټولگه ده چې په ځانگړو شرايطو کې ژوند کوي).

فاسيسونه په ساحلي، د مرجاني رېفونو فاسيتونه، د سمندري لويو ژورو او دغه راز د سپندونو د آبخېزۍ په اړودو کې او د غرونو د لمنو په فاسيسونو وپشل کېږي.

فاسيسونه کېدای شي د وخت په تېرېدو سره د بوي وچي او يا سمندر په حدودو کې راڅرگند شي.

د ساحلي کرښې د موقعيت د بدلون پدیده په چپو لوجيکي تاريخ کې ډېر مهال منځته راغلي ده سمندر کولای شي د وچي لورته پر مختگ اوبا برعکس له وچي څخه شاته تگ وکړي د سمندر د پرمختگ پر مهال د ساحلي فاسيسونو په منځ کې بدلونونه منځته ته راځي په هغې کې چې پخوا جغل رسوب کړي ؤ شگه اود شگي ځاي د خټو وړې ذرې نېسي. د سمندر د شاته تگ پر مهال د خټو پر مخ شگه او په پورتي برخه کې کانگوميراتونه منځته راځي بايد وويل شي چې سمندر د افغانستان له قلمرو څخه له ۲۵ تر ۳۰ ميلون کاله پخوا په شا شوي دي.

د څپرکي عمده ټکي

- د ځمکې قشر له يو شمېر متحرکو صفحو څخه جوړ شوي چې تل د ټکر او برخورد يا له يو بل څخه د ليرې کيدو په حال کې دي.
- وچې له قاره يې صفحو اود سمندرونو د تل عمده برخې له سمندري صفحو څخه جوړې شوي دي.
- هغه قواوې چې د ځمکې د تکټونیکي صفحو د حرکت لامل گرځي د لاندیني مانل د وړو حرکت په پايله کې شکل نيسي.
- د دې صفحو څخه هره پوه چې د قارې يا وچې په نامه يادېږي هر کال شاوخوا ۵۰ مایله يا ۸۰ کيلو متره حرکت کوي.
- پليت تکټونیک د ساختمانی، جېولوجي پوه څانگه ده چې د صفحه يې حرکتونو له پروسې سره تړاو لري.
- په وچو او سمندرونو کې د ځمکې د داخلي فعالیت په پايله کې غرونه منځ ته راځي.
- هغه لوړ جوړښت چې له شاوخوا سيمو څخه يې لوړوالی له ۶۰۰ مترو څخه ډېر وي د غره په نامه يادېږي. غرونه په وچو او سمندرونو کې شتون لري.
- غرنيز کمربندونه د لوړو غرونو لړۍ دي چې په نوي، پخوانۍ او ډېره پخوانۍ زمانه کې منځته راغلي.
- الپ او همالیا له ځوانو غرنيزو لړيو او د ایلاس غرونه له پخوانيو غرونو څخه شمېرل کېږي.
- غرونه کېدای شي چې د دوو پليټونو د حرکت او ټکر څخه منځته راشي؛ د بېلگې په ډول: د همالیا غرنيزه لړۍ د هند د نيمې وچې او د آسيا د جنوبي برخې د پليټونو د ټکر محصول دی.
- د پخوانيو سمندرونو د ژورو منځته راتلل د تکټونیکي حرکتونو سره تړاو لري. د آرام سمندر ډبره ژوره سيمه د ماریان ژورې په نامه يادېږی چې ۱۱۰۵۳ متره ژوروالی لري.
- فاسيس د متجانسو ډبرو پوه تړلگه ده چې د فزيکي او کېمياوي ځانگړو شرايطو لاندې جوړ شوي او د ځانگړو بيوسينټوزونو لرونکي دي.
- فاسيسونه په ساحلي فاسيسونو، مرجاني ريفونو او سمندري لوبو ژورو فاسيسونو باندې وپشل کېږي.

د څپرکي پوښتي

۱. د ځمکې قشر له څو لویو او وړو صفحو څخه جوړ شوي دي؟
۲. د تکتونیکي صفحو باپلیت تکتونیک په مطالعه کې کومې پروسي او پدیدې شاملې دي؟
۳. پلیت تکتونیک تعریف کړئ؟
۴. غر څه شی دی؟ ایا په سمندرونو کې هم غرونه وجود لري که نه؟
۵. غرنیز کمربندونه په لنډه توګه تشریح کړئ؟
۶. غرونه څه ډول منځته راځي؟ بېلګې یې وښایئ.
۷. ډېری سمندري لویې ژورې د سمندرونو په مرکز کې واقع بلکې غرنیزو او په سرحد کې واقع شوي.
۸. د کوریل سمندري ژوره ربه ژوروالي سره) د مضامخ پرته ده.
۹. فاسپسونه په کومو لاندینيو ډولونو پېلما کېږي:
 - الف- ساحلي فاسپسونه
 - ب- مرجاني رېفونه
 - ج- سمندري لویې ژورې
 - د- درې واړه سم دي.
۱۰. سمندر څو مېليونه کاله پخوا د افغانستان له قلمرو څخه شاته تګ کړی دی.
 - الف- ۳۰ - ۲۵ مېليونه
 - ب- ۵۰ - ۳۰ مېليونه
 - ج- ۷۵ - ۵۰ مېليونه
 - د- ۲۰۰۰ مېليونه

پنځمه بر خه زلزله

لومړی څپرکی

تعريف، ميکانيزم، د سايزمکي څپو ډولونه او د طبيعي چاپيريال پېښې.

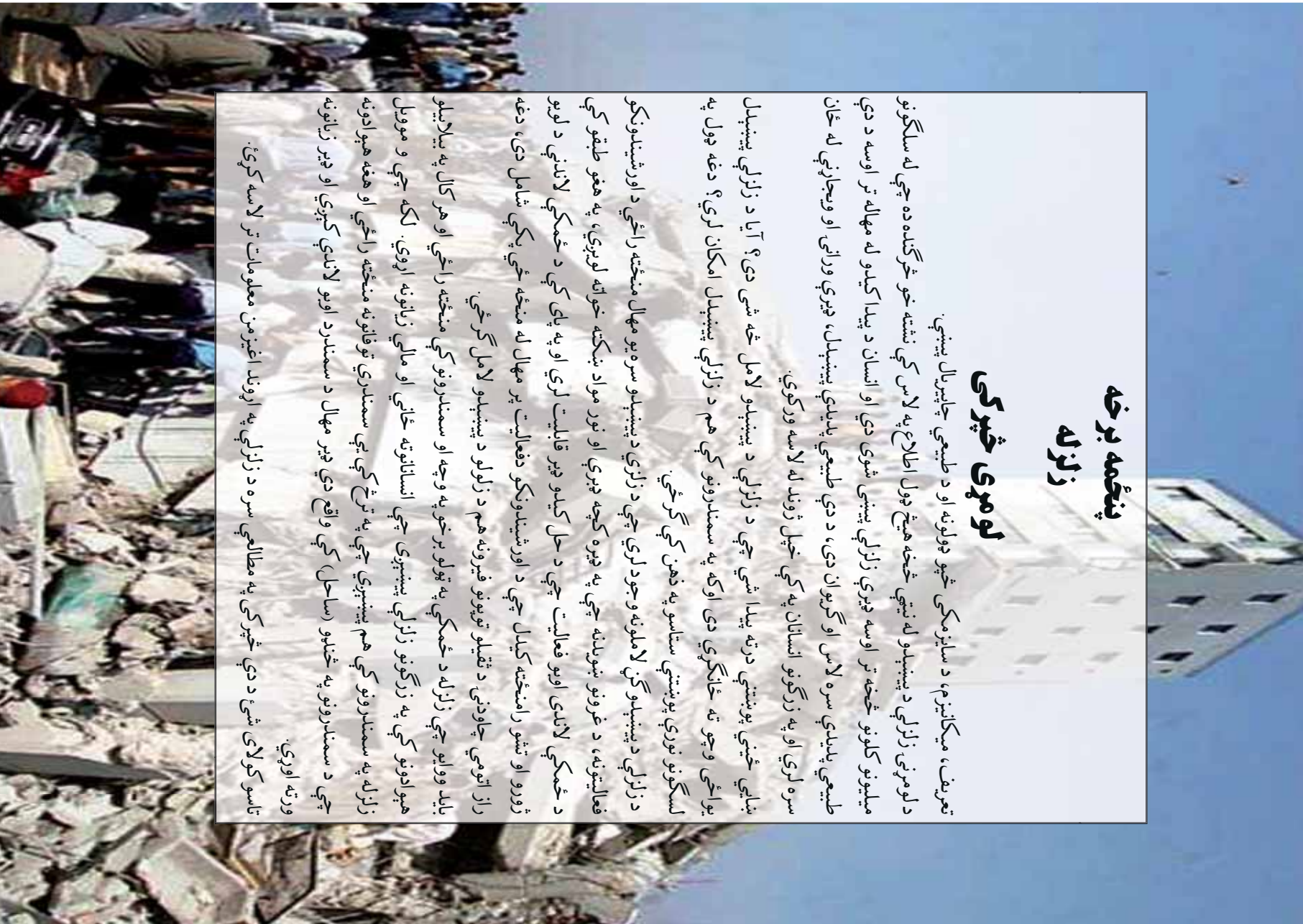
د لومړني زلزلي د پېښېدو له نېټې څخه هېڅ ډول اطلاع په لاس کې نشته خو څرگنده ده چې له سلگونو ميليونو کلونو څخه تر اوسه ډيرې زلزلي پېښې شوي دي او انسان د پيدا کېدو له مهاله تر اوسه د دې طبيعي پدېدې سره لاس او گروان دی، د دې طبيعي پدېدې پېښېدل، ډيرې وړانې او ويجاړنې له ځان سره لري او په زرگونو انسانان په کې خپل ژوند له لاسه ورکوي.

بنايي څښې پوښتنې درته پيدا شي چې د زلزلي د پېښېدو لامل څه شي دی؟ آیا د زلزلي پېښېدل يراځي وچو ته ځانگړي دی اوکه په سمندرونو کې هم د زلزلي پېښېدل امکان لري؟ دغه ډول په لسگونو نوري پوښتنې ستاسو په ذهن کې گرځي.

د زلزلي د پېښېدو گڼ لاملونه وجود لري چې د زلزلي د پېښېدو سره يو مهال منځته راځي د اور شيندونکو فعاليتونه، د غرونو ښوېدنه چې په ډيره کچه ډيرې او نور مواد ښکته خواته لوېږي، په هغو طبقو کې د ځمکې لاندې اوبو فعاليت چې د حل کېدو ډير قابليت لري او په پای کې د ځمکې لاندې د لوبو ژورو او تشو رامنځته کېدل چې د اور شيندونکو فعاليت پر مهال له منځه ځي پکې شامل دی، دغه راز انومي چاودنې، د تقيلو توپونو فيرونه هم د زلزلو د پېښېدو لامل گرځي.

بېلابېل ووايو چې زلزله د ځمکې په ټولو برخو په وچه او سمندرونو کې منځته راځي او هر کال په بېلابېلو هېوادونو کې په زرگونو زلزلي پېښېږي چې انسانانوته ځاني او مالي زيانونه اړوي. لکه چې و موږل زلزله په سمندرونو کې هم پېښېږي چې په ترڅ کې يې سمندري توفانونه منځته راځي او هغه هېوادونه چې د سمندرونو په څنډو (ساحل) کې واقع دي ډير مهال د سمندر د اوبو لاندې کېږي او ډير زيانونه ورته اوړي.

تاسو کولای شئ د دې څپرکي په مطالعې سره د زلزلي په اړوند اغيزمن معلومات تر لاسه کوئ.



زلزله

زلزله له وړانورونکو طبيعي پديدو څخه ده چې د نړۍ په بيلا بيلو سيمو کې کله ناکله منځته راځي او ډير مالي او ځاني زيانونه له ځان سره لري.

په ۱۵۵۶م کال کې د يوې زلزلې د پېښېدو له امله د ۸۳۰ زرو کسانو مړينه او په ۱۹۷۶م کې د چين زلزله چې ۷۵۰ زره کسان يې ووژل له وړانورونکو زلزلو څخه شميرل کېږي. د تخار ولايت په رستاق کې د ۱۹۹۵ کال زلزله چې لږ تر لږه ۶۱۰ کسان يې له منځه يوړل او دغه راز د اندراب د ۱۹۹۷ کال زلزله له فاجعې اړونکو زلزو څخه وي، خو خفيفې زلزلې په هره اونۍ او مياشت کې يو يا دوه ځله پېښېږي.

باید وويل شي چې زلزله د ځمکې فزيکي طبيعي پېښه ده چې د خلقت له پيله تر اوسه پېښېږي، د ځمکې لرزيدل د طبيعي لاملونو له امله صورت نيسي خو لومړنيو وگړو د زلزلې د پېښېدو په اړوند افسانوي نظريې درلودې لکه د غوايي په ښکرو او يا هم د کب او ښمار پر شا د ځمکې قرار نيول يې يو څو بيلگې دي خو له هغو څېړنو څخه چې د زلزلې په اړوند سره شوي د هغو سمبول په اړوند چې د پاسفيک په شاوخوا کې پرته دي لکه:

جاپان، چين، فلپين، الگوينزيا، ټاوان، نوي زيلاند الاسکا، کاليفورنيا او د جنوبي امريکا سواحل چې تل په کې شديدي زلزلې پېښېږي ښي پايلې لاسته راغلي يو ښه پر محتمک گڼل کېږي.

دغه زلزلې د پليټونو له حرکت څخه منځته راځي خو نور ډير لاملونه هم د زلزلې پر پېښيدو اغيزمن ثابتيدای شي. کولای شو چې زلزله په لاندې ډول تعريف کړو:

زلزله د ځمکې د قشر له خوځېدو او رېښو څخه عبارت ده کوم چې د پليټونو په ځنډو کې د زبرمه شوي اثرۍ له آزاديدو او نورو تکتونيکي لاملونو په ترڅ کې منځته راځي او له پېښېدو څخه يې وروسته کورونه ودانۍ، پلونه، سرکونه او نور ويجاړېږي.

د زلزلې ميکانيزم، درجه او شدت

د بيلا بيلو زلزلو شدت او له ټکانونو څخه راپيدا شوې لرزې يو له بله ډير توپير لري ځينې يې دومره ضعيفې دي چې د انسان په واسطه نه حس کېږي او يوازې د زلزلې د ثبت د ځانگړو آلو يعنې (Sei age h) په مرسته ښېږي خو له هغو څخه ځينې دومره شديدي او قوي وي چې د ځمکې

پر مخ درزونه او چاودونه منځته راوړي، وېرونکي غرونه، د دیوالونو وېجاړتیا، د ودانیو وېجاړېدل، د اوبو د زېرمو وړانښل او د سرکونو او تخنیکي تاسیساتو له منځه تلل د دې ډول زلزلو زېربنده بلل کېږي. ډېوهانو لخوا زلزلې په لسو یا دوولسو ګروټونو ویشل شوي دي.

په هر ګروپ کې د زلزلې شدت د بال په واسطه اندازه کېږي تر ۱۰ بالو شدت لرونکي زلزلې په ۱۹۱۲ کال کې د میر کالي کانکالي لخوا ترتیب شوي ډیر شهرت لري. هغه وېش چې د انسان د احساس پر بنسټ تر سره شوي ډیر ځانګړي دي، خو بڼه والی یې په دې کې دی چې په آسانه او ساده ډول تعینېږي. عام وګړي او هغه کسان چې د ساینز مولوګي سره هیڅ بلنډیا نلري د دې ډول زلزلو ارزښتي کولای شي. د بال پر بنسټ د زلزلو وېش د مقیاس په نامه یادېږي چې په لاندې جدول کې یې لیدای شئ.

د زلزلې د ثبتولو آلې د ساینزموتر (*Sei ete*) په نامه یادوي خو په ټولیزه توګه زلزلې ثبتېدل د زلزلو د ثبت د الې یا (*Sei g a h*) په واسطه چې په لاندیني شکل کې ښودل شوي تر سره کېږي.




(۱-۱) شکل د زلزلې د ثبت اله

د زلزلي د څپو ډولونه

څڅپي د بيلا بيلو زلزلو د پيښېدو له امله منځته راځي دا څڅپي بنيايي د چټکوالي، د څڅپي د لمبني اوږدوالي او د تناوبي دوری له نظره سره توپير ولري.

د زلزلي څڅپي دا چې د ځمکې پر مخ او دننه کې خپريږي په دوو ډلو: دننه او سطحي څپو وېشي دننه څڅپي د P او S له څپو څخه چې د ځمکې په مرکز کې منځته راځي او د ځمکې دننه خپريږي جوړې شوي دي، دغه څڅپي د لومړنيو څپو ($a e - i a$) او د دوهمو څپو ($a e - Sec e$) په نومو يادېږي سطحي څڅپي د طبقو د گډ فصل او د داخلي څپو د ټکر په پايله کې او دغه راز د ځمکې پر مخ توليدېږي.

سطحي څڅپي بيلا بيلې بڼې لري چې ډير بې مهمې بڼې يې د لارو څڅپي ($a e e$) او د ريلې څڅپي ($a Leigh a e$) دي. د لارو څڅپي د S څپو ته ورته حرکت لري. د ريلې څڅپي د سمندري څپو د حرکتونو په څير ډزي په يوه داږوي مدار کې په لرزه راوړي خو د لارو سطحي څپو چټکوالی د ريلې څپو له چټکوالي څخه ډير وي دغه ډول چې د سطحي څپو لمنه د داخلي څپو له لمبني څخه ډيره لويه ده نو ځکه د ويجاړونې اصلي لامل گڼل کېږي. لاندينی شکل د څپو ډولونه راښيي.



(۱-۲) شکل د زلزلی څپي

د طبيعي چاپيريال پيښي

انسان په هغه چاپيريال کې چې ژوند کوي د مهمو او غير منتظره پيښو لکه زلزه، اورښکونکي، سيلابونه، زورور توفانونه، د غرونو ښوېدل، د ځمکې کنښناستل او نورو طبيعي پيښو سره چې د نوموړي ژوند ته گواښ کېږي مخامخ وي.

بلد وويل شي چې طبيعي پيښي د ځمکې د کرې له طبيعي پروسو څخه شميرل کېږي او د ځمکې کره حتی بې له انسان څخه خپله دنده تر سره کوي.

له بده مرغه انساني فعاليتونه په مستقيمه توگه (دوڼو پرې کول) او هم په غير مستقيمه توگه: د انرژۍ بيلابولو سرچينو څخه پراخي گټې اخيستنې (نفت، ډبرو سکاره، لرگي) پر چاپيريال ناوړه اغيزې پرې باسي او د ځمکې په کره کې د بېلابېلو پيښو د رامنځته کېدو او په ځمکه کې د اقليمي بدلونونو لامل گرځي.

د (۲۰۰۰) م کال په پيل کې لويديځه اروپا د زورورو توفانونو او له زغمه وتلو سارو سره مخامخ شوه په ځانگړي توگه د فرانسې په هېواد کې د ډبرو سارو له امله ډبرو انسانانو خپل ژوند له لاسه ورکړ د ځنگلونو او د پاريس ښار د پارکونو ډبري زړي ونې له بيخه راووتې.

نوبنکارډبري چې انساني او طبيعي دواړه فعاليتونه د طبيعي پيښو په رامنځته کېدو کې مهم رول لوبوي د طبيعي پيښو څو بېلگې په لنډه توگه مطالعه کوو.

د سيلاب د راوتلو لاملونه

سيلاب هغه مهال راوځي چې د سيند کاناال ونه شي کړای د طغيان ظرفيت ولري، ډير بارانونه، د واورې ژر ويلي کېدل د ښتونو ويجاړېدل د سمندري توفانونو رامنځته کېدل او په ساحلونو کې د اوبو، نفوذ د سيلابونو د راوتلو مهم دليلونه دي سيلابونه په لمدو هوا په ځانگړي توگه په وچه هوا کې واقع کېږي په وچو سيمو کې د اورښت کلنۍ کچه ښايي لږه وي خو ډير زياتونه اولی شي ځکه لږ ښايي پورتنی زبان رسوني سيلابونه منځته راوړي.

ځينې سيلابونه د بندونو ماتېدو او ويجاړېدو په ترڅ کې جاري کېږي د بېلگې په ډول په (۱۸۸۹) ميلادي کې د پسنلوانيا په جانستون کې د اوبو د بند د ماتېدو له امله لوی سيلاب جوړ شو چې د (۲۰۰) تنو مړيني لامل وگرځيد او سيمه يي ډير زيانمنه کړه.

سونامي دوله سيلابونه

سونامي د ساحلي آوارو سيلابونوله ډلي څخه گڼل کېږي چې د سمندري شلېدو توفانونو سره يو ځای وي نو په دې اساس د سمندري توفانونودوه مرکرونه وجود لري.

- 1- تيفون e h په آرام سمندر کې
- 2- هريکن د اطلس سمندر استوايي اولونونه

دا دواړه توفانونه ډير شلېد، چټک او ويجاړونکی دی. ډير مهال د چنگاښ په لومړيو کې چې د لمر وړانگې د استوا په لیکه عمود لگيږي استوايي تپت فشار دی سمبي شلواخوا ته منځته راځي د سمندر په مخ د زورورو بوړبوړکو لوي مرکرونه داسې ډول په حرکت راځي چې هيڅ گراداب او د نړۍ لوي سيند په هغه شدت او چټکوالي عمل نه شي کولای.

استوايي توفانونه (تيفون) د آرام سمندر په شلواخوا کې پراخي سمبي نيسي چې د ځمکې د تودوخې درجي او د اقليم په بدلونونو اغيز پرېاسي او په وروستيو کلونو کې له بله مرغه ډير شوي دی. د ۲۰۰۸ کال د آرام سمندر سونامي لوي زلانه درلودل چې د ساحلي هيوادونو لپاره ټکان ورکوونکی وو او ميليونونه کورنۍ يې بې سرينه کړي او له سلو زرو څخه ډير انسانان يې ووژل. په شمالي او مرکزي امريکا کې سونامي د هريکن او استوايي توفانونو تر نامه لاندې عمل کوي چې په کيوبا کې د بومودا سيمه، د امريکا متحده ايالتونو په شرقي استقامت په ځانگړي توگه د فلوریدا ايالت او نور د شلواخوا ايالتونه ترې زيانمن کېږي. په منځني توگه هر کال د هريکن پنځه توفانونه د امريکا متحده ايالتونو ختيځ سواحل ويجاړوي. د امریکاه متحده ايالتونو کې د سونامي ۲۵ پېښو ناوړه اغيزي پرېښي دی کومې چې له (۱۹۴۶) کال څخه راپدېخوا پېښې شوي له دې پېښو څخه ۶ سونامي داسې پېښ شو چې ۲۵۰ نفره يې ووژل او زيربنايي تاسيساتو ته يې ميليارډونه ډالره زيان ورساوه، دغه راز د هلاوايي، پورتوريکو او واهين ټاپوگانو ته هم زيانونه ورسيدل.

د څپرکي عمده ټکي

- د لومړني زلزلې د پېښېدو نېټه معلومه نده خو له پېښېدو څخه يې سلکونه ميليونه کلونه تېرېږي.
- زلزلې سربيره پر دې چې په وچو کې پېښېږي په سمندرونو کې هم پېښېږي.
- د زلزلې د پېښېدو اصلي لاملونه د ځمکې د پليټونو د حرکت، د اورښيندونکو فعاليت د غرونو بڼو بدلون د ځمکې لاندې فعاليتونو په ترڅ کې د پورټينو طبقو لوبدل، اټومي چاودنې، د ثقيلو توپونو فېرونه د غږ له چټکوالي څخه په لوړچټکوالي الوتکو الوتل او نورو څخه عبارت دي.
- ډيري او زورورې زلزلې په جاپان، چين، فلپاين، اندونېزيا، تايوان، نوي زيلانډ، د جنوبي امريکا په غربي سواحلو کې پېښېږي.
- د زلزلې زوروتيا د سايزموگراف پواسطه نښتېږي.
- د زلزلې د زور د معلومولو پخاطر مير کالي کانکالي په (۱۹۱۲) کال کې يو جدول طرحه کړ چې زلزلې په کې له ۱ څخه تر ۱۲ بالو وېشل شوي دي.
- د زلزلې څپې په دوو ډلو يعنې داخلي څپې چې د P او S څپې په کې شاملې دي او بهرنۍ څپې چې بېلابېل ډولونه لري او د لاو او رېلي څپو څخه جوړې دي، وېشل شوي دي.
- د طبيعي چاپيريال پېښو کې زلزه، توفانونه، اورښيندونکي، زورور سيلابونه د غرونو بڼو بدل او د ځمکې د طبقو کښتياستل او تور شامل دي.

د څپرکي پوښتي

۱. د زلزلي د پېښېدو لاملونه کوم دي؟ نومونه يې واخلي.
۲. زلزله تعريف کړئ.
۳. د زلزلي د تاريخ په اړوند معلومات ورکړئ.
۴. د نړۍ په کومو سيمو کې ډېرې زلزلي پېښېږي؟
۵. د زلزلي زور ورلي د کومې آلې پواسطه ټاکل کېږي؟ سم ځواب په نېټه کړئ.
۶. د زلزلي د شدت وېش د کوم يو لاندني پوه په واسطه تر سره شو؟ سم ځواب په نېټه کړئ.
- الف- فورېل ب- ميرکالي کانکالي ج- فورېل – کانکالي د- د الف ځواب سم دی.
۷. هغه څپې چې د ځمکې پر مخ او دننه څېرېږي په څو ډلو وېشل کېږي.
- الف- د P څپې ب- د S څپې ج- د P او S څپې د- درې واړه ځوابونه سم دي.
۸. داخلي څپې له کومو لاندنيو څپو څخه جوړې شوي دي.
- الف- د P او S له څپو څخه ب- له طولې څپو څخه
- ج- له سطحي څپو څخه د- له لومړنيو څپو څخه
۹. په لرېديځه اروپا کې کوم کال زورور توډانونه واقع شول کومو چې اروپا له زورورو ساړو سره مخامخ کړه.
- الف- ۲۰۰۴ ب- ۲۰۰۰ ج- ۱۹۰۰ د- ۲۰۰۳
۱۰. په سوېلي ډوله سيلابونو کې د سمندري توډانونو کوم مرکرونه وجود لري.
- الف- د تيفون او هرېکن توډانونو مرکرونه ب- د استرالي توډانونو مرکرونه
- ج- د آرام سمندر د توډانونو مرکرونه د- د ځواب سم دی.

دویم څپرکی

ساختماني جیولوژی

کله مو پام کړی دی چې د ځمکې دقشر طبقې په افقي او آوازه بڼه یو پر بل باندې واقع شوي نه وي او ډیرې گونځي لري او یا مو هم ډیر درزونه او چاودونه د ځمکې د قشر په طبقو کې لیدلي وي. اوس باید په دې پوه شئ چې دې طبقو ولې گونځي پیدا کړی، درزونه او چاودونه پکې څه رول میځته راغلي؟ آیا ټولې گونځي، درزونه او چاودونه یو ډول دي او یا یو له بله توپیر لري، که د دې درسي څپرکي مطلوبه مو په څیر سره ولوستل نو د گونځو، درزونو او چاونو په اړوند به په زړه پورې معلومات تر لاسه کړئ.

گونځي او ډولونه یې

گونځي په طبیعت کې د بڼې او جوړښت یا هم د لوڼوالي او پراختیا له مخې په بیلابیلو بڼو او ډولونو لیدل کېږي. باید وویل شي چې د گونځو اوږدوالی ډیر بدلیدونکی دی او له یو سانتي متر څخه تر څو کیلو مترو پورې رسېږي.

گونځي د طبقو له څپې ډوله انحنای څخه عبارت دي چې محاسب اونا مقعر ډوله بڼه لري. محاسب ډول ته یې انټي کلاین او مقعر ډول ته یې سینکلاین وايي. د پورتنی مطلب دښه وضاحت په موخه که مونږ د ماهیږ تنګي او د ورښمن تنګي د سرکونو په اوږدو چې د کابل ننگهار په لویه لار پراته دي او یا د کابل ښار شاوخوا غرونو، شیر دروازه او آسماني جیولوجیکي مقطعي په څیر سره وگورو ډیر شمیر گونځي به مو تر سترگو شي چې د ظاهري بڼې پر بنسټ په لاندې ډول تصنیف او نومول کېږي.

۱- متناظري گونځي

متناظري گونځي له هغو گونځو څخه عبارت دي چې محوري سطحه یې په عمودي حالت واقع شوي او خواوې یې یو له بل سره متناظري وي، ډولونه یې په لاندې ډول دي:

- الف- عادي یا نورمال گونځي
- ب- دڼدانه لرونکي گونځي
- ج- بکس ډوله گونځي

۲- غیر متناظري گونځي

له هغو گونځو څخه عبارت دي چې محوري سطحه يې په عمودي حالت واقع شوي نه وي بلکې يوي لوري ته ميلان ولري او گونځي نظر هغې ته غير متناظر حالت ولري او په لاندي ډول دي:

الف- ميلان لرونکي گونځي:

بوي لوري ته ميلان لري او خواوې يې په غير متناظر ډول واقع شوي او بيلابيلو لورو ته ميلان لري.



شکل ساده گونځي (۲-۱)

- ب- برتې گونځي ج- سرچپه شوي گونځي د- ميلان لرونکي گونځي ه- ډينگري ډوله گونځي
- و- معکوسي گونځي

چاود (شکست)

چاودونه په ډبرو کې ډير مهال په دوو بڼو: درز او شکست بېکاره کېږي.

درز: هغه شکست ته وايي چې د ډبرې دواړو خواوو ته کتلې نسبت يو بل ته يې ځايه شوي نه وي. که چيرې دوه کتلې د يوې سطحې په اوږدو د يو او بل په وړاندې حرکت وکړي او بې ځايه شي نو دغه حالت ته شکست وايي.

هغه چاودونه او درزونه چې په امتدادي حرکت صورت ونيسي او د طبقو بې ځايي د اندازه کولو وړوي د شکست په نامه يادېږي.

شکستونه هم د چاودونو په څېر د ځمکې په قشر په ځانگړي توگه د هغه په پورتنۍ برخه کې په ډېر شمېر ليدل کېږي.

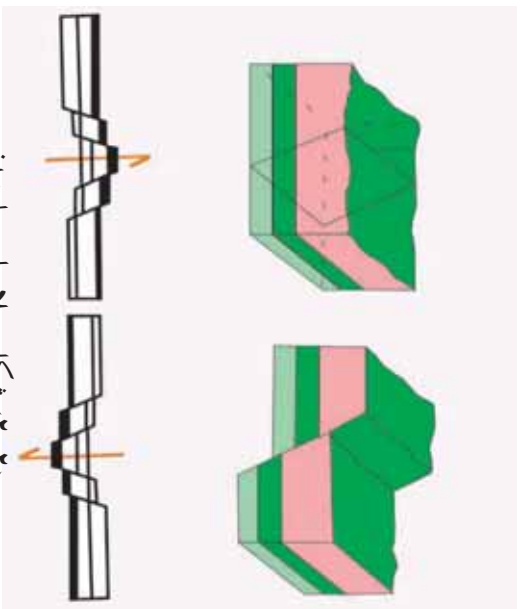
شکستونه د لوټوالي په لحاظ ډېر توپير لري. اوږدوالی يې له څو سانتي مترو څخه سلگونو کيلو مترو ته رسېږي. شکستونه بيلا بيل ډولونه لري چې د بې ځايه شوو کتلو د حرکت اود هغو د سطحي د ميلان د اندازه له مخې په لاندې ډول دي:

۱- **عادي شکست** : هغه شکست دی چې بيځايه شوي کتلې د شکست د سطحي د ميلان سره موازي بېکته خواته حرکت وکړي او بيځايه شوي وي.

۲- **پورې ډوله شکست** : د خو عادي شکستونو ډله ده چې پر تر بله موازي وي او افقي طبعي د هغو په امتداد بېکته لورته بېنويدي وي او پورې ډوله بېه يې نيولې وي.

۳- **هارست** : هغه کتله ده چې د دوو شکستونو ترمنځ واقع شوې وي او د دواړو خواوو د کتلو په پرتله يې لوړ موقعيت نيولولی وي او د دواړو خواوو کتلې يې بېکته لورته بېنويدي وي.

۴- **گراين** : هغه کتله ده چې د دواړو خواوو د کتلو په نسبت يې بېکته خواته حرکت کړی وي او د دواړو خواوو کتلې په خپل حالت پاتې شوي وي.



(۲-۲) شکل بيلا بيلي چاوديدني

د څپرکي عمده ټکي

- گونځي په طبيعت کې د بڼې او جوړښت له مخې په بيلا بيلو ډولونو او بڼو پيدا کېږي.
- گونځي په عمده ډول په دوو گروپونو: متناظري او غير متناظري گونځي وېشل کېږي.
- غير متناظري گونځي له ميلان لرونکو گونځو، چپه شويو، پرتو، ميلان لرونکو او معکوسو گونځو څخه عبارت دي.
- شکستونه په ډېرو کې په عمومي ډول په دوو بڼو درز او شکست ښکاره کېږي.
- که چېرې دوه کتلې د يوې سطحې په اوږدو د يو او بل په وړاندې حرکت وکړي او بېخايه شي د شکست په نامه يادېږي.
- گران هغه کتله ده چې د دواړو خواوو د کتلو په نسبت ښکته لورته ښوېدلې او د دواړو خواوو کتلې په خپل حالت پاتې شوي وي.
- که چېرې بېخايه شوي کتلې د شکست له ميلان سره موازي ښکته لورته حرکت وکړي او بېخايه شي د عادي شکست په نامه يادېږي.

د څپرکي پوښتني

۱. د گونځو د چولونو نومونه واخلئ.
۲. شکست تعريف او د دولونو نومونه يې واخلئ.
۳. پورې ډوله شکست تعريف کړئ.
۴. هارست تعريف کړئ.
۵. هغه کتلې چې د دواړو خواوو د کتلو په نسبت يې ښکته لورته حرکت کړی وي او د دواړو خواوو کتلې په خپل حالت پاتې وي د څه شي په نامه يادېږي؟

شپڙمه برخه ولکانو لوجي

ښايي تاسو ډېرو ته د ولکانو لوجي اصطلاح آشنا وي خو غواړئ په دې اړوند چير معلومات تر لاسه کړئ. ښايي د اور شيندونکو د فوران پيدايښت، د فوران په پايله کې د موادو او گازونو بهرته راوتل او هغه حرکتونه چې د فوران د پروسې له پېښېدو څخه مخکې پېښېږي تاسو ته ډير په زړه پورې وي. په دې اړوند د معلوماتو لاسته راوړل د هرچا لپاره اړين گڼل کېږي. که د دې برخې پورې اړوند مطالبونه په ځير ولولئ او عکسونه يې ښه وگورئ ستاسو ډيرې پوښتنې به ځواب شي ځکه تاسو په دې برخه کې د طبيعت او فوران دلايلونو د ولکانونو او دهغو د ډولونو، ولکانيکي موادو او دهغو پېښو په اړوند چې د اور شيندونکو د فعاليت په ترڅ کې منځته راځي معلومات تر لاسه کړئ او په دې به پوه شئ چې اور شيندونکي څه شي دي؟ څو ډوله اور شيندونکي وجود لري؟ د هغو موادو ترکيب چې د اور شيندونکو لخوا بهر ته راوځي څه ډول دي؟ د ولکانونو د فعاليدو پر مهال کوم حرکتونه او لږزې منځته راځي؟ د اور شيندنې د پروسې د پېښېدو مخکې او وروسته کومې پېښې منځته راځي؟



لومړی څپرکی

د فوران ماهیت او لاملونه

ښکاره ده چې د ولکانونو فوران یې له هغو قواو او پروسو چې د فوران زمینه برابروي صورت نه نیسي. د اورشینونکو فعالیت په بیلابیلو لاملونو اړه لري چې د جیولوجیکي شرایطو او په ځانګړي توګه د تکتونیکي پروسو تر اغیز لاندې واقع کېږي.

حتماً تاسو لپاره په زړه پورې ده چې دا لاملونه وپېژنئ، او پوه شئ چې دا لاملونه څه ډول د ولکان د فعالیت لپاره زمینه برابروي؟


د ځمکې په تاریخ کې اورشینونکي بنسټیز نقش لري. د سمندررونو، سیندونو او جهیلونو اوبه، دغه راز د هغې هوا جوړه برخه چې مونږ یې تنفس کوو او د ځمکې د مخ د خاورینې برخې څپې برخې د اورشینونکو د فوران په وسیله منځته راغلي دي. که چېرې د اورشینونکو فعالیتونه نه وای نو سمندري توري قشرونه او ډبرې غرونه به رامنځته شوي نه وای.

د ولکانونو فعالیت د انسانانو لپاره د اوسیدني سیمې د رامنځته کیدو لامل شوي، د بیلګې په ډول جاپان، د هاوایي ټاپوګان، هایتی، آیسلند، د آرام سمندر او کارابین سمندرګي ډبرې ټاپوګان، دغه راز د مرکزي امریکا ټولې برخې د ولکانیزم محصول ګڼل کېږي، دغه ډول د ولکان فعالیت د زراعتي او حاصلخیزو ځمکو د رامنځته کیدو لامل شوې دي، د مرکزي او جنوبي امریکا حاصل خیزې ځمکې د ولکانونو د فعالیت محصول دي.

که چېرې د ولکانونو فعالیت د ځمکې له تاریخ سره پرتله کړو ویلای شو چې ولکانونه د لږ عمر لرونکي جوړښتونه دي چې په ځانګړو سیمو کې په ډیره کچه او هم په ډله ایزه توګه را پیدا کېږي خو د جوړیدو، لوټوالي او په ځانګړي توګه د مډایي د تودوخې د منشا په اړوند سم معلومات او اسناد په لاس کې نشته.

د پليټ ټکټونیک نظريه (late ect ice) د مگما جوړېدل د ځمکې د قشر د پليټونو د بېکته تلو نځو-څنډو له وېلي کېدو څخه بولي چې د وچې قشر لاندې د سمندري قشر د توتلو او ژورو برخو ته د دې موادو د رسېدو څخه منځته راځي.

لاوا (a d) له منبغې څخه پورته خواته يوه اندازه ولټن د هايډروسټاتيک فشار په وسيله طي کوي او يوازې له هغو نقطو څخه چې د ځمکې قشر نرۍ او ضعيف وي او يا کومه ټکټونیکي مجرا ولري د ځمکې د قشر له ماتولو وروسته د ځمکې مخ ته راوځي. څرگنده ده چې په دې وروستي پړاوو کې د هغو گازونو فشار چې په مگما کې شتون لري د ځمکې مخ ته د مگما د راوتلو لامل گرځي.



(۱-۱) شکل د ځمکې په مخ کې د لا روا بهير

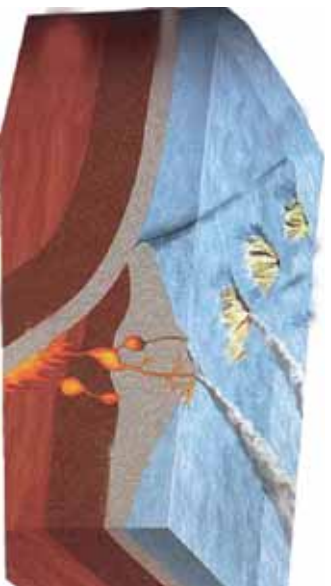
ولکانونه

ولکان د ځمکې د داخلي لاملونو په واسطه منځته راځي چې د مگما او د ځمکې هستې، تعاملونه او فزيکي بدلونونه په کې نقش لري. د ولکانونو وېلي او تاوده مواد د لاوا (a d) په نامه يادېږي، چې د ځمکې مخ ته راوځي، د ځمکې پر مخ بدلونونه رامنځته کوي او د سطحې بېرو د جوړېدو لامل گرځي. ولکان د وېلي او لاوا ډوله موادو حرکت دی چې د ځمکې د قشر په دننه او يا پر مخ راوتېږي، ولکانونه د منشا او تشکيل له مخې په دوو ډلو وېشي.

۱- داخلي فعاليت

۲- بهرنۍ فعاليت

د داخلی فعالیت له امله د خمکي قشر دننه ځینې اجسام په لویو او وړو جسمونو منځته راځي چې دا جسمونه ډیر وړو سربېري او له دې امله د موادو بشپړ کښل تر سره کېږي. چې په دې ډول بیلابیلې ډبرې لکه گرانیتونه، گرانو ډیوریتونه، گرو او نور د خمکي دننه منځته راځي. دغه ډبرې په بیلابیلو بڼو د خمکي په ژوره (عمق) کې تشکیلېږي چې د باولیت، لاکولیت، سیل، دایک او نور په نامه یادېږي.



(۱-۲) شکل دو لکان د نښې او بهرنې فعالیتونه

د و لکان بهرنې فعالیت

د و لکان دغه فعالیت په ټولیزه توګه یوه طبیعي پروسه ده چې د خمکي له ژورو څخه د خمکي مخ ته د مګما د پورته کېدو او د و لکانکي غرونو، د سطحي مګماتیکي ډبرو د منځته راتګ زمینه برابروي. دغه راز بیلابیل ګازونه لکه CO_2 ، H_2 ، SO_2 ، Cl_2 نښه ګازونه او اوبه له هغه څخه راوځي.

ولکانیکي مواد

ټول هغه مواد چې د و لکانونو د فعالیت پر مهال او یا یې له غلې کېدو وروسته د و لکانونو له خولې راوځي د و لکانیکي موادو په نامه یادېږي.

ولکانیکي مواد په درېو حالتونو جامد، مایع او ګاز لیدل کېږي.


۱- جامد مواد: جامد مواد چې په عمومي ډول و لکانیکي لویې ډبرې او زاویه لرونکي جامدې ټوټې دي، چې ډیر لوی جسمونه لري او د سپړدو پر مهال په هغو کې شامل ګازونه ورڅخه وځي او له سپړدو وروسته د ډبرو لکه پومسه (د پښو ډبره) د جوړېدو لامل ګرځي.

۲- و لکانیکي بمونه: و لکانیکي بمونه خمیره ډوله حالت لري څرنگه چې د غورځېدو پر مهال پر خپله

شالو خوراگرځي، کروي شکل خان ته غوره کوي. دا بېمونه له يو څخه تر څو کيلو گرامو پورې وزن لري. کله کله ولکانيکي نمونه منځ نشي ټپه ځانته نيسي چې د ولکانيکي منځ شتو موادو په نامه يادېږي.

۳- ولکانيکي لاييلي: هغو ولکانيکي جامدو موادو ته چې اندازه يې د ۴ څخه تر ۲ ۳ ملي مترو ترمنځه وي ويل کېږي لاييلي په عمومي توگه بيضوي ډوله بڼه لري او د اوکټ او پلازجيموکلانز کرسټالونه په کې ليدل کېږي.

۴- د ولکانونو ايره: هغو جامدو ذرو ته چې قطر يې له ۲ تر ۴ ملي مترو وي د ولکان ايره ويل کېږي که چېرې د دې ذرو قطر له ۳ ملي مترو څخه لږ وي د ډورو او غبار په نامه يادېږي.



(۳-۱) شکل ولکانيکي توکي

مايع مواد: د ولکانونو مايع مواد هغه وييلې شوې مواد دي چې د لاوا په نامه يادېږي، د لاوا د تودوخې درجه د لاوا ډول او په هغې کې موجود وگازونو په کچې تړاو لري، د لاوا تودوخه په معمولي ډول د ساتي گراد ۶۰۰ څخه تر ۱۲۰۰ درجو پورې رسېږي. لاوا په تيزلي، قلوي، منځني او د قلوي څخه په اخوا ډولونو وېشل کېږي چې ځمکې ته دراوتلو څخه وروسته جريان پيدا کوي او تودوخه له لاسه ورکوي چې په دې ډول دسطحي ډبرو بيلايل ډولونه منځته راځي.

د ولکان گازونه: ولکاني گازونه د ولکان د فعاليت پر مهال او دغه راز د غلې کېدو پر مهال يې بهر ته راوځي. هغه گازونه چې د ولکان د فعاليت پر مهال له ولکان څخه راوځي د ډبري تودوخې لرونکي وي خو هغه گازونه چې د ولکان د غلې کېدو پر مهال له هغه څخه راوځي لږه تودوخه لري چې دا گازونه د فومرول ($Fu e l$) په نامه يادېږي.

دویم څپرکي

طبیعی پښتني

د ولکانونو لومړۍ اغيزې لکه د لاوا جریان، د اير و راتوبل، د غرونو چاودنه، سوزونکي وريځې، د خټو لوی جريانونه او له سمندري ولکانونو څخه راولاړې شوې څپې ډېر مالي او ځاني زيانونه اړولای شي، له نیکه مرغه د زلزله پېژندنې په پوهه کې د پر مختگ او د ولکان له پېښېدو څخه مخکې د ځمکې د حرکتونو د اندازه کولو په میتود کې ښه والی د دې امکان منځته راوړي چې د زيان منونکي سېمی څخه په ټاکلې وخت د وگړو لېږد او ځای پر ځای کېدل تر سره شي دغه راز په زيان منونکو سیمو کې د نوبو ودانیو د جوړولو څخه مخنیوی د لاوا د احتمالي جریان د لارښوونې لپاره د کانالونو کېدل ضروري دي تر څو میشت ځایونو ته زیان ونه رسېږي او نور د ولکان د فعالیت مخه ونیول شي.

فکر وکړي

ولې له ولکان څخه را پیدا کېدونکي خطر ونه له زلزله څخه د راپیدا کېدونکو خطر ونو څخه څو ځله لږ دی؟

د ولکانونو فعالیت پر آب او هوا او د ژونديو موجوداتو د ژوند په څرنگوالي بده اغيزه پرېباسي د بیلگې په ډول د یو ولکان د فعالیت په ترڅ کې یوه اندازه SO_2 او نور گازونه بهر ته راوځي چې نوموړي گاز به اتموسفیر کې دگډوډ د تیزاب د رامنځته کېدو لامل ګرځي. دغه گاز په ډېر چټکوالي سره د اکسیجن او اوبو له براس سره تعامل کوي چې کېدای شي کلونه کلونه په اتموسفیر کې پاتې او اسیدي بارانونو د رامنځته راتگ لامل شي.

اسیدي بارانونه، اوبه او خاوره تیزابی کوي چې ټول ژوو او نباتاتو ته زیان رسونکي دي. دغه راز نور هغه گازونه چې د ولکان د فعالیت په ترڅ کې بهر ته راوځي، کولای شي د اتموسفیر له گازونو سره تعامل وکړي او د هواد ککړتیا لامل شي.

د ولکانونو ایره او گارونه له فوران څخه وروسته په انجوسفیر کې پاتې کېږي او د لمر له وړانگو څخه مخنیوی کوي چې د هم هغې سیمې د هوا د سپړلو لامل کېږي لکه په انډونیزیا کې په کال ۱۸۱۵ د تامبورا د غره د ولکان د فعالیتو په ترڅ کې د پسرلي او اوړي په میاشتو کې ډیره سره هوا منځته راغله او هغه کال د بې اوړي کال په نامه ونومول شو.

د لو موري او دويم څپرکي عمده ټکي

- د سمندررونو، سيندرونو او جهيلونو اوبه دغه راز د هغې هواپوره برخه چې مونږ يې تنفس کوو د ځمکې د مخ ځمپې خاورې د اورشۍ بندونکو د فوران په پايله کې منځته راغلې دي.
- د جاپان، هائيټي او ايسلند هيوادونه، د هوايي، آرام سمندر او کارابین سمندرگي ټاپوگان او د مرکزي امریکا ټولې برخې د ولکانيزم محصول گڼل کېږي.
- د پليټ ټکټونیک نظريه د مگما تشکيل د ځمکې د قشر د ښکته خوا ته تلونکو پليټونو د ځنډو په وپلې کېدو تړلې گڼي.
- د لاوا له منبغې څخه پورته خوله يوه اندازه واټن دهايډروسټاتيک د فشار په مرسته وهي او له هغو تقطو څخه چې د ځمکې قشر کمزوری او نرۍ وي او يا کومه ټکټونیکي مجرا وجود لري د ځمکې د قشر له څيرلو څخه وروسته د ځمکې مخ ته راوځي.
- ولکان د ځمکې د داخلي لاملونو پر بنسټ منځته راځي چې د مگما او د ځمکې د هستې تعاملونه او فزیکي بدلونونه په کې ډير رول لري.
- ټول هغه مواد چې د ولکان د فعاليت او غلې کېدو پر مهال له ولکان څخه راوځي د ولکانیکي موادو په نامه يادېږي.
- ولکانیکي مواد په دريو حالتونو جامد، مايع او گاز ليدل کېږي.
- ولکانیکي بمونه خميره ډوله حالت لري څرنگه چې د غورځيدو پر مهال په خپل محور څرخي ځانته کروي بڼه غوره کوي.
- هغه جامدې ذرې چې قطر يې له ۲ تر ۴ ملي مترو پورې وي د ولکان دايرې په نامه يادېږي.
- د ولکان مايع مواد وپلې تاوده مواد دي چې د لاوا په نامه يادېږي.
- دوکانې گازونو اغيزې لکه د لاوا جريان، دايرو توبدل، د غرونو چاودنه، سوځونکي وريځې، د خټو لوی جريانونه او له سمندري ولکانونو څخه راولاړې شوې څپې ډير مالي او ځاني زيانونه اړولای شي.
- له نيکه مرغه د زلزلې پېژندنې په پوهه کې پر مستگ او د ولکان له پېښيدو څخه مخکې د ځمکې د حرکتونو د اندازه کولو په ميتود کې ښه والی د دې امکان برابر کړی چې د انسانانو د ځان او مال د خوندي پاتې کېدو لپاره لازم تدبيرونه ونيول شي.
- د ولکان فعاليت پر آب او هوا او د ژونديو موجوداتو د ژوند په څرنگوالي بده اغيزه پرېښايي.
- د يو ولکان فعاليت په ترڅ کې يوه اندازه SO_2 او نور گازونه له ولکان څخه راوځي چې نوموړي گاز په اتموسفير کې د گوگړو تيزاب د رامنځته کېدو لامل گرځي.
- د گوگړو تيزاب کلونه په اتموسفير کې پاتې کېږي او د تيزابۍ بارانونو د منځته راتگ لامل گرځي.
- هغه گازونه چې له ولکان څخه بهرته راوځي د هوا د ککړيدو لامل کېږي.

د لومړي او دويم څپرکي پوښتي

۱. کوم هېوادونه د ولکانونو د فعاليت په پايله کې منځته راغلي د بيلگې په ډول بې نومونه واخلئ؟
۲. لاوا د ځمکې د قشر له کوم برخو څخه د راوتلو امکان لري؟
۳. ولکانیکي مواد څه ډول مواد دي؟
۴. د ولکان داخلي او بهرني فعاليتونه تشریح کړئ؟
۵. د ولکان د ايری په اړوند څه پوهیږئ؟ معلومات ورکړئ؟
۶. ولکانیکي بمرنه..... حالت لري څرنگه چې د غورځیدو پر مهال په خپل محور څرخي..... بڼه غوره کوي.
۷. لاوا په کوم حالت کې د ځمکې مخ ته راوړي:
- الف- کله چې د ځمکې قشر کمزوری او نری شي
- ب- کله چې کومه تکتونیکي مجرا وجود ولري
- ج- د الف او ب ځوابونه دواړه سم دي
- د- هیڅ یو
۸. د ولکانونو لومړنۍ اغیزې لکه..... ډیر مالي او ځاني زیانونه اړولای شي.
۹. هغه تدابیر چې د ولکان له پېښیدو څخه د زیانونو د لږوالي په موخه نیول کېږي کوم دي؟
۱۰. هغه گازونه اود ولکانونو ايره چې له فوران څخه وروسته په اتموسفیر کې ځای پر ځای کېږي د کوم لاندې حالت لامل گرځي؟
- الف- د لمر له وړانگو څخه مخنیوی کوي
- ب- د هم هغې سیمې د هواد سپردلو لامل گرځي
- ج- پر آب او هوا او د ژوندیو موجوداتو پر ژوند بله اغیزه پرېښایي
- د- دري واړه ځوابونه سم دي.

او مه برخه

د ځمکې تاریخ

ناسو او ټولو ته په زړه پورې ده چې د ځمکې پر تاریخ پوهیږئ ځکه تاریخ تیرې پېښې بیانوي او په ځمکه کې پېښې شوي پېښې او حادثې چې پراخ بدلونونه یې رامنځته کړي بې حده جبري دی. د ځمکې پېژندنې پوهانو له نظر، ځمکه زرگونه میلیونه کاله عمر لري چې د خپل عمر په اوږدو کې د پورته او ښکته تگ، د ولکانونو د فعالیت، زلزلو، گڼ شمیر تکتونیکي حرکتونو، د وچو منځته راټگ، د سمندرونو او سمندرگیو منځته راټگ، د جهیلو جوړېدل، د غرونو جوړېدل، د ډبرو او منرالونو تشکیل او په زرگونو نورو بیلابیلو پدیدو لیدونکي وه او ده.

د پورتنیو پروسو د منځته راټگ او پېښېدو په اړوند معلومات پر بیلابیلو فرضیو او نظریو استوار دی ځکه انسان نه شي کولای تر اوسه د ځمکې ژورو برخو لکه د هستې ډیونېس او هستې ته ځان ورسوي. بیا یې ستاسو په ذهن کې گڼ شمیر پوښتنې پیدا شي چې ځمکه څنګه منځته راغلې، څه ډول یې پر مختګ کړی؟ د ځمکې د مخ لومړني موجودات کوم دی؟ ځمکې په لومړي سر کې څه حالت درلود او اوس کوم بدلونونه په کې رامنځته کېږي؟

د دې برخې مطالعه تاسو له گڼ شمیر مسایلو سره چې د ځمکې د تاریخ په اړوند دی اشنا کوي او هم تاسو کولای شئ د هغو میتودونو او لارو سره چې پوهانو د ډبرو او د ځمکې د طبقو د عمر د ټاکلو په موخه کارولي آشنا شئ.

د ځمکې قشر له ۱۰۰ څخه تر ۸۰ کیلو مترو پورې والي لري چې له هغه څخه وروسته د هستې پوښ (مانتل) او پخپله هسته موقعیت لري د ځمکې منځنۍ شعاع له 3 کیلو مترو سره برابره ده نو ځمکې پیژندنه کې یا جیولوجستان د ځمکې دننۍ برخې څه ډول مطالعه کوي؟

د ډبرو او منرالونو ترکیب د مایکروسکوپ په وسیله چې کولای شي کرسټالونه او بیلابیلې دانې په لسگونو څله او الکتروني میکروسکوپ په زرگونو څله لوی ښکاره کړي مطالعه کېږي. اوس مهال د ځمکې هغه قشر چې د اوقیانوسونو او سمندرگیو د اوبو لاندې دی مطالعه شوي او د برمه کولو د دستګاه په مرسته له څو کیلو مترو ژوروالي څخه بیلابیلې نمونې لاسته راوړل شوي دی.

برسیره پر دي طبيعت هم د ځمکې د قشر د ژورې برخې په مطالعه کې مرسته کوي. اوس مهال جیولوژیستان کولای شي د ځمکې مخ په بشپړه توګه وڅیړي د ځمکې لورې برخې د سیندونو په واسطه پرې شوي چې د نوموړو سیندونو په څنډو کې کولای شو د ځمکې د ژورې برخې د جوړو طبقې ولیدای شو کومې چې انسان نه شي کولای په آسانی هغه وګوري. د بیلګې په ډول د افغانستان په لویدیځ کې د سپین غره لوړۍ چې ۳۵۸۸ متره لوړوالی لري (د لولیان غر) یو مهال د بند بیان غره د لړۍ سره یو ځای ؤ خو وروسته د هربرود سیند په واسطه پرې شوې دی د نوموړي سیند تل په ۱۵۰۰ متره لوړوالي موقعیت درلود چې په دې توګه سیند د دوو کیلو مترو څخه ډیر پیاوړي لرونکي طبقې را څرګندي کړې کله کله د سیند د درې ژوروالي له ۳ څخه تر ۴ کیلو مترو پورې رسېږي (د افغانستان په شمال ختیځ کې د پنج او واخان سیندونه).

اورشیدونکي د ځمکې د قشر د ژورو برخو د موادو په هکله معلومات ورکوي اورشیدونکي سلیکاتي تلویده او ویلي شوي مواد یا لاوله ۲۰ څخه تر ۱۰۰ کیلو مترو ژوروالي پورې چې د مګما په شکل وي د ځمکې مخ ته اچوي. زلزله هم د هغو ډبرو د فزیکي ځانګړتیاوو په هکله چې تر ۸۰۰ کیلو مترو ژوروالي موقعیت لري معلومات په لاس راکوي.

ډیره ستونزمنه به وي چې د پخوانیو دورو جیولوژیکي عملیات چې په ځمکه کې پېښ شوي وټاکل شي خو د نويو جیولوژیکي عملیاتو لکه د سیندونو جیولوژیکي فعالیت په نويو جهیلونو او سمندرګو کې د رسوباتو جوړېدل، د باد په واسطه د ډبرو تخریب او نورو د دقیقې مطالعې په ترڅ کې کیدای شي دا تصور پیدا شي چې په پخوانیو جیولوژیکي زمانو کې دغه عملیات په مشابه ډول تر سره شوي او په دې ډول د عملیاتو پېژندنه تر سره کړو.

ډیره مهمه مسئله د ډبرو، منرالونو او عضوي پاتې شونو د تشکیلیدو او په عمومي ډول د ټولو جیولوژیکي عملیاتو د وخت تعینیدل دی. د بیلګې په ډول د علي آباد د غره ډبرې چې کابل پوهنتون ته نږدې پروت دی لږ تر لږه یو نیم میلیارد کاله پخوا او د قوروغ د غره د چوڼي ډبرې له ۲۰۰ څخه ۲۵۰ میلیونو کلونو پخوا تشکیل شوي دی. یو له هغو میتودونو څخه چې د ډبرو او طبقو عمر پرې معلومولای شو پالینتولوژیکي میتود دی چې د دې برخې په لومړي څپر کې کې په دې اړوند اوږده معلومات ورکړل شوي دي.

لوپري څپري

پالينولو جي

مخڪي مو وويل چي د خمڪي د طبقو او ڊيرو د عمر په ٽاڪلو کي له بيلايلو ميتودونو خخه کار اخلي يو له دي ميتودونو خخه چي د ڊيرو لرغونتوب پري ٽاڪل کپري پالينتولوجيڪي ميتود دي بنيادي په ذهن کي مو پوښتنه پيدا شي چي خرنگه کولاي شو د دي ميتود په مرسته د ڊيرو عمر وٽاڪو او دا ميتود خه ڊول ميتود دي؟

د ڊيرو د نسبي عمر د ٽاڪلو لپاره معمولي او د باور وړ ميتود، پالينولوجيڪي ميتود دي چي د وسهيت لخواه وړاندي او بيا وروسته د کيو وي او ۱. برونيار لخواه د استفادي وړ وگرځيد.

ڊيري رسوبي ڊيري د حيواني او نباتي پاڻي شونو لرونکي دي کومو چي د جيولوجيڪي تاريخ په اوږدو کي خپل ژوند له لاسه ورکړي او د له منځه تلو وروسته د هم هغي دوري په رسوباتو کي ښخ شوي دي. د ژويو او نباتاتو ځيني ډولونه د خمڪي د بشپړ بدو په بيلايلو پراوونو کي له منځه نللي او پر خاي ٻي د بشپړ ځانگړتياوو لرونکي ډولونه منځته راغلي دي.

په دي ډول که په يوه طبقه کي د لومړنيو ژوو پاڻي شوني وليدل شي گيداي شي د وخت او مهال شرايطو ته په پام کي نيو لوسره د طبقي د نسبي لرغونتوب په هکله د نظر څرگندونه وشي وروسته له دي چي د حيواني او نباتي موجوداتو پر له پسې تراو ټينگ شي دا امکان پيدا کپري ترڅو د عضوي موادو د پاڻي شونو له مخي د رسوبي ڊيرو او خه ناخه د اورشيدلوکو ڊيرو د پيدا کيدلو لري پيدا کړو.



(۱-۱) شکل فسيلونه په طبقو کي

پالیتولوژیکي می‌تود ددي امکان برابروی تر خو دلیلدل شوو عضوی پاتې شونو د ټولگي پر بنسټ هغه طبقې چې یو له بله لیرې پرې دي سره پرتله کړو. د ژوو او نباتاتو د ژوندانه د مهال او د رسولانو د تشکيليدو د مهال د پرتله کولو په موخه پوهانو د ځمکې د جیولوژیکي تاریخ زمانې جدول جوړ کړي دي. په دې جدول کې د ټولو عصرونو او دورو نومونه د مطلقه لرغونتوب د درجه بندۍ سره یو ځای لیدلای شئ.

ټول جیولوژیکي تاریخ دزمان له مخې په پنځو عصرونو ویشل کېږي چې له هر عصر سره د ډبرو یو ګروپ مطابقت کوي. عصر په خپل وار په دورو ویشل کېږي چې بیا په هره دوره کې د طبقو ټاکلي سیستم تعینوی. د ډبر دقت په موخه دورې په پېرپړ ویشل شوي دي. د عصرونو نومونه له یوناني کلمو څخه اخیستل شوي کوم چې د ځمکې پر مخ د ژوندانه د بشپړیدو پړاوونه نښتي.

د بیلاګي په ډول زایکوس د ژوند، کانپوس د (نوي) میزوس (منځنی) پالیوس (پخواني یا لرغوني)، پروتیرس (لومړني) ارکیوس (لومړي) په معنا دی نو په دې ډول د پالیوزوي عصر د لرغوني ژوند، میزوزینیک د منځني عصر د ژوند او کاینوزینیک د نوي یا عصري ژوند معنا ورکوي. د عصر لپاره د جیوکرزولوژیکي ویش نښه د عصر د نوم لومړي توري د Z د توري په زیاتیدو (په پروتروزویک کې د R توري په زیاتیدو) او د دورې لپاره د دورې لومړي توري غوره شوی دی. خو په دې خاطر چې د کیمبري او کاربن دورې د C په توري او د پیرم او پالیوجن دورې د P په توري پیل کېږي نو د کیمبري او پالیوجن په نښو کې د توري په منځ کې یو خط ایستل شوی دی. د یادوني وړ ده چې هره دوره د نښې پیژندنې په موخه په ټاکلو رنگونو هم ښوول کېږي.

فکر وکړئ: یو ژوندی موجود له مرگه وروسته باید له کومو عواملو لیرې وي تر څو د جسد ځینې برخې یې پاتې شي.

فسیل: د ژوو او نباتاتو تیره شوي پاتې شوني دی (اسکلیت، صدف او نور) چي د حیولو جینکي په بیلابیلو دورو کي یې ژوند کاوه او له مړینې څخه وروسته دهماڅي دورې په رسوباتو کي پښخ شوي دی ځیني ژوي چي د کلک اسکلیت لرونکي نه دی د طبیعي وړانو نکو لاملونو په وړاندي مقاومت نلري او له ځان څخه کوم آثار نه پرېږدی خو په ځینو مواردو کي د نباتاتو د ځینو برخو نقشونه په رسوباتو کي لیدل کیږي چي د رسوباتو د لرغونتوب په ټاکلو کي مرسته کوي.

د فسیل ساتنه

رسوبي چاپیریال لکه سمندرونه او جهیلونه د فسیل ساتني لپاره وړ ځایونه گڼل کیږي ځکه په دې چاپیریال کي رسوب ډیر صورت نیسی او د ژوندیو موجوداتو پاتې شوني د رسوباتو په وسیله پښه پټي ساتل کیږي. د سمندرونو ژورې برخې د ژوندیو موجوداتو د ژوند او پایښت لپاره وړ ځایونه گڼل کیږي او د هغو پاتې شوني په دې سیمو کي زښت ډیر لیدل کیږي. د سمندرونو او جهیلونو سره یو وچې هم د ژوندیو موجوداتو د پاتې شونو د ساتني وړتیا لري. یخچالونه، د شگو توفانونه، نفتي مواد، د اورشیندنکو ابري د ژوو او نباتاتو د جسدونو د ساتني لپاره ښه چاپیریال گڼل کیږي چي ځیني وختونه د نوموړو موجوداتو جسدونه تجزیه او له منځه ځي خو ځیني وختونه بیا په بشپړ او ثابت ډول پاتې کیږي.



(۱-۲) شکل د ځمکې په طبقو کي د فسیلونو ساتنه

فعالیت

د پوځ چرگ یو ورون یا د مړ ژوي جسد لږ تر لږه ۲۰ سانتي متره د خاورو لاندې کړی وروسته له دوو اونۍو هغه له خاورو راوباسی څه به وگورئ. د هغو لاملونو په اړوند چي د دې بدلونونو لامل شویدی له ټولگیوالو سره بحث وکړئ.

جدول

درجه بندی یا مطلق محکی والی په میلیون کالوګي		د دورې پیل	د رنگونو ښودل او دتښتې پر مخ علامې	دوره یا سیستم	زمانی، ګروپ او علامې یې
د دورې ادامه	د دورې پیل				
۲	۲-۱.۵		ژر ته ورته Q اړي بخونه رنگ Nژر P ژر نارنجی	څلورم دوره یا انټروپو جین ترشیری	سینوزوئیک
۶۵	۶۷-۲				
۷۰	۱۳۷-۶۷		شین K	کریټاسیوس	میزوزوئیک
۵۸	۱۹۵-۱۳۷		اوبه ته ورته	جوراسک	
۳۵	۲۳۰-۱۹۵		T ښښ	تریاسک	
۵۵	۲۸۵-۲۳۰		نارنجي نحواري ته ورته P	پرمنین	پالیزوئیک
۶۵	۳۵۰-۲۸۵		C اړي	کارنیفروس	
۵۰	۴۰۰-۳۵۰		D انصواری	دیونین	
۴۰	۴۴۰-۴۰۰		د اړو رنگ ته میل شین S	سیلورین	
۶۰	۵۰۰-۴۴۰		O تښتې	اردوونین	
۷۰	۵۷۰-۵۰۰		اوبه ته تیار شین ته ورته	کمبرین	
۴۶۰۰			ګلابي، شور او خیره ګلابي	پریمبرین	

د نسبي عمر د ټاکلو په موخه له فسيلونو څخه گټه اخيستنه

د هغو ژوو د ژوندانه شرایط او وده چې په جیولوژیکي بیلابیلو دورو کې یې ژوند کاوه د اوبو او وجو سرحده او د ځمکې د طبقو د بدلونونو د پېژندنې او ټاکلو لپاره ډیره ښه وسیله گڼل کېږي. ډېری سمندری ژوی له مړینې وروسته په رسمي طبقو کې بېخېږي د تیره شوو ژوو پاتې شوني (فسیل) د ډېرو د طبقو د رسوب مهال را په گوته کوی چې کولای شو د هغو پر بنسټ د طبقو نسبي عمر وټاکو.

د یوې جیولوژیکي پېښې د نسبي وخت ټاکل له موز سره مرسته کوي ترڅو د یوې بلې پېښې په اړوند چې د غه ډول شرایط ولري د نظر څرگندونه وشي.

اقلیمي وضعیت، د نباتاتو شتون، د ژوو ډول، د ډېرو ډول په ډیره آسانی د نسبي عمر د ټاکنې میتود په واسطه ټاکل کېدای شي؛ د بیلاګې په ډول: ویل کېږي چې د لوی بدن لرونکي ژوي (دانیاسون) لږ تر لږه ۷۰ میلیونه کاله پخوا له منځه تللي او یا هم د نیواگلیند یخچالونو یوولس زره کاله پخوا شاته ټک کړی او یا دا چې د ډېرو سکارو ډېری کالونو د کاربن په دوره کې منځته راغلي دی. بله هغه مشخصه چې د جیولوژیکي پېښې د وخت په ټاکلو کې ډیر رول لري د ژوندیو موجوداتو د بدن جوړښت دی یعنې هر څومره چې نوي وخت ته رانږدې کېږو د ژوندیو موجوداتو د بدن جوړښت پېچلي کېږي او شمېر یې هم ډیرېږي.

که لاندیني جدول ته نظر واچوو وبه گورو چې ژوندی موجودات له بې اسکلیت ژوو څخه اسکلیت لرونکو خوښږو او بیا د اسکلیت لرونکو خون گرمو ژوو یعنې الونونکو او تي لرونکو ته بدلون موندلی دی.

نباتات هم په پیل کې سمندري الحجي گانو پورې محدود پاتې شوي وو چې بیا وروسته یې ډېره وده او پراختیا موندلې او بیلابیل ډولونه یې منځته راغلي.

	<p>اوسنی، زمانه دستیزوژیک عصر (نوی ژوند) دتي لرونکو ژویو او گل لرونکو نباتاتو جیر بیدل (۶۵ میلیونه کلونه پخوا)</p>
	<p>د میزو ژوئیک عصر (منځنی ژوند) د خړزندو و وډیر بیدل او د لومړینو گل لرونکو نباتاتو پیل کېدل (۷۵۰ میلیونه کلونه پخوا)</p>
	<p>د پالیوزوئیک عصر (لرغونی ژوند) ددی دورې په پای کې د بی گلنه بوټو او لومړنیو هلوکو لرونکو ژوو پیداکیدل د دې دورې په لومړیو کې د بی هلوکو ژوو جیر بیدل (۵۷۰ میلیونه کلونه پخوا)</p>
	<p>د پیری کامبرین دوره دلومړینو موجوداتو او د بی هلوکو ساده ډوله ژویو پیداکیدل (۳ میلیارده کلونه پخوا)</p>

فکر وکړئ: د ځمکې په جیولوجیکي بیلابیلو دورو کې د ژوو د پیدایښت له تشکیل او ترتیب څخه څه ډول د گونځې لرونکو رسونې طبقو زړښت او ځوانې معلومولای شی.

د څپرکي عمده ټکي

- د ډبرو او منرالونو ترکیب د میکروسکوپ په واسطه ټاکل کېږي.
- د ځمکې لوړې برخې د سیندونو په واسطه پرې شوي چې د سیندونو د درو په څنډو او خواوو کې کولای شو د ځمکې د ژورو برخو ډبرې او طبقې وگورو کومې چې انسان نه شي کولای په آسانی هغو ته لاسرسی پیدا کړي.
- د افغانستان په لوېدیځ کې د سپین غره لړۍ چې لوړوالی یې ۳۵۸۸ متره دی (د لولیان غر) یو مهال د بند بیان له لړۍ سره یو ځای او نښتی وو خو وروسته د هریرود سیند په واسطه پرې شوي دي.
- اورشیندونکي هم د ځمکې د ژورو برخو د موادو د مطالعې لپاره مرسته کوي ځکه هغوی لاوا له ۲۰ څخه تر ۱۰۰ کیلو مترو ژوروالي د ځمکې مخ ته راوباسي.
- د ډبرو د نسبي عمر د ټاکلو لپاره معمول او د باور وړ میتود، پالیتولوژیکي تاریخ میتود دی.
- ډبرې رسوبي ډبرې د ژوو او نباتاتو پاتې شوني لري کومو چې د جیولوجیکي په جریان کې یې ژوند کاوه او له مړینې وروسته د هماغې لارې په رسوباتو کې ښخ شوي دی.
- پالیتولوژیکي میتود د دې امکان برابروي تر څو په یوه طبقه کې د عضوي پاتې شونو په لیدو سره، دنورو طبقو کوم چې له نوموړي طبقې څخه لیرې پرې دي د څرنگوالي په اړوند د نظر څرگندونه وکړو.
- د ژوو او نباتاتو د ژوند او د رسوباتو د جوړېدو مهال د پرتلې پر بنسټ، پوهان وتوانیدل تر څو د ځمکې د جیولوجیکي تاریخ جدول ترتیب کړي.
- د ځمکې ټول جیولوجیکي تاریخ د وخت له مخې په پنځو عصرونو ویشل کېږي چې له هر عصر سره د ډبرو یو گروپ مطابقت لري. عصر بیا په خپل وار په دورو او د ښه دقت په موخه دورې بیا په پېړیو ویشل کېږي.
- فسیل، د تیره شویو ژوو او نباتاتو پاتې شوني دی چې په جیولوجیکي بیلابیلو دورو کې یې ژوند کاوه او له مړینې وروسته له هماغې لارې په رسوباتو کې ښخ شوي دی.
- د فسیل د ساتنې لپاره ور چاییريال سمندرونه او جهيلونه گڼل کېږي.
- د هغو ژوو د ژوندانه شرایط او وده چې په جیولوجیکي بیلابیلو دورو کې یې ژوند کاوه د سمندرونو او وچو د سرحد او د ځمکې د طبقو د بدلونونو د پېژندنې او ټاکنې لپاره ښه وسیله گڼل کېږي.


د څپرکي پوښتي

۱. د جیولوجي علم پوهان او څیړونکي د ځمکې د ژورور برخو طبقې څه ډول مطالعه کوي؟
۲. د ډبرو د نسبي عمر د ټاکلو لپاره معمول او د باور وړ میتود کوم دی؟
۳. د ځمکې د جیولوجیکي تاریخ جدول په څو عصرونو ویشل شوي دي؟ د هر عصر نوم واخلئ.
۴. فسیل څه شي دی تعریف یې کړئ؟
۵. د فسیل د ساتني لپاره کوم چاپیریال وړ چاپیریال گڼل کېږي؟ او ولې؟
۶. د اوبو او وچي حدود او د ځمکې د طبقو بدلونونه چې په تېرو وختونو کې پېښ شوي څه ډول ټاکل کېږي؟
۷. د افغانستان په لویدیځ کې د سپین غره لړۍ چې لوړوالی یې سره یو ځای او نښتی وړ څو وروسته دی یو مهال په واسطه پرې شوي دی.
۸. د علي اباد د غره ډبرې چې کابل پوهنتون ته نږدې پروت دی لږ تر لږه کلونه پخوا او د قوروع د غره د چرني ډبرې له څخه تر میلیونو کلونو پخوا تشکیل شوي دی.
۹. پر سمندرونو، سمندرګیو او جهیلونو برسیره کوم نور ځایونه د ژوو او نباتاتو د پاتې شونو د ساتني وړتیا لري؟ سم ځواب په نښه کړئ.
- الف- یخچالونه
ب- د شګو توفالونه
ج- نفتي مواد او د اور شیندنونکو اېري
د- درې واړه ځوابونه سم دی.
۱۰. د کانیزوی عصر په کومو لاندینیمو دورو ویشل کېږي؟
- الف- پالیوجن، نیوجن او څلورمي
ب- پیرم، کاربن د ویون
ج- سیلور، اردویک، کمبري
د- تباشیر، ژوراسیک، تریاس

دویم څپرکی

ستر اټیګرافي

ځمکې د خپل جیولوژیکي تاریخ په اوردو کې، ډیر بدلونونه زغملې دي، بیلابیلې پروسی په کې واقع شوي او ډیرې لړې پېښې په کې منځته راغلي دي. اوس د جیولوژي بیلابیل علوم دغه پروسی او پېښې چې اوس هم روانې دي په څیر سره مطالعه کوي ښايي پوښتنه وکړي چې ستر اټیګرافي څه ته وايي، د ځمکې کومې برخې او پروسی څیرې او مطالعه کوي؟ رسوینې طبقې چې په سمندري حوزه کې منځته راځي څه ډول یو پر بل واقع کېږي؟ آیا دغه طبقې تل افقي حالت لري او یا د ګونځو په ډول هم راڅرګندېږي، څه ډول د طبقو د ستر اټیګرافي پر بنسټ د هغو نسبي عمر ټاکل کېږي؟ ستاسو پوښتنې د دې څپرکي د متونو د دقیقې مطالعې په ترڅ کې حل کېدای شي او تاسو به وتوانئ پرې چې د څپرکي په پلي کې د خپلو پوښتنو ځوابونه لاس ته راوړئ.



(۲-۱) شکل د طبقو افقي حالت

ستر اټیګرافي، تعريف او اهميت (*Stratig a h*)

ستر اټیګرافي له دوو يوناني کلمو (*Str at*) د طبقې په معنا او (*a h*) د مطالعې په معنا، څخه ترکیب شوي او هغه علم دی چې د رسوینې طبقو د ډیرو ترمینځ له موجودو اړیکو څخه بحث کوي. ستر اټیګرافي د جیولوژیکي پېښو د تشکیل په پېژندنه کې کومې چې په بیلابیلو جیولوژیکي وختونو

کې پېښې شوې او په ترڅ کې یې د رسوبي طبقو بیلابیل ډولونه په رسوبي حوزو کې منځته راغلي مرسته کوي او هم د فاسیسونو (*Ficite*) بدلونونه په بیلابیلو سیمو او ځایونو کې څېړي او مطالعه کوي چې د هغو په وسیله د ځمکې پخوانی جغرافیایي وضعیت (*ate ge ga h*) ښه تشخیص کولای شو.

سربیره پر دې د نباتي او حیواني بیلابیلو موجوداتو (*Fa a*) او (*F1 al*) د بشپړتیا او ودې پروسه، د ځمکې د بیلابیلو ډبرو بدلونونه، د ولکانونو فعالیت، رسوب کېدل او نور د ستراتیګرافي په بحث کې شاملېږي.

د ستراتیګرافي علم د اقتصادي جیولوجي په بیلابیلو برخو کې ډیر مهم او څرګند رول لوبوي له دې علم څخه د نفت، ګاز او اوبو د ذخایرو د برمه کولو دغه ډول د رسوبي کانونو لکه بوکسیتونه، نایترویتونه، فاسفاتونه، د ډبرو سکاره او نورو په اکتشاف کې کوم چې په جیولوجیکي بیلابیلو دورو کې خاصو رسوبي شرایطو لاندې منځته راغلي او هم د طبقو د نسبي عمر په ټاکلو کې ګټه اخلي.

د طبقو یو پر بل واقع کېدل

رسوبي مواد په یوه رسوبي حوزه کې د رسوب پر مهال یو پر بل په افقي ډول قرار نیسي دا ماده د وخت پر تېرېدو او د بیلابیلو لاملونو په ترڅ کې کلکېږي او د ډبرینو طبقو په بڼه بدلېږي. د رسوبي طبقو یو پر بل واقع کېدل د طبقو د نسبي عمر د ټاکلو لپاره یوه ښه ځانګړنه ګڼل کېږي ځکه د طبقو د تسلسل له مخې هغه طبقې چې لاندې واقع شوې لرغونې او هغه چې پورته واقع شوې وي ځوانې طبقې بلل کېږي، خو ځینې حالتونه هم رامنځته کېږي چې رسوبي طبقې خپل افقي حالت د هغو بیلابیلو لاملونو له امله چې د ځمکې له تل څخه سرچینه اخلي له لاسه ورکوي او ځوانې طبقې د لرغونو طبقو لاندې واقع کېږي دغه حالت د ګونځې توب حالت په نامه هم یادوي چې پدې صورت کې د طبقو نسبي عمر د پالیتولوژیکي میتود په مرسته چې په پخوانیو لوستونو کې ورته اشاره شوې ټاکل کېږي د فسیلونو


موجودیت او د هغه پېژندنه د پالیتولوژیکي میتود عمده اصل جوړوي.



(۲-۳) شکل د طبقو د چین خورلې حالت

د افقي واقع کېدو مرحله

طبقې په رسوبي حوزه کې (سمنډرونه، جهيلونه او سمنډرگي) په افقي ډول رسوب کوي او د طبقو دغه افقي حالت تر هغه مهاله ساتل کېږي چې رسوبي حوزه آرامه او د گلووډيو سره مخامخ شوي نه وي. که چېرې د ځمکې داخلي قواوې پر رسوبي حوزه واردي شي په هغه صورت کې طبقې خپل افقي حالت له لاسه ورکوي.



(۲-۴) شکل يو ډبل پرمخ د طبقو ځان نيول

فعالیت: یو لوبښی له اوبو ډک بیا یوه اندازه خټه په کې واچوي څه موده وروسته چونه او بیا یو مهال وروسته یوه اندازه شگه په کې واچوئ لوبښی په یوه آزاده هوا کې د لمر وړانگوته مخامخ کېږدی. له وچېلو وروسته وگورئ چې نوموړي مواد څه ډول یو پر بل واقع شوي.

د پالیتولو جی له نظره د طبقو د ورته والي پړاونه

د ژوندیو موجوداتو پاتې شوني چې په جیولوجیکي بیلابیلو زمانو کې د ځانگړو شرایطو لاندې په رسوبي طبقو کې روغ رمټ پاتې شوي د نسبي عمر په ټاکلو او له نورو هغو طبقو سره د تړاو په لرلو کې چې په بیلابیلو سیمو کې واقع شوي تېر مهم رول لري. خو په ځینو حالاتو کې د یو لړ بیلابیلو جیولوجیکي لاملونو له امله په طبقو کې درزونه او شکستونه منځته راځي د طبقو یوه برخه پورته ځي او بله برخه یې ښکته خواته حرکت کوي او یا هم گونځي په کې پیدا کېږي چې د طبقو تسلسل او لومړنی افقي حالت له ستونزو سره مخامخ کوي.

پوهېږو چې یو مهال د امریکا او افریقا وچې یو ځای او یوه واحده کتله یې جوړوله خو وروسته دا دوه وچې د پلټنکو نیکي نظريې پر بنسټ یو له بله جلا شوي دي.

یو له هغو دلیلونو څخه چې جیولوجستان یې د دې دوه وچو د یوځای والي په اړوند وړاندې کوي د دې دواړو وچو په طبقو کې د لوی بدن لرونکو ژوو (دانیاسور) د فسیلونو شتون دی.

که چېرې دا دواړه وچې یوځای نه وي څه ډول د لوی بدن لرونکي ژوی کولای شي په سمندر کې زړگانه کیلو متره واټن په لاهمو وهی او ځانونه بلې وچې ته ورسوي؟

د بیلابیلو فسیلونو شتون د جیولوجستانو سره مرسته کوي تر څو دواړو وچو په اړوند فکر وکړي او خپلې نظريې وړاندې کړي. دغه مسئله نورو طبقو لپاره هم صدق کوي د فسیلونو دورته والي پر بنسټ کولای شو د طبقو نسبي عمر سره له دې چې په بیلابیلو سیمو کې واقع شوي وي پیدا کړو.

د مطلق عمر ټاکل

د ډبرو او طبقو د نسبي عمر د ټاکلو په اړوند په پالیتولوجیکي میتود کې اوږد بحث تر سره شوی خو نوموړي میتود نه شي کولای د دورې د دوام او د دورې د پیل او ختم د دقیق وخت په اړوند قانع کورنکي ځواب ورکړي. ځمکه پېژندونکو اوږده موده زیار ایستلی تر څو د ډبرو او طبقو عمر په مطلق

ډول يعنې په کال معلوم کړي يو له هغو ميتودونو څخه چې د مطلق عمر د ټاکلو لپاره ډېر ارزښتمن دی راديو لو جیکي طريقه ده.

راديو لو جیکي طريقه په ډېرو کې د راديو اکتیوي عناصرونو د لږي اندازي موجودیت لکه یورانیم ، رادیم Ra ، توریم Tn ، راديو اکتیوي پوتاشیم⁴ ، راديو اکتیوي کاربن او د هغو د ایزوتوپونو پرنسب استواره ده.

راديو اکتیوي عناصرونه د بهرنیو لاملونو له مداخلې پرته د وخت له تیرېدو سره په خپله تجزیه کېږي او په نورو عناصرونو بدلېږي د بېلگې په ډول یورانیم په سرب او راديو اکتیوي پوتاشیم د ارگون په گاز بدلېږي.

د پروسې د تجزيې دوام زښت زیات دی د بېلگې په ډول د یورانیم د اټومونو د نیمې تجزيې دوره ۷۰۰ میلیونه کلونه ده. د کیمیاوي دقیقې تجزيې او تحلیل په واسطه کولای شو چې د سربو د نیو تشکیل شوو اټومونو اندازه معلومه کړو او وښایو چې په کومه اندازه د یورانیم نه تجزیه شوې اټومونه په ډېره کې پاتې دی. هلمس د یوې ډېرې د تشکیلېدو د مهال په اړوند یو فورمول وړاندې کړ چې د هغه په مرسته د منرال د تشکیلېدو دقیق وخت مشخص کیدای شي دغه راز د پوتاشیم⁴ او کاربن C¹⁴ له طریقو څخه د مطلق عمر په ټاکلو کې کار اخیستل کېږي.

د خپرکي عمده ټکي

- ستراتيگرافي له دو یوناني کلمو *Strat* (د طبقي په معنا) او *ta* (د مطالعي په معنا) څخه ترکیب شوي ده او هغه علم دی چې د رسوبي ډبرینو طبقو تر منځ له موجودو اړیکو څخه بحث کوي.
- ستراتيگرافي د ژونديو حیواني (*Fossil*) او نباتي (*Fossil*) بیلابیلو موجوداتو د بشپړتیا پروسه، د ځمکې د بیلابیلو رسوبي ډبرو تحول، د ولکانونو فعالیت، د رسوب پروسه او نور د بحث لاندې نیسي.
- ستراتيگرافي د اقتصادي جیولوجي په بیلابیلو برخو کې اغیزمن رول لوبوي.
- رسوبي مواد په رسوبي حوزه کې د رسوب پر مهال یو بر بل په افقي ډول قرار نیسي چې د وخت په تیریدو او نورو بیلابیلو لاملونو په ترڅ کې کلکېږي او د ډبرینو طبقو په بڼه بدلېږي.
- هغه طبقي چې لاندې واقع شوي وي لرغونې او هغه چې پورته یې موقعیت نیولی وي ځوانې طبقي بلل کېږي.
- د طبقو افقي حالت تر هغه مهاله ساتل کېږي چې رسوبي حوزه ارامه او له کومې گهړوې سره مخامخ شوې نه وي.
- په ځینو حالاتو کې د ځینو بیلابیلو جیولوجیکي لاملونو په ترڅ کې رسوبي طبقي درزونه او شکستونه پیدا کوي، د طبقي یوه برخه پورته خواته او بله برخه ټپي بڼکته خواته حرکت کوي چې په دې حالت کې د طبقو د تسلسل او لومړني افقي حالت تعینول ډیر ستونزمن کېږي.
- د امریکا او افریقا د وچو د یوځای والي د نظریې په اړوند د جیولوجستانو یو دلیل د دواړو وچو په طبقو کې د لوی بدن لرونکو ژوو (دانیاسون) د فسیلونو شتون دی.
- د ډبرو او منرالونو مطلق عمر د راډیولوجیکي طریقې په مرسته په مطلق ډول (په کال) ټاکل کېږي.
- په ډبرو کې د راډیو اکتیف عنصرونو تجزیه او موجودیت د ډبرو د مطلق عمر په ټاکلو کې مرسته کوي.
- د مطلق عمر د ټاکلو میتودونه په طبقه کې د تجزیه کېدونکو عنصرونو (لکه ⁴C او ¹⁴C) پر اساس نومول کېږي.
- د یورانیوم د نیمې تجزیه دوره ۷۰۰ میلیونه کاله ده.

د څپرکي پوښتني

۱. د ستراتيگرافي علم د بحث موضوع کومه پوه ده په لنډه توگه يې تشریح کړئ.
۲. ستراتيگرافي د اقتصادي جيوولوجي په زمينو څه ډول رول لري؟
۳. ايا روسوي طبقې تل افقي حالت لري يا بدلونونه په کې ليدل کېږي؟
۴. ايا د روسوي طبقو افقي حالت د طبقو د نسبي عمر په ټاکلو کې مرسته کولای شي؟
۵. په يوه روسوي حوزه کې د طبقو افقي حالت تر کوم وخته روغ رست پاتې کېږي؟
۶. د امريکا او افريقا د وچو د ورته والي په اړوند چې يو مهال سره يو ځای وي يو څرگند مثال ووايست.
۷. راډيولوجيکي طريقه په ډبرو کې د راډيو اکټيويټي عنصرونو د لږې اندازې موجوديت لکه..... پر بنسټ استوار ده.
۸. د يورانيم د نيمې تجزيې دوره..... ميلونه کاله ده.
۹. د ډبرو د مطلق عمر د ټاکلو په موخه له کومو لابډينو ميتودونو څخه کار اخلي.
 - الف- د يورانيم تجزيه
 - ب- د پوتاشيم⁴ طريقه
 - ج- د C¹⁴ طريقه
 - د- دري واړه څوابونه سم دي.
۱۰. په کومه يوه لابډيني روسوي حوزه کې روسوي ډبرې تشکيلېږي.
 - الف- سمندرونه
 - ب- سمندرگي
 - ج- جهيلونه
 - د- دري واړه څوابونه سم دي.

اتمه برخه سمندر ونه

ښايي له تاسو څخه ځينو سمندرونه له نږدې ليدلي وي خو ډېرو ښايي سمندرونه نه وي ليدلي، ځکه زموږ هيواد په وچه محاط دی او سمندر ته لاره نلري خو ډاډه يو چې تاسو په تصويري او چاپي رسنيو کې سمندرونه ليدلي دي او د هغو له نومونو سره بشپړه بلدتيا لری. د جغرافيايي په مضمون کې مو هم د سمندرونو او د هغو د جغرافيايي موقعيت په اړوند ځيني معلومات مطالعه کړي دي خو سره له دې هم ډيرې پوښتني مو په ذهن کې گرځي چې د سمندرونو ژوروالی څومره دی؟ څومره ساحه يې نيولي ده؟ د سمندرونو تل او سواحل څه ډول دي؟ آیا د سمندر تل آوار دي يا لورې، په کې ليدل کېږي؟ د سمندر د اوبو کيفيت څه ډول دی. د سمندرونو اوبه تروي دي که خوږې؟
دغه ډول ډيرې پوښتني چې د خواب پيدا کولو په لټه کې يې باست. که چيرې په دې برخې کې شاملې موضوعگانې په څير سره ولولئ په ډاډه سره ولاړی شو چې د خپلو پوښتنو ډيری خواښونه به پيدا کړی او د سمندرونو په اړوند به ستاسو معلومات لا ډير شي.



لوهری څپرکی

د سمندرونو تصنیف

سمندرونو په ټوليزه توگه د ځمکې د مخ ۳۱ میلیونه کيلو متر مربع مساحت نیولی دی. د نړۍ نقشې ته وگورئ ټول، سمندرونه په شنه رآبی، رنگ لیدلای شی؛ په ظاهره معلومېږي چې اوبو د ځمکې مخ د اندازه یو شان پوښلي ده په داسې حال کې چې سمندرونه د خپلو ځانگړو ځانگړتیاوو له مخې سره یو ډول نه دي د هغو د ساحل او تل په ریلیف کې بدلونونه ترسترگو کېږي.

اوس پوښتنه پیدا کېږي چې دا بدلونونه څه ډول دي؟ او څه ډول د دې بدلونونو پر بنسټ د اوبو په واسطه نیول شوي برخې ویشل کېږي.

په دې څپرکي کې طرحه شوي مطلبونه تاسو د سمندرونو له بیلابیلو ناحیو سره بلدوي.

۱- ساحلي ناحیې: دغه ناحیې چې ژوروالي یې له څو محدودو مترونو څخه تجاوز نه کوی د سمندري ژوو لکه کبانو، چنگابنانو او نورو پاره د ژوندانه وړ سیمې بلل کېږي.

ځکه د دې ناحیو ژوروالی له صفر څخه تر ۲۰۰ مترو رسېږي او د لمر وړانگې کولای شي دې ژوروالي ته نفوذ وکړي، د ساحلي ناحیو تودوخه د سانتي گراد لږ تر لږه ۲۵ درجو ته رسېږي د اکسیجن کچه اود لمر وړانگې پکې ډیرې دي.

۲- لږي ژورې ناحيې: دغه ناحيې د وچې د مستقيم اغيز او نفوذ لاندې واقع دي او ځيني ژوي لکه سمندري ستوري او لوی کبان په کې ژوند کوي د دې ناحيو ژوروالی له ۲۰۰ څخه تر ۲۰۰۰ مترو پورې دی چې د لمر وړانگې کولای شي تر معين ژوروالي نفوذ وکړي او د پورتيو ژوندپو موجوداتو د ژوند د دام لپاره بڼه زمينه برابروي د دې ناحيو تودوخه د سانتي گراد ۵ درجې ثابتې شوي ده.

۳- ژورې ناحيې: دغه ناحيې ډيرې ژورې او له ساحل څخه لږې واقع شوي دي چې ژوروالی يې ۲۰۰۰ مترو ته رسېږي د ځينو سمندرونو په ځينو برخو کې دا ژوروالی ۱۰۰۰۰ مترونه پراختيا مومي، په دې ناحيو کې د زيات ژوروالي په خاطر د څپو اغيزې لږې ليدل کېږي؟

د سمندرونو د تل فزيوگرافي

د سمندرونو په ژورو کې د تل ريليف ډير پيچلي دی د سمندري پراخو ميلان لرونکو آرابو پر مخ، لږي او ژورې کتلې(سمندري تنگي) او د لوړو غرونو لږی ليدل کېږي که له دې جزبي نا آرابو څخه صرف نظر وکړو په هغه صورت کې کولای شو د سمندرونو د تل په ميلان لرونکو ژورو کې يوه عمومي قانونمندي وټاکو. لومړی له ساحل څخه تر ۲۰۰ مترو ژوروالي، د سمندرونو تل د ساحل د ميلان زوالی ته ورته د ميلان زاويه لري او يوه واحده سطحه منځته راوړی چې د قاره يي کرانې په نامه يادېږي. د دې سطحې د اوبو لاندې برخه د شيلف يا وچې د اوبو لاندې انتها په نامه يادېږي. له شيلف څخه وروسته (د سمندرونو او سمندرگيو ژورو برخو په خوا) د تل ميلان ډير ډيرې چې د سمندر تل دا برخه له ۲۰۰ څخه تر ۳۰۰ مترو پورې د قاره يي ميلان په نامه يادېږي.

سمندري کاسه: د سمندر د تل پراخ عنصر دی چې ۲۰۰ ميليونه کيلو متر مربع ساحه يې نيولي او له ۳۰۰۰ څخه تر ۶۰۰۰ مترو په ژوروالي موقعت لري. اوس ثابتې شوې چې د سمندر د تل دا برخه هم آواره نده.

د تل د ژوروالي له مخې په سمندرونو کې ځانگړې سيمې (زونونه) بيلوي د سمندر هغه برخه چې د قاره يي کرانې د پاسه د اوبو لاندې موقعت لري د شيلف په نامه يادېږي دا منطقه په خپل وار په دوو

فرعي منطقو لیتورالي (لیتورالیس په یوناني ژبه کې د ساحل معنا لري) او نیرتني ویشل کېږي. لیتورالي فرعي منطقه د ساحل هغه برخه وه چې په موقتي او تناوبي ډول د توفانونو پر مهال په اوبو پورېښل کېږي؟

نیرتني فرعي منطقه تر ۲۰۰ مترو ژوروالي ته رسېږي د اوبو طبقه پلدي منطقه کې له څپو اغیزمنه کېږي او د لس وړانګې دا منطقه بڼه روښانه کوي.

د قاره یي میلان د پاسه منطقه د باتیالي زون (منطقه) او د سمندري کاسې د پاسه د ایسالي زون په نامه یادېږي.

هر زون د عضوي نړۍ یوه ټولګه او د ځانګړو جیولوجیکي پروسو د پرمختګ شرایط لري.

د څپرکي عمده ټکي

- سمندر ونه په ساحلي، لږو ژورو او ژورو ناحيو وېشل شوې دي.
- د ساحلي ناحيو ژوروالي له صفر څخه تر ۲۰۰ مترو د لمر وړانگې کولای شي په دې ناحیه کې تر ټاکلي ژوروالي نفوذ وکړي، سمندري ژوي لکه سمندري ستوري او لوي کبان په دې ناحيو کې ژوند کوي.

• ژورې ناحيې له ساحل څخه ليری واقع شوي، ژوروالي يې د ۲۰۰۰ مترو په شاوخوا کې دې چې په ځينو ځايو کې تر ۱۰۰۰۰ مترو رسېږي پدې ناحيو کې د څپو اغيزې لږې دي.

• د سمندرونو د تل ريليف يا فزيوگرافي ډېره پيچلې ده د سمندري ميلان لرونکو پراخو آواريو پر مخ، لويې او ژورې کنډې او د لوړو غرونو لري ليدل کېږي.

• د سمندر له ساحل څخه تر ۲۰۰ متر ژوروالي، د سمندرونو تل د ساحل د ميلان زاويې ته ورته د ميلان زاويه لري او يوه واحده سطحه منځته راوړي چې د قاره يي کراني په نامه يادېږي له شيلف وروسته د بستر ميلان زياتېږي چې دبحر دېستر دا برخه ۲۰۰ څخه تر ۳۰۰۰ متر پورې د قاره يي ميلان په نوم يادېږي.

• د قاره يي کراني هغه برخه چې د اوبو لاندي موقعيت لري د وچې د اوبو لاندي انتها په نامه يادېږي.

• د سمندر د تل يو پراخ عنصر د سمندري کاسې په نامه يادېږي چې ۶ ۲ ميلیونه کيلو متر مربع مساحت لري او له ۳۰۰۰۰ څخه تر ۶۰۰۰ مترو ژوروالي موقعيت لري.

- د سمندرونو د تل د ژوروالي له مخې په سمندرونو کې ځانگړې منطقي (زونونه) جلا کوي.
- د اوبو لاندي قاره يي کرانه په دوو فرعي منطقو لیتورالي او نيرتي وېشل کېږي.
- د قاره يي ميلان د پاسه منطقه د باتيالي زون او د سمندري کاسې د پاسه د ايسالي زون په نامه يادېږي.

د څپرکي پوښتني

۱. سمندر ونه په کومو ناحيو ویشل شوي نومونه يې واخلي؟
۲. ژورې ناحيې څومره ژوروالی لري او آیا د لمر وړانگې دې ناحيو ته نفوذ کولای شي يا نه؟
۳. په ساحلي او لږ ژورو ناحيو کې کوم ژوي ژوند کوي؟
۴. د سمندرونو د تل د فزيوگرافي په اړوند څه پوهيږئ تشریح يې کړئ؟
۵. د قاره يي کراني په اړه معلومات ورکړئ.
۶. د سمندر د تل پراخ عنصر په کوم نامه يادېږي مساحت او ژوروالی يې څومره دی؟
۷. د سمندرونو د تل ريليف يا فزيوگرافي څيره پيچلې ده د سمندري ميلان لرونکو پراخو آواريو پرمخ او ليدل کېږي.
۸. له شيلف څخه وروسته (د سمندرونو او سمندرگيو ژورو برخو په خوا) څخه تر مترو څيرېږي چې د سمندر د تل دا برخه له په نامه يادېږي.
۹. قاره يي کرانه يا شيلف په کومو فرعي منطوقو ویشل کېږي سم ځواب په نښه کړئ.
الف- ليتورالي اونيرتني ب- ايسالي ج- باتيالي د- هيڅ يو
۱۰. د قاره يي ميلان د پاسه منطقه په کوم يولاندېني نوم يادېږي هغه په نښه کړئ :
الف- باتيالي ب- ايسالي ج- ليتورالي د- نيرتني

دويم څپرکي

فيزيکي او شيانوگرافي

فيزيکي او شيانوگرافي د سمندرونو د فزيکي او ديناميکي ځانگړتياوو د مطالعې علم دی. دا علم د سمندري اوبو د جرياناتو، څپو او نورو ځانگړتياوو څخه بحث کوي. نننۍ تکنالوجي د سمندر پيژندونکو سره مرسته کړې ترڅو د سمندرو د اوبو حرکت، هغه قواي چې دغه حرکت منځته راوړي لکه بادونه، څپي، مد او جزر په نښه توگه مطالعه کړي.

ناسو ته هم ډيرې پوښتنې د فزيکي او شيانوگرافي په هکله پيدا شوي دي ځکه دا موضوع ډيره په زړه پورې ده او هر څوک غواړي د هغو پلېدو په هکله چې د حرکتونو، جريانونو او څپو د رامنځته راتگ لامل گرځي پوه شي.

آيا پوهيږئ چې د سمندرونو اوبه حرکت لري؟
آيا غواړئ پوه شي چې د سمندري اوبو حرکتونه له کومو طبيعي پلېدو سره تړاو لري؟ آيا د مد او جزر په هکله معلومات لري؟ آيا غواړئ پوه شي چې مد او جزر د سمندري اوبو په حرکت اغيز پرېناسي. د سمندري اوبو د حرکتونو جريانونو او نور ځانگړتياوو سربيره په سمندرونو کې د مالگې کچه، کثافت، د اوبو تودوخه او د رسوباتو توليد په زړه پورې موضوعگانې دي چې پدې څپرکي کې ځای پر ځای شوي دي. که چېرې ناسو د دې څپرکي محتويات په څير ولولئ پدې ټولو مسائلو به پوه شئ او ستاسو ډيري پوښتنې به ځواب ومومي.

څپي او جريانونه

په سمندرونو او سمندرگيو کې د اوبو د حرکت ډولونه له مد جزر څپو او جريانونو څخه عبارت دي. څپي په اصل کې د بادونو په واسطه منځته راځي په هر اندازه چې د باد چټکوالی او د سمندر ساحه پراخه وي په هم هغه اندازه لويې څپي جوړېدای شي په سمندرونو کې د څپي اعظمي لوړوالی تر ۱۴ او حتي ۱۸ مترو پورې رسېږي هغه لويه څپه چې تر اوسه ليدل شوی په آرام سمندر کې منځته راغلي او ۳۴ متره لوړوالی يې درلود.

مد او جزر د سمندر د اوبو له اهتر ازانو څخه عبارت دي چې د لمر او سپوږمۍ د جاذبې قوې په واسطه منځته راځي، د سپوږمۍ په واسطه د رامنځته شوي مد کچه د لمر په واسطه د رامنځته شوي مد د کچې په نسبت دوه ځله ډیره ده. په یوه شپه او ورځ کې دوه مده او دوه جزره منځته راځي مد په لږو ژورو ساحلونو کې په څرگند ډول احساسیږي په هغه ځای کې د اوبو ټوله کتله له ساحل څخه د وتلو پر مهال لورېږي او ۶ ساعته په ساحل کې څپې وهي. د مد لوړوالي د ساحل په بېلابېلو برخو کې که څه هم په یوه سمندر کې واقع وي یو ډول نه وي؛ د بېلګې په ډول د مد لوړوالي د اطلس په سمندر کې دهلن سپېڅلي ټاپو ته نږدې متره د فرانسې په ساحلونو کې 124 متره او د شمالي امریکا په سواحلو کې په اعظمي ډول 120 مترو ته رسېږي مد په ځینو مواردو کې د څپو ویجاړونکي عمل ته شدت بخښي او له منځني ساحلي لیکي څخه لیري پراته ساحلونه مینځي. د سمندر داوبو حرکت په لومړي قدم کې د باد په واسطه او په دویمه درجه د تودوخې د درجې په توپیر او د سمندر په اوبو کې د حل شویو موادو په کچې پورې تړاو لري.

د پورتنيو لاملونو په پایله کې د اوبو ډیره کچه یوه ټاکلي لوري ته جریان پیدا کوي او له یوه ځای څخه بل ځای ته لیږدول کېږي ډیر پېژندل شوي جریانونه د شمال اتلانتيک جریان، د استوا د شمال جریان، د استوا د جنوب جریان او نور نږدېوال شهرت لري.



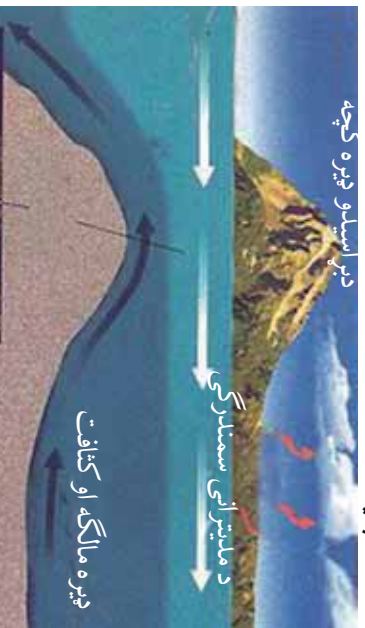
(۱-۲) شکل د سمندرونو د اوبو څپې

د مالګې کچه

ډیرې کیمیاوي عنصرونه د سمندر په اوبو کې په حل شوي بڼه لیدل کېږي اوس مهال ځینې عنصرونه لکه آیوډین، برومین، فلورین او تور د سمندر له اوبو څخه لاسته راوړي ډیر عنصرونه په لږه کچه د سمندر په اوبو کې شتون لري او یوازې څلور کیمیاوي عنصرونه (اکسیجن، هایدروجن، کلورین اوسودیوم) په سلو کې د وزن له مخې د سمندر اوبه جوړوي. په سمندري اوبو کې د کیمیاوي عنصرونو او حل شویو مرکبونو کچه د مالګې د کچې د معلومولو پواسطه ټاکل کېږي. د سمندر په اوبو کې د مالګې منځنۍ کچه له ۳۵ ګرامه په یو لیتر (پرومیل) سره برابره ده خو په ځینو مواردو کې دا کچه تر ۳۱ او حتی تر ۳۷ ګرامو پریو لیتر کې بدلون مومي. هغه مهمې مالګې چې د سمندر په اوبو کې پیدا کېږي له کلورایدونو د سلفاتونو او کاربوناتونو څخه عبارت دي. ټول دا مرکبونه د ځانګړو فزیکي او کیمیاوي شرایطو لاندې په حل شوي ډول دي هر کله چې دا شرایط بدلون ومومي؛ د بیلګې په ډول: پراسیل زبات شي پدې صورت کې د محلول د غلظت لامل ګرځي او مالګې د سمندر په تل کې رسوب کوي.

د سمندر اوبو تودوخه او کثافت

د سمندر اوبو د تودوخې درجه په قطبي سیمو کې د سانتي ګراد (۳-) درجو ته او په استوايي سیمو کې د سانتي ګراد (۲۲+) درجو ته رسېږي. د سمندر له اوبو د تودیدو اصلي لامل د لمر وړانګې دي چې تر ۱۰۰ متره ژوروالي نفوذ کوي د لمر د وړانګو د تودوخې ډیره برخه د اوبو مخ ته نږدې جذبېږي. د اوبو مخ بیلابیله تودوخه لري. له ۵۰۰ مترو څخه په ډیر ژوروالي د اوبو تودوخه ثابتې او د سانتي ګراد له څلورو درجو سره برابره ده. په ځینو حالاتو کې حتی په استوايي تودو اوبو کې د تودوخې کچه په ناڅاپي ډول د سانتي ګراد له ۲۲ درجو څخه د سانتي ګراد څلورو درجو ته ټیټېږي.



(۲-۲) شکل د سمندرونو د اوبو کثافت او تودوخه

د سمندري اوبو کثافت له بېلابېلو لاملونو لکه تيروالي، تودوخه او په اوبو کې د معلقو موادو له کچې سره تړاو لري په هر اندازه چې اوبه تروي او معلق مواد په کې ډېرې په هم هغه اندازه کې کثافت هم ډېرېږي.

فعاليت: لاندیني منځني خطونه د اطلس سمندر پر مخ له شمالي ۶۰ درجو څخه تر جنوبي ۶۰ درجو پورې د تيروالي، کثافت او تودوخې بدلون بڼې ووايي چې د دې منځني خطونو ترمنځ څه ډول رابطه موجوده ده.

سمندري رسوبات: څرگنده ده چې سمندرونه او سمندري څمکې د مخ ډېرې ژورې برخې دي چې د دانه لرونکو موادو ډېره کچه په کې رسوب کوي او په هغو کې ذخيره کېږي.

سمندري رسوبات په ډبرو لاندنيو گروپونو وېشل کېږي: تريجنې (چې قاره يي منشا لري) کيمياوي (له کيمياوي تعاملونو څخه منځته راځي) او عضوي (د ژونديو موجوداتو له فعاليت سره تړاو لري). **تريجنې رسوبات:** هغه مواد چې له وچې څخه د سيندونو په واسطه لېږدول کېږي د سمندر په ټولو منطوقو کې ليدل کېږي خو ډېره کچه يې په نيرتي او ليتورالي ساحو کې رسوب کوي. د ليتورال په منطقه کې يا په هغه ساحه کې چې د لنډ مهال لپاره د اوبو لاندې شوې وي تريجنې مواد رسوب کوي چې له جغل، شگې او ډبر لږ له لوش څخه عبارت دي. د نوموړو موادو ډېره برخه گرده اوبنوبه شوې وي ځکه د مد او جزر د څپو او جريانونو په واسطه رسوب بندۍ او راټول شوي دي.

کيمياوي رسوبات: لکه چې په مځکيني لوست کې ورته اشاره وشوه د سمندر اوبه لږ تر لږه د دوراني جدول ټول عنصرونه له ځان سره لري دامواد په حل شوي ډول په اوبو کې ليدل کېږي او د شرايطو په برابرېدو سره رسوب کوي. د بېلگې په ډول: د کلسين په سمندري کې د اوبې په موسم کې د څپرو مالگه او په ژمي کې ميرابليت رسوب کوي د پورټينو مالگو د رسوب پر عملېه کې تودوخه اصلي رول لري او پدغه دليل په توده هوا کې يو ډول مالگه او په ټيټه تودوخه کې بل ډول رسوب کوي، دغه راز د اهکې رسوبانو يوه برخه د سمندر په تودو اوبو کې تشکيلېږي او ساحل ته نږدې په ځپاند حالت کې، اهک د متحامل مرکز قشرونو په بڼه د يوه جسم په شاوخوا راکه د شگر د ډبرو ټوټې، صدف او نورو) وده کوي.

عضوي رسوبات

سمندرزونه او سمندرگي له ژونديو ارگانيزمونو څخه بڼای دې، په هغو کې د ۱۶۰ زرو په شاوخوا کې ژوندي موجودات او ۱۰ زره ډوله الهي ژوند کوي.

د عضوي منتلارونکو ډبرو په تشکیل کې د سمندر ټول ژوي او نباتات برخه نه اخلي یوازې هغه چې د خپل دفاعي قشر (صدف) یا داخلي اسکلیت لپاره د اوبو له منرالي ذرو څخه ګټه اخلي مهم رول لوبوي. صدفونه چې په عمومي ډول له کلسیم کاربونیټ $CaCO_3$ او د سیلیسیم اکساید (SiO_2) څخه جوړ شوي د ژوو له مړینې وروسته په ډبره کچه د سمندرونو د تل پر مخ رسوب کوي او صدفې ډبرې منځته راوړي. دغه ډبرې ډبر مهال د سمندر په لږه ژوره برخه (د شیلف په ناحیه) کې له ۱۰۰ څخه تر ۲۰۰ مترو ژوروالي رسوب کوي. که صدفونه د څپو په واسطه مات شي د اهلکي شګې ترمیت د رامنځته کېدو لامل ګرځي. دغه راز مرجانونه هم له رسوبي ډبرو څخه شمېرل کېږي کوم چې د سمندر په تل د نینیلونونکو ژوو له پاتې شونو څخه منځته راځي.

د څپرکي عمده ټکي

- په سمندرونو او سمندرگيو کې د اوبو د حرکت ډولونه له مډ او جزر، څپو او جريانونو څخه عبارت دي.
- څپي د باد په واسطه منځته راځي په هر اندازه چې د باد چټکوالی ډير وي په هم هغه اندازه لويې څپي جوړېږي.
- مډ او جزر د سمندري اوبو، له اهتراناتو څخه عبارت دي چې د لمر او سپوږمۍ د جاذبوي قوي په واسطه منځته راځي.
- د سمندري اوبو حرکت په لومړي قدم کې د باد په واسطه صورت نيسي او په دويمه درجه د تودوخې د درجې توپير او د سمندر په اوبو کې د حل شوو موادو له کچې سره تړاو لري.
- ډير مشهور جريانونه له شمالي اتلانتيک جريان، د استوا د شمال جريان، داستوا د جنوب جريان څخه عبارت دي.
- د سمندر په اوبو کې ډير عنصرونه په حل شوي ډول شتون لري خو يوازې څلور عنصرونه (اکسيجن، هيلدروجن، کلورين او سوډيم) په سلو کې د وزن له مخې د سمندر په اوبو کې وجود لري.
- د سمندرونو په اوبو کې د مالګې منځنۍ کچه ۳۵ گرامه په يو ليتر کې ده خو په ځينو موادو کې دا کچه تر ۳۱ حتی ۳۷ گرامو پريو ليټريوري رسېږي.
- هغه مهمې مالګې چې د سمندرونو په اوبو کې پيدا کېږي له کلورايډونو، سفاتونو او کاربوناتونو څخه عبارت دي.
- د سمندري اوبو د تودوخې درجه په قطبي سيمو کې د سانتي گراد ۳- درجو ته او په استوايي سيمو کې ۲۳+ درجو ته رسېږي.
- د سمندري اوبو د تودېدو اصلي لامل د لمر وړانګې دي چې تر ۱۰۰ مترو ژوروالي نفوذ کوي.
- د سمندري اوبو تودوخه له ۵۰۰ مترو څخه په ډېر ژوروالي ثابتې پاتې کېږي او د سانتي گراد څلور

درجه ته رسيږي.

- د سمندري اوبو کثافت په بېلابېلو لاملونو لکه تریوالي، تودوخه او په سمندري اوبو کې د معلقو موادو له شتون سره تړاو لري.

- سمندري رسوبات په درېو ګروپونو تریجنې، کیمیاوي او عضوي ویشل کېږي.
- تریجنې مواد په عمومي ډول له جغل، شګې او لږه اندازه له لوش څخه جوړ شوي دي.
- د کسپین په سمندګرګي کې د اوبې پر مهال د خوړو مالګه اوبه ژمي کې میرابلیت رسوب کوي.
- د کیمیاوي رسوباتو د رسوب په عملیه کې تودوخه اصلي رول لوبوي.
- د اډکې ډبرویوه برخه د سمندرونو په تودو اوبو کې جوړېږي.
- سمندرونه او سمندګرګي له ژونديو ارګانیزمونو څخه بډای دي په هغو کې د ۱۶۰ زرو په شاوخوا د ژونديو موجوداتو ډولونه او ۱۰ زره ډوله الجي ژوند کوي.
- د عضوي منشا لرونکو ډبرویوه جوړېدو کې یوازې هغه ژوي، چې د دفاعي قشر (صدف) د بدلون او داخلي اسکلیټ لپاره د اوبو له منرالي ذرو څخه ګټه اخلي ارزښتناک رول لري.
- صدفونه په عمومي ډول له کلسیم کاربونیټ او د سیلیسیم اکساید څخه جوړېږي.

د څپرکي پوښتني

۱. د سمندري اوبو د حرکت نومونه واخلئ.
۲. مډ او جزر تعريف کړئ.
۳. د سمندري اوبو د حرکت د اصلي لاملونو نومونه واخلئ.
۴. هغه کوم څلور کيمياوي عنصرونه دي چې په سلو کې د سمندري اوبو حل شوي مواد جوړوي؟
۵. د سمندرونو په اوبو کې د مالګې منځنۍ کچه څومره ده او تر کوم حده بدلون مومي؟
۶. د سمندري اوبو د تودوخې کچه په قطبي او استوايي سيمو کې د ساتني ګراد څو درجو ته رسېږي.
۷. د سمندري اوبو، د توديدو اصلي لامل کوم دي؟ واضح يې کړئ؟
۸. سمندري رسوبات په کومو لاندینو ګروپونو ويشل کېږي سم ځواب په نښه کړئ.
 - الف- تريجنيني ب- کيمياوي ج- عضوي د- درې واړه
۹. د څپې اعظمي لوړوالی په سمندرونو کې څو مترو ته رسېږي؟ سم ځواب په نښه کړئ.
 - الف- له ۱۴ مترو څخه تر ۱۸ مترو ب- له ۴ مترو څخه تر ۸ مترو
 - ج- له ۲۰ مترو څخه تر ۳۰ مترو د- ۳۴ متره
۱۰. د سمندرونو ډېر مشهور جريانونه له..... او نورو څخه عبارت دي چې نړيوال شهرت لري.